




تعداد صفحه: ۲ تاریخ: دی ماه نام آموزگار:	باسمة تعالی وزارت آموزش و پرورش	آموزشگاه: آزمون مداد کاغذی ریاضی نام و نام خانوادگی:
	با دو عدد ۴ و ۶ هرچقدر می توانید عدد دورقمی بنویسید. .....	۱
۰ ۱ ۲ ۳ ۴ ۵ ۶ ۷ ۸ ۹ ۱۰ ۱۱ ۱۲ ۱۳ ۱۴ ۱۵ ۱۶ ۱۷ ۱۸ ۱۹ ۲۰	مسئله ی زیر را با رسم محور انجام دهید. ۱۴ پرندۀ روی درخت بودند . ۶ تا از پرندۀ ها پریدند . حالا چند پرندۀ روی درخت مانده است؟	۲
$۶ + ۵ + ۴ =$	حاصل جمع زیر را با رسم شکل به دست بیاورید. 	۳
$۹۰ - ۴۰ =$ <input type="text"/> $۵ + ۵ + ۴۰ + ۳۰ =$ .....	حاصل جمع و تفرق های زیر را پیدا کنید. $\begin{array}{r} ۷۶ \\ -۲۲ \\ \hline \end{array}$ $\begin{array}{r} ۴۵ \\ +۲۳ \\ \hline \end{array}$	۴
مربع: 	مثلث:  گوشه: _____ ضلع: _____	۵ با کمک شابلون دوشکل <u>مربع و مثلث</u> را رسم کنید . و هر کدام <u>چند گوشه و چند ضلع</u> دارند؟ گوشه: _____ ضلع: _____
	بزرگترین عدد <u>دورقمی</u> چیست ؟ ..... کوچکترین عدد <u>سه رقمی</u> چیست ؟ .....	۶

۷	جواب جمع زیر را به صورت تقریبی بنویسید. $26 \rightarrow \dots\dots\dots$ $+ 41 \rightarrow + \dots\dots\dots$ <hr/> <hr/> <p>.....</p>
۸	زمانی را که ساعت نشان می دهد ، به دو صورت بنویسید.  ساعت..... و ..... دقیقه ..... دقیقه مانده به ساعت.....
۹	الگوی عددی را ادامه دهید. ۳ - ۶ - ۹ - - - - -
۱۰	اگر فاطمه ۱۰ تا سکه ۱۰ ریالی به بانک بدهد بانک باید چند سکه به او بدهد؟ .....
۱۱	واحد پول کشور ما ..... است.
۱۲	با رقم و حروف بنویسید. <div style="display: flex; justify-content: space-around;"> <div style="border: 1px solid black; border-radius: 15px; padding: 5px; width: 45%;"> <p style="text-align: center;">پانصد و چهل و نه</p> </div> <div style="border: 1px solid black; border-radius: 15px; padding: 5px; width: 45%;"> <p style="text-align: center;">۴۷۳</p> </div> </div> <div style="display: flex; justify-content: space-around; margin-top: 10px;"> <div style="border: 1px solid black; border-radius: 15px; padding: 5px; width: 45%;"> <p style="text-align: center;">سی صد و هشتاد و هشت</p> </div> <div style="border: 1px solid black; border-radius: 15px; padding: 5px; width: 45%;"> <p style="text-align: center;">۱۹۸</p> </div> </div>

موفق باشی عزیزم

بازخورد عملکرد دانش آموز				انتظارات معلم	ردیف
ضعف دارد	متوسط	نسبتاً خوب	خیلی خوب		
				مفهوم عدد و رقم را درک کرده است	۱
				مسئله را با راه حل خواسته شده حل می کند .	۲
				جمع و تفریق هارا با روش ها مختلف بلد است .	۳
				جمع و تفریق فرایندی را حل می کند .	۴
				تعداد ضلع و گوشه را در اشکال هندسی تشخیص می دهد .	۵
				تقریب را به خوبی فرا گرفته است .	۶
				ساعت را به هر دو شکل بلد است .	۷
				اعداد را با حروف و رقم می خواند و می نویسد .	۸

بازخورد معلم: