




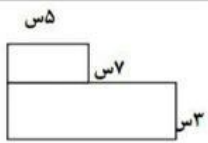
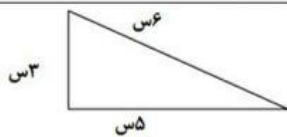


به نام خدا	
پایه ی سوم	سازمان آموزش و پرورش استان
وقت:	نام و نام خانوادگی:
نوبت دوم	نام پدر:
۱	<p>با عدد و با حروف بنویسید .</p> <div style="border: 1px solid black; padding: 5px; margin: 10px auto; width: 80%;"> <p>۴۵۰۳۹۶.....</p> <p>سیصد و چهل و نه هزار و سه</p> </div>
۲	<p>در جاهای خالی عدد مناسب بنویسید.</p> <p>۸ کیلومتر برابر است با متر .</p> <p>۵ متر برابر است با میلیمتر</p> <p>۳ کیلوگرم برابر است با گرم</p> <p>۹ سانتی متر برابر است با میلیمتر</p> <p>عدد ۹۰۶۴ برابر است با یکی و ده تایی و صدتایی و هزار تایی</p>
۱/۲۵	<p>علامت < = > بگذارید .</p> <div style="display: flex; justify-content: space-around; align-items: center;"> <div style="text-align: center;"> $\frac{1}{5} \bigcirc \frac{1}{6}$ $۴۰۱ - ۶۰۰ \bigcirc ۲۰۱ - ۵۰۰$ </div> <div style="text-align: center;"> $\frac{2}{6} \bigcirc \frac{3}{6}$ $۷۸ + ۶۱۰ \bigcirc ۱۶۹ - ۸۷۵$ </div> <div style="text-align: center;"> $۴ \times ۶ \bigcirc ۵ \times ۴$ </div> </div>
۱	<p>با رقم های (۵ ، ۴ ، ۰ ، ۲) بزرگترین و کوچکترین عدد چهار رقمی بنویس .</p> <p>بزرگترین : </p> <p>کوچکترین : </p>
۲/۲۵	<p>برای شکل رو به رو یک ضرب و دو تقسیم بنویسید .</p> <div style="display: flex; justify-content: space-around; align-items: flex-start;"> <div style="text-align: center;">  <p>تقسیم :</p> </div> <div style="text-align: center;">  <p>ضرب :</p> </div> <div style="text-align: center;">  <p>تقسیم :</p> </div> </div>
۲/۵	<p>عملیات زیر را انجام دهید .</p> <div style="display: flex; justify-content: space-between; align-items: flex-start;"> <div style="text-align: center;"> $\begin{array}{r} ۳۶۲ \\ \times ۵ \\ \hline \end{array}$ </div> <div style="text-align: center;"> $۱۸ \div ۶ = \dots\dots\dots$ $۶ \times ۸ = \dots\dots\dots$ $۵ \times ۹ = \dots\dots\dots$ </div> <div style="text-align: center;"> $۹ \times ۰ = \dots\dots\dots$ $۷ + ۱ = \dots\dots\dots$ $۱۷ \times ۱۰۰ = \dots\dots\dots$ </div> <div style="text-align: center;"> $۵ \div ۵ = \dots\dots\dots$ $۰ \div ۳ = \dots\dots\dots$ </div> </div>

۷	یک خط متقاطع و یک خط موازی رسم کنید .
۸	چه کسری از شکل رنگی است . 
۹	کدام یک از شکل های زیر خط تقارن ندارد . 
۱۰	مساحت شکل رو به رو را بدست آورید . 
۱۱	شکل زیر چند ضلعی است . محیط آن را بدست آورید . 
۱۲	زنگ مدرسه ایی ساعت ۵ بعد از ظهر می خورد . در چه ساعتی زنگ می خورد ؟
۱۳	برای خرید ۹ ورق کاغذ ۴۵ تومان پول داده ایم . کاغذ ورقی چند تومان بوده است .
۱۴	کلاسی ۳۲ نفر دانش آموز دارد . هر کدام ۳ جلد کتاب به کتابخانه هدیه کرده اند . این دانش آموزان چند جلد کتاب به مدرسه هدیه کرده اند ؟
۱۵	ساعت رو به رو چه ساعتی را نشان می دهد ؟
۱۶	تقسیم های زیر را انجام دهید و باقیمانده را بنویسید . <div style="display: flex; justify-content: space-around;"> <div style="text-align: center;"> $\begin{array}{r} \text{خارج قسمت :} \\ 39 \overline{) 7} \\ \hline \end{array}$ <p>باقیمانده :</p> </div> <div style="text-align: center;"> $\begin{array}{r} \text{خارج قسمت :} \\ 82 \overline{) 9} \\ \hline \end{array}$ <p>باقیمانده :</p> </div> </div>

موفق باشید