

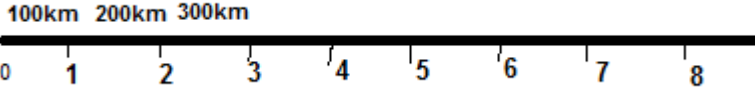


بسمه تعالی									
مدت آزمون: ۶۰ دقیقه		اداره کل آموزش و پرورش استان مازندران							
تعداد سؤال:		اداره آموزش و پرورش شهرستان بابل							
بارم: ۲۰ نمره		دبیرستان فرزاتگان (متوسطه اول)							
تعداد صفحه: ۳		سال تحصیلی: ۱۴۰۱-۱۴۰۰							
نام کلاس: .....		شماره دانش آموزی: .....							
		پایه: هفتم							
نام و نام خانوادگی: .....		نام دبیر: غلام پور							
تاریخ آزمون: ۱۴۰۰/۱۰/۲۵		آزمون درس: مطالعات اجتماعی							
بارم	شرح سوال	ردیف							
۱۷۵	گزینه صحیح را مشخص کنید. ۱. «من به همراه هموطنانم برای پیشرفت و آبادی کشورم تلاش می کنم، مسئولیت من مربوط به کدام مورد است؟ الف) مسئولیت من نسبت به خداوند <input type="checkbox"/> ب) مسئولیت من نسبت به مدرسه <input type="checkbox"/> ج) مسئولیت من نسبت به جامعه <input type="checkbox"/> د) مسئولیت من نسبت به خانواده <input type="checkbox"/> ۲. کدام یک از گزینه ها جز وظایف شورای نگهبان نیست؟ الف) این شورا قوانینی را که در مجلس تصویب شده است، بررسی می کند. <input type="checkbox"/> ب) بر انتخاباتی که در کشور برگزار می شود مانند انتخابات ریاست جمهوری و مجلس شورای اسلامی، نظارت می کند. <input type="checkbox"/> ج) اگر قوانین تصویب شده با قانون اساسی یا اصول و احکام دین مخالف بود آنها را رد می کند یا دوباره به مجلس برمی گرداند تا اصلاح شود. <input type="checkbox"/> د) در مواردی که نمایندگان مجلس شورای اسلامی به توافق درباره تصویب یک قانون نرسند، تصمیم نهایی را می گیرد. <input type="checkbox"/> ۳. نمونه کوچکی از کره زمین که می توان شکل واقعی بخشهای سیاره زمین را روی آن مشاهده کرد چه نام دارد؟ الف) کره جغرافیایی <input type="checkbox"/> ب) عکس <input type="checkbox"/> ج) نقشه <input type="checkbox"/> د) فرهنگ نامه جغرافیایی <input type="checkbox"/>	بخش اول							
۱۷۵	درست یا نادرست بودن جملات زیر را مشخص کنید. ۱. مهمترین قانون هر کشور قانون اساسی آن کشور است. <input type="checkbox"/> درست <input type="checkbox"/> نادرست ۲. هر چه به سمت جنوب زاگرس پیش می رویم از میزان برف و باران کاسته می شود. <input type="checkbox"/> درست <input type="checkbox"/> نادرست ۳. خانواده تا حدی که فرزند توقع دارد باید وسایل زندگی او را فراهم کند. <input type="checkbox"/> درست <input type="checkbox"/> نادرست	بخش دوم							
۴	جاهای خالی را با کلمات مناسب پر کنید. ۱. جلگه ها زمین های حاصلخیز و مناسبی برای ..... هستند. ۲. همانطور که ما حقوقی داریم ..... هم هستیم. ۳. کلیه مؤسسات بیمه زیر نظر ..... فعالیت می کنند. ۴. به چیزهایی که یک انسان به دلیل مقام انسانی اش، شایستگی داشتن آنها را دارد ..... گفته می شود. ۵. یکی از مهمترین علل پدید آمدن قانون و مقررات در جامعه، برقراری ..... و حفظ حقوق افراد است. ۶. میزان دما و بارش را به صورت ..... نشان می دهند. ۷. هر استان به چند ..... تقسیم می شود. ۸. درآمد حاصل از کم فروشی و گران فروشی ..... است.	بخش سوم							
۱/۵	۱- هر کدام از واحدهای زیر نمایانگر فعالیت در کدام بخش کشاورزی، صنعت یا خدمات هستند. الف) نساجی      ب) آرایشگاه      ج) تولید قارچ <table border="1" style="margin-left: auto; margin-right: auto;"> <tr> <td>کشاورزی</td> <td>صنعت</td> <td>خدمات</td> </tr> <tr> <td> </td> <td> </td> <td> </td> </tr> </table>	کشاورزی	صنعت	خدمات				بخش چهارم	
کشاورزی	صنعت	خدمات							

۱	<p>به سوالات زیر پاسخ کامل دهید.</p> <p>۱. شما به عنوان یک دانش آموز در مدرسه خود دارای چه مسئولیت هایی هستید. ۲ مورد</p>
۱/۵	<p>۲. با توجه به متن زیر به سوالات پاسخ دهید.</p> <p>د ریحانه هر روز صبح پس از پوشیدن لباس فرم مدرسه از خانه خارج می شود. او پس از ایستادن در صف، با اتوبوس به مدرسه می رود. ریحانه دانش آموز منظمی است و به معلمان خود احترام می گذارد، دروغ نمی گوید و دوستانش را مسخره نمی کند. او هر روز در نماز جماعت مدرسه شرکت می کند. او در راه برگشت به خانه هنگامی که چراغ عابر پیاده قرمز است از خیابان عبور نمی کند.</p> <p>الف) یک نمونه از مقررات مذهبی و اخلاقی که ریحانه رعایت می کند را نام ببرید.</p> <p>ب) کدام مورد از کارهای ریحانه به صورت توافقی، عادت یا رسم گروه های اجتماعی به وجود آمده است؟</p> <p>ج) کدام یک از کارهای ریحانه مقرراتی است که به وسیله یک نهاد قانونی تصویب شده است؟</p>
۱	<p>۳. نقشه زیر را کامل کنید</p>  <p>۱- رشته کوه.....</p> <p>۲- قله.....</p> <p>۳- دریاچه.....</p> <p>۴- جلگه.....</p>
۱	<p>۴. وظیفه جمعیت هلال احمر در شرایط عادی چیست؟</p>
۱/۵	<p>۵. آقای حسینی یک خودروی پراید خریداری کرده است او ماشین خود را بیمه حوادث و همچنین خانه خود را در برابر آتش سوزی بیمه کرده است.</p> <p>الف) بیمه نامه های اودر هر مورد از چه نوع بیمه هایی است (اختیاری یا اجباری)؟ ماشین: خانه:</p> <p>ب) در قرارداد بیمه آقای حسینی بیمه گر هستند یا بیمه شونده (بیمه گذار) ؟</p>
.۱/۵	<p>۶. هر کدام از علامت های زیر نشانه چیست؟</p>  <p>.....</p>  <p>.....</p>
۱	<p>۷- کیسه های نایلونی به محیط زیست بسیار آسیب می رساند. شما چه پیشنهادی دارید که از نایلونی کمتری استفاده شود؟ (دو مورد کافی است)</p>

.۱۵	۸. اصطلاح کوهپایه را تعریف کنید
۱	۹. با توجه به متن داده شده بنویسید هر کدام از افراد زیر در کدام ناحیه آب و هوایی زندگی می کنند؟ الف) شهری که صبادر آن زندگی می کند در کنار دریای خزر قرار دارد و مرطوب ترین ناحیه آب و هوایی ایران است. تابستان ها و زمستان های معتدل دارد. ( ..... ) ب) شهری که آوا در آن زندگی می کند در کناره های خلیج فارس قرار دارد. تابستان های بسیار گرم و زمستان های ملایم دارد. ( ..... )
۲	۱۰. به سوالات زیر پاسخ کوتاه بدهید الف) برای تهیه نقشه های جغرافیایی از کدام یک از انواع عکس ها استفاده می شود؟ ب) روستا چگونه اداره می شود؟ فقط نام ببرید. ج) انسان ها از ابتدای خلقت و تولد دارای چه حقوقی می شوند؟ د) استفاده صحیح از نعمت ها، قدر نعمت ها را دانستن و به هدر ندادن آنها یعنی چه؟
/۱۷۵	۱۱. محاسبه کنید : در نقشه فاصله بین شهر مشهد تا بابل ۸ سانتی متر است اگر مقیاس نقشه همانی باشد که در شکل زیر می بینید فاصله بین شهر مشهد و بابل چند کیلومتر است؟ 
/۱۷۵	۱۲. دو ویژگی طبیعی و یک ویژگی انسانی از شهر یا روستای محل زندگی خودتان نام ببرید: دو ویژگی طبیعی : ..... و ..... یک ویژگی انسانی : .....
.۱۵	۱۳. در مور متن زیر دو سال طرح کنید: رشته کوه البرز در شمال ایران واقع است و مانند دیواری دریای خزر را از قسمت های داخلی کشور جدا می کند و جز بلندترین کوههای ایران است .
۲۰	سعی کنید تنها به دنبال موفقیت نباشید بلکه ارزش ها را دنبال کنید "آلبرت اینشتین" موفق و پیروز باشید گروه مطالعات اجتماعی دبیرستان فرزنانگان متوسطه اول ✨

همکار ارجمند ضمن عرض سلام وخسته نباشید نظر شما دوست عزیز در تصحیح سوالات محترم است باتشکر

بخش اول (۱) گزینه ج (۲) گزینه د (۳) گزینه الف

بخش دوم (۱) درست (۲) درست (۳) نادرست

بخش سوم  
 (۱) کشاورزی (۲) مسئول (۳) بیمه مرکزی جمهوری اسلامی ایران (۴) حق  
 (۵) نظم (۶) نمودار (۷) شهرستان (۸) حرام

بخش چهارم  
 الف = صنعت ب = خدمات ج = کشاورزی

بخش پنجم

۱- ۱- مقررات و نظم کلاس و مدرسه را رعایت می کنم. ۲- در مدرسه همه تلاش می کنند تا من پیاموزم و پیشرفت کنم. ۳- با معلمان و دیگر مسئولان مدرسه، با ادب و احترام برخورد می کنم. ۴- به توصیه های معلم گوش می کنم و سعی می کنم درس ها را خوب یاد بگیرم و تکالیفم را به موقع ۵- انجام دهم. من همیشه با هم کلاسی هایم مهربان هستم و به آنها کمک می کنم. ۶- باید از اموال عمومی مدرسه که متعلق به همه است محافظت کنیم.

۲- الف- دروغ نمی گوید و دوستانش را مسخره نمی کند. او هر روز در نماز جماعت مدرسه شرکت می کند  
 ب) ایستادن در صف، با اتوبوس به مدرسه می رود ج) از پوشیدن لباس فرم مدرسه - هنگامی که چراغ عابر پیاده قرمز است از خیابان عبور نمی کند،

۳- الف) زاگرس ب) دماوند ج) دریاچه ارومیه د) جلگه خوزستان

۴) جمعیت هلال احمر علاوه بر این خدمات، در شرایط عادی برای صلح و دوستی و همچنین حفظ محیط زیست تلاش می کند

۵) ماشین = اجباری خانه = اختیاری بیمه شونده (بیمه گذار)

۶- استاندارد بازیافت

۷- (اختیاری مربوط به پاسخ دانش آموزان)

۸- زمین هایی که از یک سو به کوه ها و از سوی دیگر به دشت ها مربوط می شود

۹- الف = ناحیه معتدل و مرطوب خزری ب = ناحیه گرم و شرجی سواحل جنوب

۱۰- الف = عکس های هوایی ب = شورای اسلامی روستا، ج = حقوق طبیعی د = شکر گذاری

۱۱- ۸۰۰ × ۸ = ۸۰۰ کیلومتر فاصله بابل تا شهر مشهد

۱۲- ویژگی طبیعی مثل: آب و هوای بابل معتدل و مرطوب است - بابل بروی جلگه خزری قرار دارد- بابل رود از کنار شهر بابل عبور می کند و.....

ویژگی انسانی مثل: دانشکده پزشکی و دانشکده فنی نوشیروانی - شغل بیشتر مردم بابل کشاورزی و کشت برنج و.....

۱۳- کوه های البرز کجا قرار دارد؟ کوه های البرز چگونه به وجود آمده است؟ کوه های البرز چه موقع به وجود آمده است؟

در پناه حق موفق و پیروز باشید گروه مطالعات اجتماعی دبیرستان فرزنانگان متوسطه اول