

نام خانوادگی:	دبستان غیر دولتی دنیای تربیت	امتحان دی ماه ریاضی
	آموزگار: یزدانی	۱۴۰۰

۱- جاهای خالی را کامل کنید.

❖ ۴ هزار تایی و ۶ یکی و ۹ ده تایی و ۰ صد تایی می شود _____.

❖ بهترین وسیله برای کشیدن دایره _____ است.

❖ ۸۵۰۲ به حروف می شود _____.

❖ مکعب از _____ مربع درست شده است.

❖ ۱۲۸ سانتی متر _____ متر و _____ سانتی متر است.

❖ با _____ می توانیم زاویه ی راست را تشخیص دهیم.

❖ ۴۵۰۰ ریال همان _____ تومان است.

❖ کسر $\frac{1}{4}$ را _____ و کسر _____ را نیم می گوئیم.

❖ ۶۷۰۰ گرم یعنی _____ کیلو گرم و _____ گرم.

۲- الگوهای عددی زیر را ادامه دهید.


۹-۱۸-۲۷ - - - -

۱۱۰۰-۲۱۰۰-۳۱۰۰- - - -

-۵۶۰۰-۵۸۰۰-۶۰۰۰

۳- جدول زیر را کامل کنید.

زمان	۱۵		بیست و ربع		۲۳:۳۰
بعد از ظهر		۲:۴۵		ده و نیم	

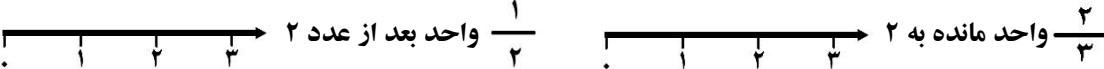


۴- در جاهای خالی عدد مناسب بگذارید.

۱۳	→ +۷	۹	→ -۵	۲۵
----	------	---	------	----

۱۰۰۰ ۱۰۰۰ ۱۰۰۰
۱۰۰ ۱۰۰ ۱۰ ۱۰ ۱۰ ۱۰ ۱۰ ۱۰

هزارگان	صدگان	دهگان	یکان

-۵	تمام عددهای سه رقمی که رقم صدگان آن ۸ و ۲، رقم دهگان آن ۵ و ۰ و رقم یکان آن ۴ باشد را بنویسید.															
-۶	کسرهای زیر را روی محور نشان بده. $\frac{1}{2}$ واحد بعد از عدد ۲ $\frac{2}{3}$ واحد مانده به ۲ 															
-۷	کسرهای زیر را با هم مقایسه کنید. $\frac{6}{7} \bigcirc \frac{4}{7}$ $1 \bigcirc \frac{3}{3}$ $\frac{1}{5} \bigcirc \frac{1}{9}$ $\frac{4}{5} \bigcirc \frac{2}{5}$ ۳ واحد و $\frac{4}{5}$ واحد \bigcirc ۳ واحد و $\frac{1}{5}$ واحد ۴ واحد و $\frac{1}{6}$ واحد \bigcirc ۳ واحد و $\frac{2}{3}$ واحد															
-۸	امیر $\frac{4}{8}$ و رضا $\frac{2}{6}$ از پولشان را صدقه داده اند. با کشیدن شکل، دو کسر را مقایسه کنید. <div style="border: 1px solid black; height: 30px; width: 200px; margin: 5px 0;"></div> <div style="border: 1px solid black; height: 30px; width: 200px; margin: 5px 0;"></div>															
-۹	جدول زیر را کامل کنید. <table border="1" style="width: 100%; border-collapse: collapse;"> <thead> <tr> <th style="width: 20%;">توضیح عبارت ضرب</th> <th style="width: 20%;">ضرب</th> <th style="width: 20%;">الگو (شمارش چند تا چند تا)</th> <th style="width: 20%;">جمع</th> <th style="width: 20%;">شکل</th> </tr> </thead> <tbody> <tr> <td>۴ دسته ۳ تایی می شود.....</td> <td></td> <td></td> <td></td> <td></td> </tr> <tr> <td></td> <td></td> <td></td> <td>۴+۴+۴+۴+۴</td> <td></td> </tr> </tbody> </table>	توضیح عبارت ضرب	ضرب	الگو (شمارش چند تا چند تا)	جمع	شکل	۴ دسته ۳ تایی می شود.....								۴+۴+۴+۴+۴	
توضیح عبارت ضرب	ضرب	الگو (شمارش چند تا چند تا)	جمع	شکل												
۴ دسته ۳ تایی می شود.....																
			۴+۴+۴+۴+۴													



نام خانوادگی:	دبستان غیر دولتی دنیای تربیت	امتحان دی ماه ریاضی
نام خانوادگی:	آموزگار: یزدانی	۱۴۰۰

۱- جاهای خالی را کامل کنید.

❖ ۴ هزار تایی و ۶ یکی و ۹ ده تایی و ۰ صد تایی می شود 4090 .

❖ بهترین وسیله برای کشیدن دایره برگ است.

❖ ۸۵۰۲ به حروف می شود هشت هزار و پنجاه و دو.

❖ مکعب از ۲۸ مربع درست شده است.

❖ ۱۲۸ سانتی متر ۱ متر و ۲۸ سانتی متر است.

❖ با گونیا می توانیم زاویه ی راست را تشخیص دهیم.

❖ ۴۵۰۰ ریال همان ۴۵ تومان است.

❖ کسر $\frac{1}{4}$ را ربع و کسر $\frac{1}{2}$ را نیم می گوئیم.

❖ ۶۷۰۰ گرم یعنی ۶ کیلوگرم و ۷۰۰ گرم.

۲- الگوهای عددی زیر را ادامه دهید.


۶۳ - ۷۴ - ۸۵ - ۹۶ - ۱۰۷ - ۱۱۸ - ۱۲۹

۷۱۰۰ - ۷۱۰۰ - ۷۱۰۰ - ۷۱۰۰ - ۷۱۰۰ - ۷۱۰۰ - ۷۱۰۰ - ۷۱۰۰

۶۰۰۰ - ۵۸۰۰ - ۵۶۰۰ - ۵۴۰۰ - ۵۲۰۰ - ۵۰۰۰ - ۴۸۰۰

۳- جدول زیر را کامل کنید.

زمان	۱۵	دو و سی و پنج دقیقه	بیست و پنج	۱۰:۲۰	۲۳:۳۰
بعد از ظهر	پانزده	۲:۴۵	۲۰:۱۵	ده و نیم	سی و سه و سه



۴- در جاهای خالی عدد مناسب بگذارید.

۱۳
۲
۲۳

→ +۷

۱۰
۹
۳۰

→ -۵

۱۵
۴
۲۵

۱۰۰۰	۱۰۰۰	۱۰۰۰	
۱۰۰	۱۰۰	۱۰۰	۱۰۰
۱۰	۱۰	۱۰	۱۰
۱	۱	۱	۱

هزارگان	صدگان	دهگان	یکان
۳	۲	۵	۸

-5

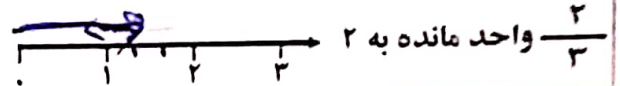
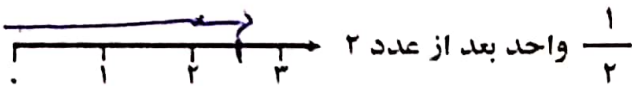
تمام عددهای سه رقمی که رقم صدگان آن ۸ و ۲، رقم دهگان آن ۵ و ۰ و رقم یکان آن ۴ باشد را بنویسید.

۸۰۴
۲۵۴

۲۵۸
۸۰۴

-6

کرهای زیر را روی محور نشان بده.



-7

کرهای زیر را با هم مقایسه کنید.

~~6/7 > 4/7~~

1 < 3/3

~~1/5 > 1/9~~

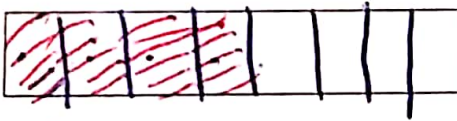
~~4/5 > 2/5~~

۳ واحد و ۲/۳ واحد ○ ۴ واحد و ۱/۶ واحد

۳ واحد و ۴/۵ واحد ○ ۳ واحد و ۱/۵ واحد

-8

امیر ۴/۸ و رضا ۲/۶ از پولشان را صدقه داده اند. با کشیدن شکل، دو کسر را مقایسه کنید.



4/8

4/8 ○ 2/6



2/6

-9

جدول زیر را کامل کنید.

شکل	جمع	الگو (شمارش چندتا چندتا)	ضرب	توضیح عبارت ضرب
	۳+۳+۳+۳	۳-۶-۹-۱۲	۱۲	۴ دسته ۳ تایی می شود.....
	۴+۴+۴+۴+۴	۴-۸-۱۲-۱۶-۲۰	۲۰	۵ دسته ۴ تایی