



آمادگی و دبستان دخترانه غیردولتی روش نوین

نام آموزگار: فرزانه پیرمحمد زاده

پایه سوم

نام و نام خانوادگی دانش آموز:

تاریخ: ۱۴۰۰/۱۰/۱۱

موضوع: ارزشیابی ریاضی (نوبت اول)

الف) جاهای خالی را کامل کنید.

۱- ۴صدتایی و ۷ یکی و ۳ هزارتایی می شود: _____

۲- ۶۲۵۰ گرم یعنی _____ کیلوگرم و _____ گرم.

۳- اگر صورت دو کسر مساوی باشند، کسری بزرگ تر است که مخرجش _____ باشد.

۴- رقم ۲ در عدد ۹۲۰۵ در مرتبه ی _____ قرار دارد.

۵- اگر شعاع دایره ای ۳ متر باشد قطر آن _____ متر است.

ب) جمله درست را با علامت \checkmark و جمله ی غلط را با علامت \times مشخص کنید.


۶- ساعت ۱۶:۳۰ همان شش و نیم بعد از ظهر است.

۷- همه ی شکل ها خط تقارن دارند.

۸- ۳ دسته ی هزارتایی و ۳ ده تایی می شود ۳۰۳۰

پ) گزینه درست را مشخص کنید.

۹- کدام یک از شکل های زیر خط تقارن ندارند؟



(د)



(ج)



(ب)



(الف)

۱۰- ربع ساعت چه کسری از یک ساعت است؟

(د) $\frac{3}{4}$ ساعت

(ج) $\frac{1}{3}$ ساعت

(ب) $\frac{1}{2}$ ساعت

(الف) $\frac{1}{4}$ ساعت

۱۱- کدام یک از کسر های زیر از $\frac{3}{7}$ بزرگ تر است؟

$$\frac{2}{7} \text{ (د)}$$

$$\frac{1}{7} \text{ (ج)}$$

$$\frac{4}{7} \text{ (ب)}$$

$$\frac{1}{7} \text{ (الف)}$$

(ت) به سوالات زیر پاسخ دهید.

۱۲- الگو های زیر ادامه دهید.

$$7 - 14 - 21 - \dots - \dots - \dots$$

$$5000 - 4000 - \dots - \dots - \dots$$

۱۳- یک دلار کشور شکرستان، ۵۰۰ تومان است. ۴ دلار این کشور چند تومان است؟

۱۴- با رسم شکل نشان دهید.

$$\frac{1}{4} = \frac{2}{8}$$

۱۵- شکلی رسم کنید که ۴ زاویه راست داشته باشد.

۱۶- $\frac{2}{4}$ واحد مانده به ۴ را روی محور نشان دهید.



آمادگی و دبستان دخترانه غیردولتی روش نوین

نام و نام خانوادگی دانش آموز:

پایه سوم

نام آموزگار: فرزانه پیرمحمد زاده

موضوع: ارزشیابی ریاضی (نوبت اول)

تاریخ: ۱۴۰۰/۱۰/۱۱

الف) جاهای خالی را کامل کنید.

۱- ۴ صدتایی و ۷ یکی و ۳ هزارتایی می شود: 437

۲- ۶۲۵۰ گرم یعنی ۶ کیلوگرم و ۲۵۰ گرم.

۳- اگر صورت دو کسر مساوی باشند، کسری بزرگ تر است که مخرجش کوچکتر باشد.

۴- رقم ۲ در عدد ۹۲۰۵ در مرتبه ی صدگان قرار دارد.

۵- اگر شعاع دایره ای ۳ متر باشد قطر آن ۶ متر است.

ب) جمله درست را با علامت \checkmark و جمله ی غلط را با علامت \times مشخص کنید.

۶- ساعت ۱۶:۳۰ همان شش و نیم بعد از ظهر است.

۷- همه ی شکل ها خط تقارن دارند.

۸- ۳ دسته ی هزارتایی و ۳ ده تایی می شود ۳۰۳۰

پ) گزینه درست را مشخص کنید.


۹- کدام یک از شکل های زیر خط تقارن ندارند؟



(د)



(ج)



(ب)



(الف)

۱۰- ربع ساعت چه کسری از یک ساعت است؟

(د) $\frac{3}{4}$ ساعت

(ج) $\frac{1}{3}$ ساعت

(ب) $\frac{1}{2}$ ساعت

(الف) $\frac{1}{4}$ ساعت

۱۱- کدام یک از کسر های زیر از $\frac{2}{7}$ بزرگ تر است؟

الف) $\frac{1}{7}$ ب) $\frac{4}{7}$ ✓ ج) $\frac{5}{7}$ د) $\frac{2}{7}$

ت) به سوالات زیر پاسخ دهید.

۱۲- الگو های زیر ادامه دهید.

$7-14-21-28-35-42$
 $+7 \quad +7$
 $5000-4000-3000-2000-1000$
 -1000



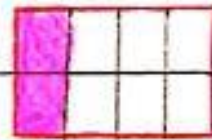
۱۳- یک دلار کشور شکرستان ۵۰۰ تومان است. ۴ دلار این کشور چند تومان است؟

دلار	۱	۲	۳	۴
تومان	۵۰۰	۱۰۰۰	۱۵۰۰	۲۰۰۰


۴ دلار ۲۰۰۰ تومان است

۱۴- با رسم شکل نشان دهید.

$$\frac{1}{4} = \frac{2}{8}$$



۱۵- شکلی رسم کنید که ۴ زاویه راست داشته باشد.



۱۶- $\frac{2}{4}$ واحد مانده به ۴ را روی محور نشان دهید.

