

به نام فدایی که توفیق از اوست

آزمون مدارک‌آغازی مهرماه ریاضی چهارم

تاریخ: مهرماه ۹۷

آموزگار: حمزه ای

دبستان بانگ سپه کلانکش

نام و نام خانوادگی دانش آموز:

۱- به حروف و رقم بنویسید.

۳۶۴۷۶۹

۴۰۵۶۰۲۰۳

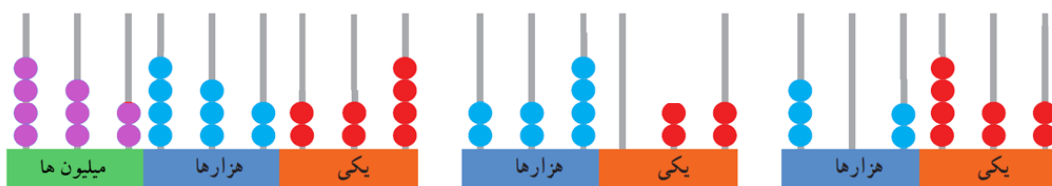
۳۵۰۰۲۰۰۰

هفتصد و سی و شش هزار و پنجاه و هشت

هفتصد و چهارده میلیون و نهصد و ده هزار و دو

سیصد و پنجاه هزار و دویست و سه

۲- عددی را که هر شکل نشان می دهد، به حروف و رقم بنویسید.



۳- به الگوی زیر توجه کنید و بنویسید شکل هشتم از چند دایره درست شده است.



۴- عدد ششصد و چهار هزار و شانزده

هزارها			یک ها		
صدگان	دهگان	یکان	صدگان	دهگان	یکان

الف) چند رقمی است؟.....

ب) رقم صدگان هزار آن چند است؟.....

ج) این عدد را در جدول ارزش مکانی قرار بده.

۵- مقایسه کنید.

$12456 \bigcirc 12456$

$69251 \bigcirc 23561$


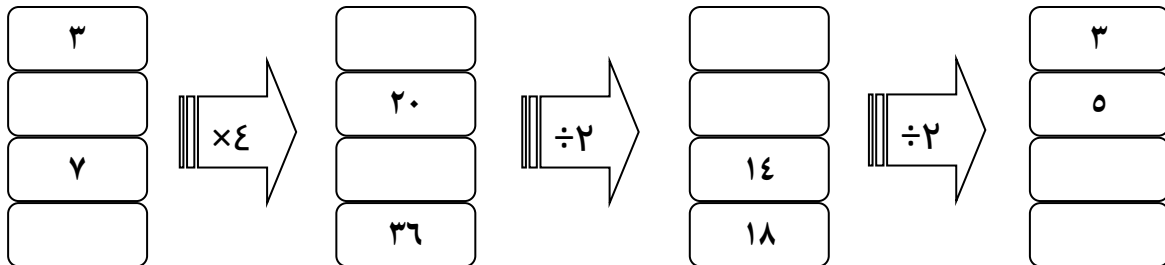
$8888 \bigcirc 77777$

$94520 \bigcirc 145200$

$50101 \bigcirc 52009$

$10001 \bigcirc 9999$

۶- ماشین ورودی و خروجی زیر را کامل کنید.



موفقیت شما آرزوی قلبی ماست.

حمزه ای