



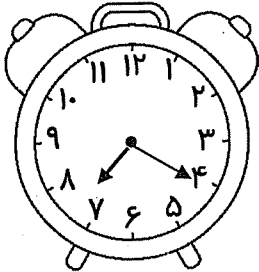
به نام خدا

تاریخ:

تم ۲۴

نام و نام خانوادگی:

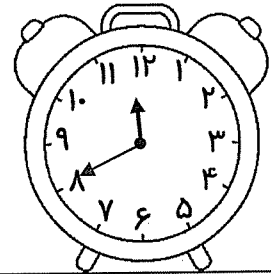
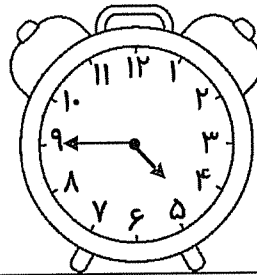

با توجه به ساعت، کامل کن.



ساعت از گذشته است.

ساعت از گذشته است.

ساعت از گذشته است.








کمی به ساعت
مانده است.

کمی به ساعت
مانده است.


کمی به ساعت
مانده است.

با توجه به قسمت رنگ شده، ۳ قسمت دیگر را رنگ بزن.



نظر آموزگار:





به نام خدا

تاریخ:

تم ۲۴

نام و نام خانوادگی:

مسئله ها را با کشیدن شکل های ساده حل کن. برای راه حل خود یک عبارت جمع یا تفریق بنویس.

فرزانه ۹ شاخه گل قرمز و
۵ شاخه گل زرد را در گلدان گذاشت.
او چند شاخه گل در گلدان گذاشته است؟


پدر بزرگ برای رضا ۱۲ جوجه رنگی خرید.
۳ تا از آن ها زرد و بقیه صورتی بودند.
رضا چند جوجه ی صورتی دارد؟


۹ شمع روشن بود.
۳ تا از آن ها را خاموش کرد.
چند شمع روشن مانده است؟

۵ پروانه روی گل ها نشسته بودند.
۴ پروانه ی دیگر هم آمدند.
چند پروانه روی گل ها نشسته است؟

۷ بشقاب روی میز بود.
مادر ۵ بشقاب دیگر روی میز گذاشت.
چند بشقاب روی میز است؟

نظر آموزگار:








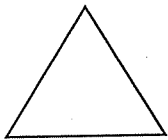




به نام خدا

تاریخ:

تم ۲۴


نام و نام خانوادگی:

در هر قسمت، نام شکل را بنویس. با شابلون از هر شکل ۴ تا رسم کن. با شکل ها نقاشی بکش.



نظر آموزگار:





به نام خدا

تاریخ:

تم ۲۴

نام و نام خانوادگی:

مسئله ها را با رسم شکل حل کن. عبارت جمع و تفریق بنویس و جمله ها را کامل کن.

در یک باغ ۷ درخت انگور و ۹ درخت سیب بود.

۵ تا درخت ها خشک شدند.

$$\square + \square = \square$$

.....درخت در باغ بود.

چند درخت مانده است ؟

$$\square - \square = \square$$

.....درخت مانده است.

جواد ۶ کتاب داستان و ۷ کتاب علمی دارد.

۴ تا از کتاب ها را خوانده است.

$$\square + \square = \square$$

جوادکتاب دارد.

او چند کتاب نخوانده است ؟

$$\square - \square = \square$$

او از کتاب هایش را نخوانده است.

در یک اتوبوس ۱۲ مسافر نشسته بودند. ۴ مسافر دیگر هم سوار شدند.

در ایستگاه اول ۶ نفر پیاده شدند.

$$\square + \square = \square$$

.....مسافر در اتوبوس بودند.

چند مسافر مانده است ؟

$$\square - \square = \square$$

.....مسافر مانده است.

شکوفه ۸ بادکنک قرمز و ۲ بادکنک آبی داشت.

۶ تا از آن ها را به دوستانش داد.

$$\square + \square = \square$$

.....بادکنک داشت.

حالا او چند بادکنک دارد ؟

$$\square - \square = \square$$

.....بادکنک دارد.

نظر آموزگار:

