



پایه: ششم

دبستان پسرانه غیر دولتی طلوع مهر
هفته نامه شماره ۱۸ ریاضی

نام و نام خانوادگی:

هفته نامه شماره ۱۸ – ریاضی

(۱) جاهای خالی را پر کنید.

الف) از دو نقطه خط راست می گذرد.

ب) دو زاویه ی متقابل به رأس

ج) زاویه ی باز از زاویه ی نیم صفحه است.

د) مکمل متمم زاویه ۳۰ درجه، درجه است.

ه) نام زاویه ای که از زاویه قائمه کوچکتر است چیست ؟

خ) واحد اندازه گیری زاویه نام دارد.

ر) اگر یک زاویه راست را به ۹۰ قسمت زاویه کنیم، هر زاویه یک زاویه نام دارد.

ز) هر زاویه از ۹۰ زاویه یک درجه تشکیل شده است.

ط) وسیله ای که زاویه را با آن اندازه می گیریم نام دارد.

ک) خطی که از دو طرف بسته است، چه نام دارد ؟

(۲) در جاهای خالی اعداد مناسب بنویسید .

۰/۸۶ متر یعنی سانتی متر

۷۲ سانتی متر یعنی متر

۲/۳ سانتی متر یعنی میلی متر

۰/۵ هکتار یعنی متر مربع

۷۵ میلی متر یعنی سانتی متر

۱۸۴ سانتی متر یعنی متر

۱/۸ متر یعنی سانتی متر

۲ ساعت یعنی دقیقه

یک دقیقه برابر است با ثانیه

۲/۳ کیلومتر یعنی متر

۰/۵ متر یعنی میلی متر


۰/۵۲ متر برابر است با سانتی متر

۰/۵۴ کیلومتر برابر است با متر

۱۴ متر برابر است با میلی متر

۵۰۸ سانتی متر برابر است با متر

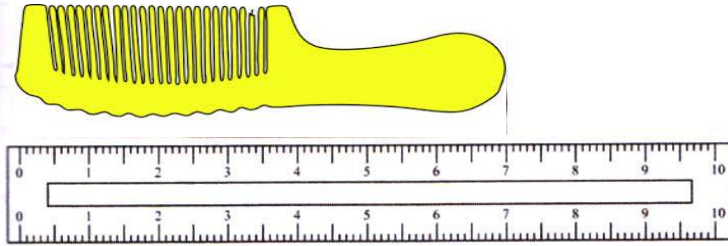
۳) در شکل‌ها زیر اندازه‌شانه، خودکار و میله چند سانتی‌متر است؟ اندازه‌ها را به میلی‌متر و متر نیز بنویسید.



..... سانتی‌متر.

..... میلی‌متر.

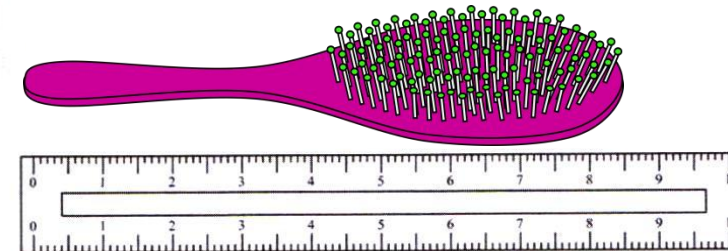
..... متر.



..... سانتی‌متر.

..... میلی‌متر.

..... متر.



..... سانتی‌متر.

..... میلی‌متر.

..... متر.



..... سانتی‌متر.

..... میلی‌متر.

..... متر.

۴) یک پاره خط ۵ سانتی‌متری رسم کنید. و آنرا به دو قسمت مساوی تقسیم کنید.

۵) خط‌هایی با اندازه‌های زیر رسم کنید.

۴ سانتی‌متر و ۳ میلی‌متر (۴/۳ سانتی‌متر).

۷/۳ سانتی‌متر.

۵ سانتی‌متر.

۸/۷ سانتی‌متر.

۲ سانتی‌متر.

۶/۶ سانتی‌متر.

هفته نامه شماره ۱۸ - ۶ - ۹۶ ریاضی