


جاهای خالی را با اعداد مناسب کامل کن. سپس الگوهای زیر را ادامه بده.

۱

نود و چهار

چهل و نه



۸۱ - ۷۲ - ۶۳ -

۷۲ - ۶۴ - ۵۶ -



مسئله های زیر را حل کن.

۲

۱ ۳۶ زنبور در لانه بودند. ۱۳ تا از آن ها از لانه خارج شدند. چند زنبور در لانه باقی مانده است؟

..... - = زنبور در لانه باقی مانده است.

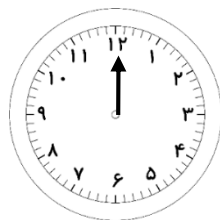
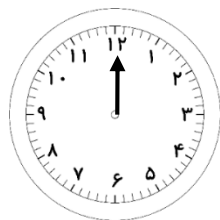
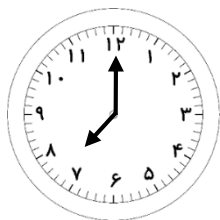
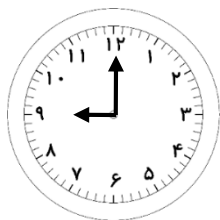
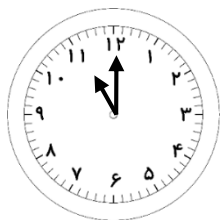
۲ ۴۸ شیرینی در جعبه بود. روز اول ۸ شیرینی و روز دوم ۸ شیرینی دیگر خورده شد. چند شیرینی در این دو روز

خورده شده است؟ چند شیرینی باقی مانده است؟
..... + = شیرینی خورده شده است.

..... - = شیرینی باقی مانده است.

عقربه های ساعت را با توجه به الگوی عددها بکش.

۳



کدام کار کمتر و کدام کار بیشتر طول می کشد؟

۴

۱ شستن دست و صورت از شستن ظرف ها طول می کشد.

۲ مسواک زدن از بستن بند کفش طول می کشد.

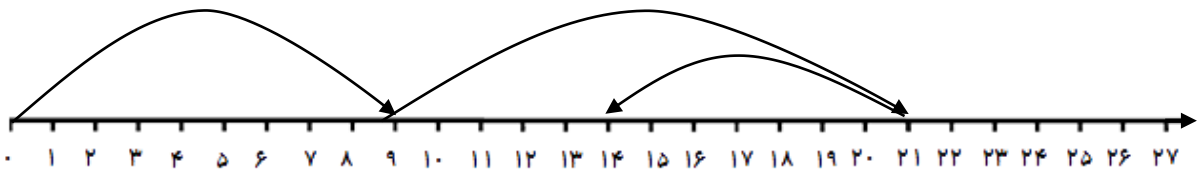
با اولی ها

Baavaliha.blog.ir

@BaaAvaliha

مجید مهدی فانی

۵ با توجه به محور زیر مسئله بنویس و آن را حل کن.



.....
.....
.....



۶ با توجه به اعداد جاهای خالی را کامل کن.

۶

..... ده تایی و یکی می شود.....



..... با حروف:

..... ده تایی و یکی می شود.....



..... با حروف:

۷ ابتدا زیر اطلاعات اضافی مسئله با مداد قرمز خط بکش سپس مسئله را حل کن.

۷

در کیف زهرا ۶ عدد کتاب داستان ، ۷ عدد کتاب علمی و یک بسته مداد رنگی ۶ تایی است. چند کتاب

در کیف زهرا است؟ کتاب در کیف است.

۸ اگر در مسئله ی زیر اطلاعات کافی است، آن را حل کن.

۸

دیروز تولد نیلوفر بود. مادر بزرگ ۶ کتاب داستان برای نیلوفر خرید. مادر بزرگ نیلوفر چندساله است؟

.....

نظر آموزگار:

