

دبستان.....

به نام خدای رنگین کمان

تکلیف ریاضی تم ۱۹



تاریخ.....

نام قسنتکم.....

گل من ، تعداد خال های روی بال کفشدوزک ها را بشمار و در جدول قرار بده و عدد آن را بنویس

الگوها را ادامه بده

10 - 20 - - - - -

↻

+ 10

جواب جمع ها و تفریق ها را بنویس

10 + 10 =

20 - 10 =

20 + 40 =

60 - 10 =

30 + 20 =

70 - 30 =

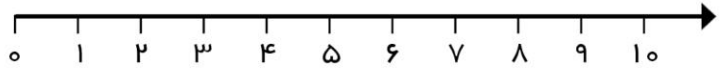
50 + 30 =

80 - 20 =

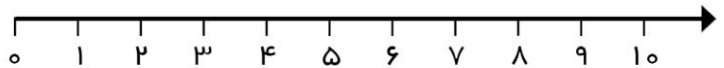


برای هر مسئله شکل بکش و روی محور نشان بده

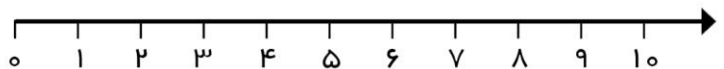
۴ بچه در زمین بازی با هم والیبال بازی می کردند، ۶ بچه دیگر هم برای بازی آمدند. حالا چند بچه با هم بازی می کنند؟



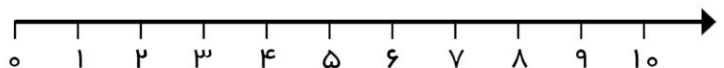
۵ پروانه در باغ بودند، ۵ پروانه دیگر هم آمدند. حالا چند پروانه در باغ هستند؟





در ظرف میوه ۹ موز بود و ۶ تای آنها را جواد خورد، حالا چند موز در ظرف میوه وجود دارد؟



۱۰ کبوتر روی درخت نشسته بودند، با آمدن گربه ۵ تای آنها پرواز کردند و رفتند. چند کبوتر روی درخت باقی مانده اند؟



جمع یا تفریق کن . علامت مناسب (= > <) را انتخاب کن




$$\text{---} + \text{---} = \text{---}$$

>

=

<



$$\text{---} - \text{---} = \text{---}$$

>

=

<



$$\text{---} + \text{---} = \text{---}$$



$$\text{---} + \text{---} = \text{---}$$

جدول سگفت انگیز را حل کن



۶		۳	۵	۴	۲	۸	۹	
	۹			۶	۱	۵	۴	
۵	۴	۲					۱	
	۶	۱	۷	۳		۲	۸	۵
۷		۸	۴			۱	۳	
۳	۲	۹	۱		۸	۷		
۲	۳				۴			۱
		۵		۹		۴	۲	۸
۹	۸		۲	۱		۶		