

نام و نام خانوادگی :

دبستان دخترانه غیر دولتی هما

نام آموزگار : خانم توحیدی

سال تحصیلی ۱۴۰۲-۱۴۰۳

موضوع : کاربرگ ریاضی

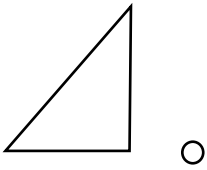
ریاضی ششم - درس اول - مرکز تقارن

۱- درستی یا نادرستی عبارت های زیر را مشخص کنید

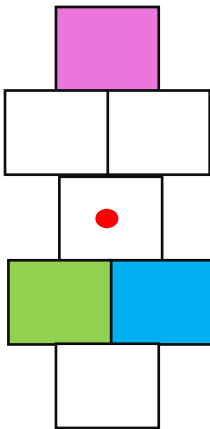
الف) وقتی مربع ۱۸۰ درجه می چرخانیم مشکل چرخش یافته بر روی خودش منطبق می شود.  
ب) مستطیل مرکز تقارن دارد.

پ) متوازی الاضلاع مرکز تقارن دارد ولی خط تقارن ندارد.

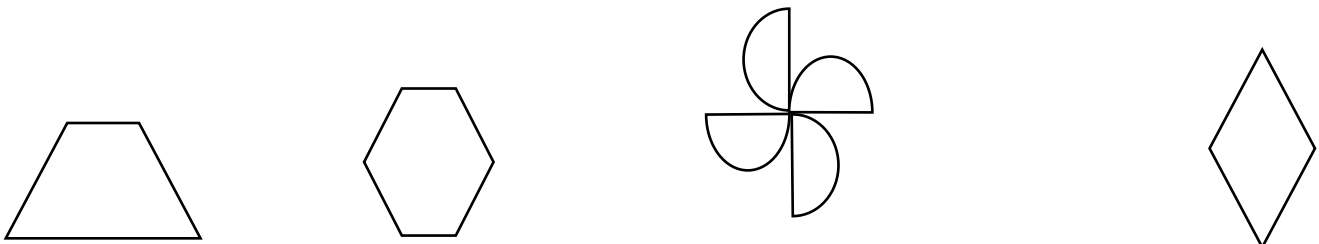
۲- قرینه ی شکل را نسبت به نقطه ی داده شده رسم کنید



۳- شکل را طوری رنگ کنید که نقطه مرکز تقارن باشد



۳- مرکز تقارن هر شکل را در صورتی که وجود دارد مشخص کنید



۴- هر کدام از نقاط (آ)، (ب)، (ج)، (د) قرینه کدام نقطه نسبت به (م) هستند.

