


۱- در هر قسمت نام شکل ها را بنویس



۲- بخوان و کامل کن

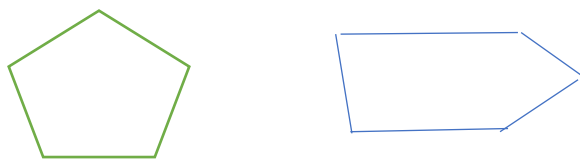
مربع ضلع گوشه دارد

مثلث ضلع گوشه دارد

مستطیل ضلع گوشه دارد

پنج ضلعی ضلع گوشه دارد

۳- با توجه به شکل هب زیر جمله های درست را علامت \times بزن



به این شکل ها پنج ضلعی می گویند

این شکل ها هر کدام ۵ گوشه دارد

در هر دو شکل ضلع ها با هم مساوی هستند

کدام یک از پنج ضلعی ها را می توان به دو قسمت مساوی تقسیم کرد؟

۴- در هر ردیف الگوی داده شده را بخوان و با توجه به آن در جای خالی عدد مناسب بنویس.

در هر ردیف

۱ - ۵ - ۱۰ - ۱۵ - ۲۰ - ۲۵
+۵ +۵ + + +

۱ - ۲ - ۴ - ۷ - ۱۱ - ۱۶
+ + + + +

۳ - ۵ - ۹ - ۱۵ - ۲۳ - ۳۳
+ + + + +

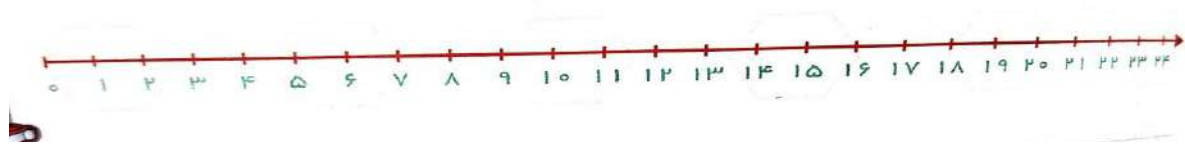
۱ - ۳ - ۶ -
+ + + + +

۱ - ۲ - ۳ - ۵ - ۶ -
+ + + + +





۱ - ۴ - ۵ - ۸ -
+ + + + +

الگوهای زیر را ادامه بده.


۵- مینی بوسی ۲۴ صندلی دارد این مینی بوس در هر ایستگاه ۳ دانش آموز سوار می کند با کمک محور تعیین کنید او در ایستگاه چهارم چند مسافر سوار کرده است؟



۶- بخوان و انجام بده

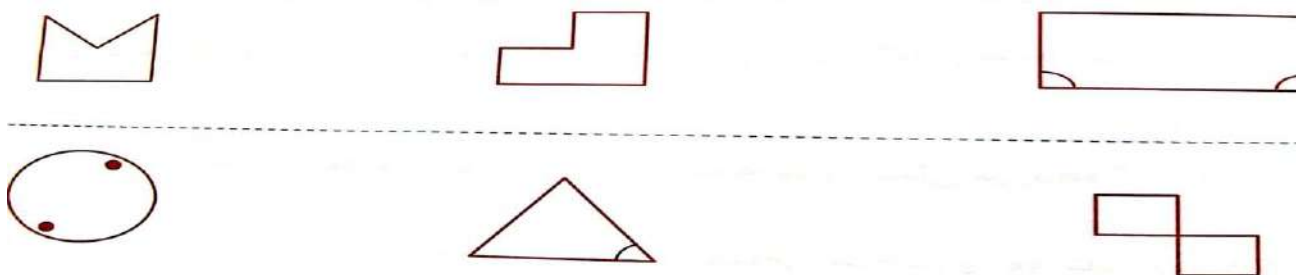
	<p>آیا می توانی یک شکل چهارضلعی بسازی که چهار ضلع مساوی داشته باشد؟</p>		<p>آیا می توانی یک شکل سه ضلعی با دو ضلع مساوی بسازی؟</p>
	<p>آیا می توانی یک شکل پنج ضلعی بسازی که فقط دو ضلع مساوی داشته باشد؟</p>		<p>آیا می توانی یک شکل بسازی که ۸ گوشه داشته باشد؟</p>

۷- نیمه دیگر شکل را با توجه خط تقارن رسم کن



۸-

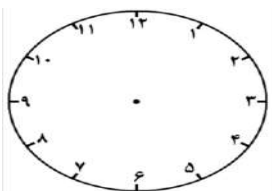
با رسم یک خط، شکل های زیر را به دو نیمه ی کاملاً شبیه به هم تقسیم کن.



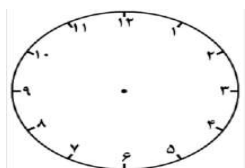
۹- مسئله های زیر را حل کنید

علی ساعت ۷ و نیم صبح به مدرسه رسید و مراسم صبحگاه ۳۰ دقیقه طول کشید و بعد از مراسم به کلاس رفت. علی چه ساعتی وارد کلاس شده است؟

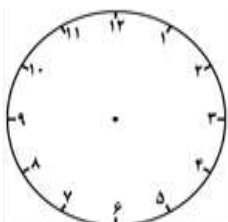
۱۰- اتوبوسی ساعت ۶ صبح از ایستگاه اول حرکت کرد. اگر فاصله هر ایستگاه تا ایستگاه بعدی ۱۵ دقیقه باشد، اتوبوس چه ساعتی به ایستگاه چهارم می‌رسد؟



۱۱- دو ساعت پیش ساعت ۴ و ربع بود. حالا ساعت چند است؟



۱۲- ستایش ساعت ۵ بعد از ظهر وارد کلاس زبان شد، ۵۰ دقیقه در کلاس بود و بعد از کمی استراحت ساعت ۶:۱۰ به سمت خانه حرکت کرد. حساب کنید او چند دقیقه استراحت کرده است؟



۱۳- با کشیدن عقربه بزرگ، زمان‌های داده شده را روی هر ساعت نشان بده.



یازده و ربع



یک ربع مانده به ۵

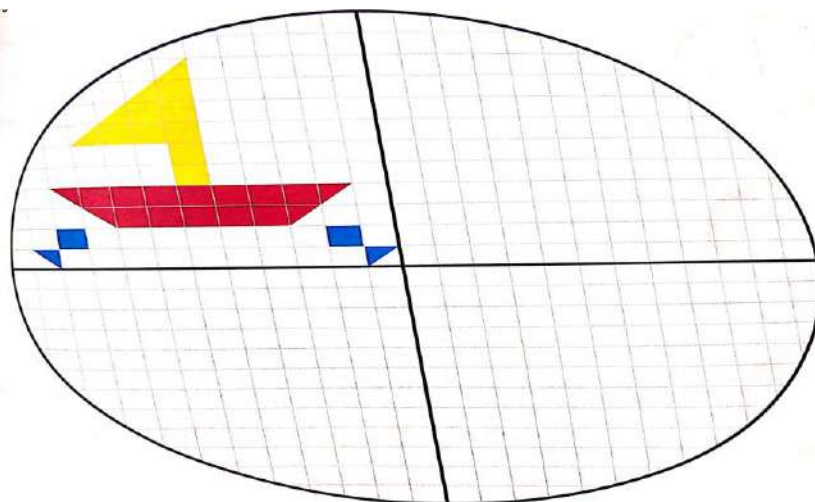


نه و نیم

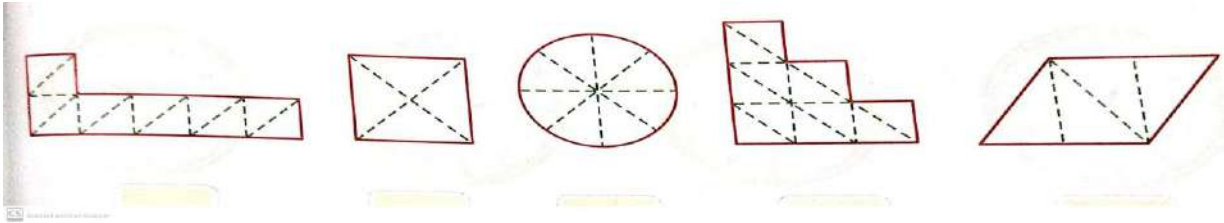


۲۰ دقیقه مانده به ۲

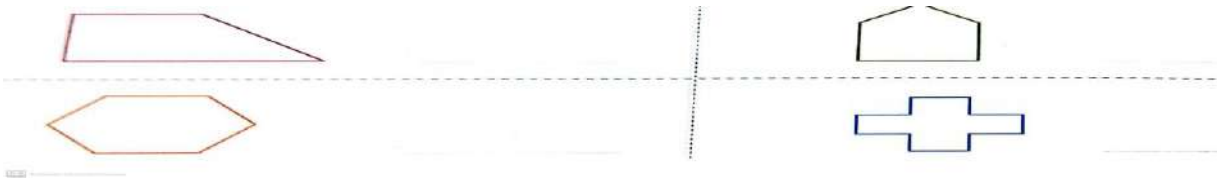
۱۴- سه قسمت دیگر شکل را کامل کن



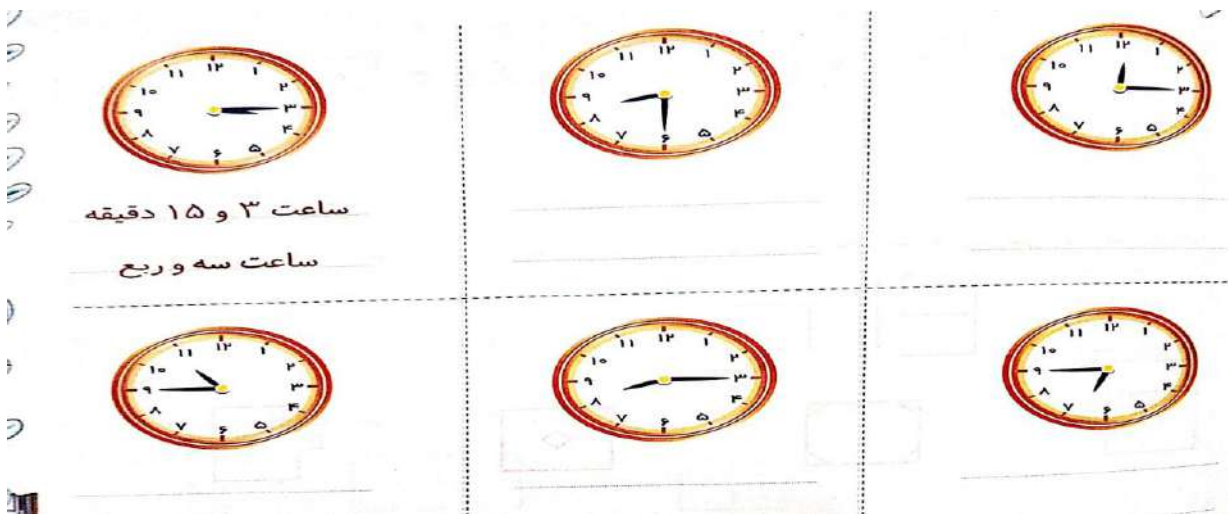
۱۵- نقطه چین را کامل و بنویس هر شکل به چند قسمت مساوی تقسیم شده است؟



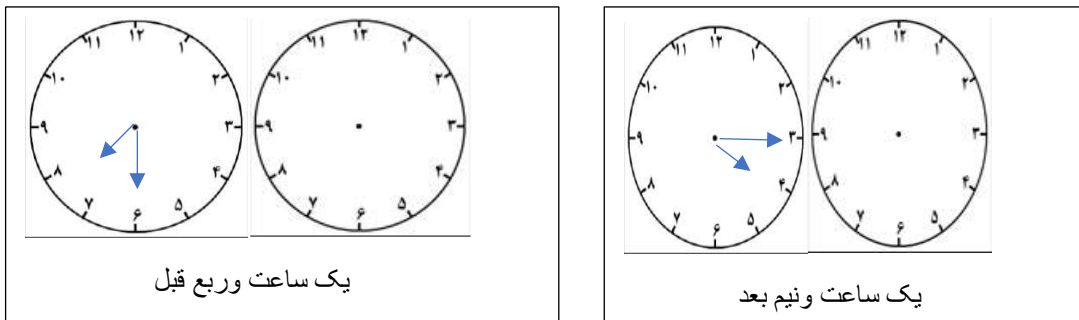
۱۶- شکل هارا با کشیدن خط های مختلف به قسمت های مساوی تقسیم کن و تعداد هر قسمت های ان را بنویس

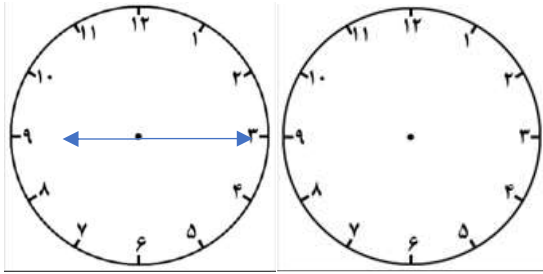


۱۷- مانند نمونه زمانی که هر ساعت نشان می دهد را به دو صورت بنویس

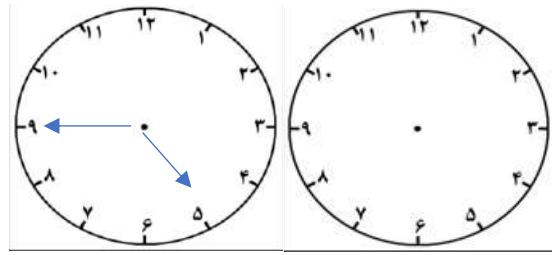


۱۸- ساعت چند است؟

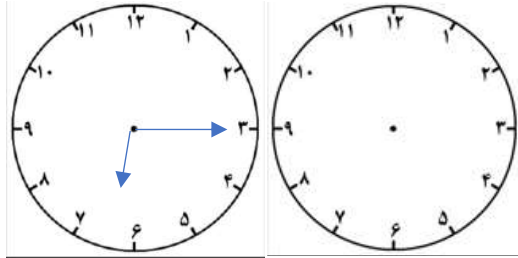




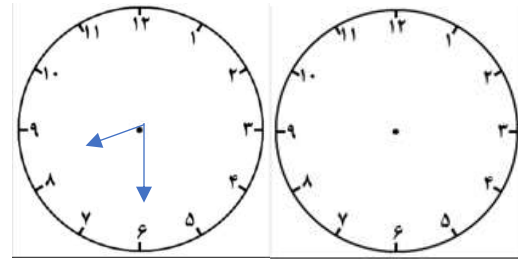
یک ساعت و ربع بعد



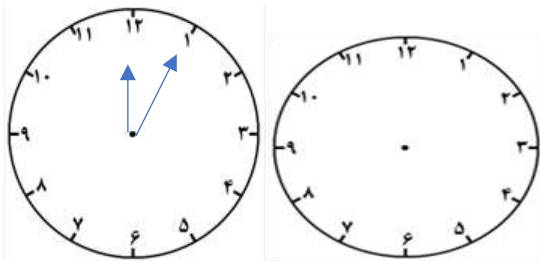
نیم ساعت قبل



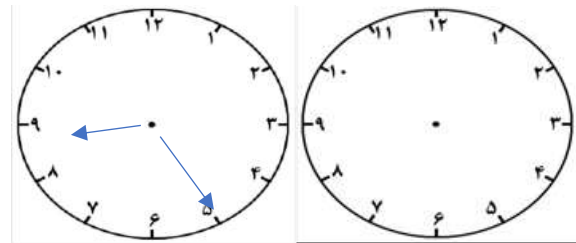
یک ساعت ربع بعد



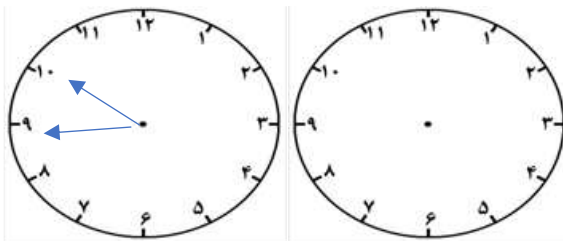
یک ساعت و نیم بعد



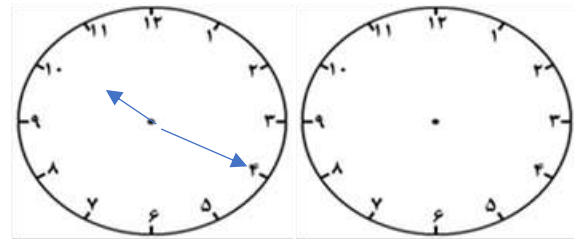
دو ساعت نیم بعد



چهار ساعت نیم بعد



دو ساعت و ۲۰ دقیقه بعد



سه ساعت و ربع قبل