

در این صفحه نقاشی بکش. یادت باشد هر چه را درست چپ می کشی درست راست هم باید بکشی.

--	--

وبلاگ مهر به یادماندنی - بزرگی ابراهیمی

تم پانزده

رهگذر کی ریاضی

نام دانش آموز

.....



وبلاگ
مهر به یادماندنی

www.aftabemehrban.blogfa.com

جدول شگفت انگیز را کامل کن .

۱	۵	۲	۴	۶	۳
۶	۴			۲	۵
۵	۲			۴	۶
۳	۶			۵	۱
۴	۱			۳	۲
۲	۳	۶	۵	۱	۴

اندازه ی بلندی کدامیک از وسایل منزلتان برابر با ۴ کتاب ریاضی کلاس اول است؟


.....

.....

.....




با کشیدن خط بسته ، دسته بندی کن ، عدد کنار هر قسمت تعداد شکل های هر دسته را مشخص می کند .




۹



۵



۴



۱۰



وبلاگ مهر به یادماندنی - بزرگی ابراهیمی

در هر قسمت با توجه به تعداد دسته ها و یکی ها شکل بکش و عدد را بنویس.

۳ دسته ی سه تایی و
۱ یکی

۱ دسته ی ده تایی و
۵ یکی

۲ دسته ی شش تایی و
۲ یکی

۱ دسته ی هفت تایی و
۶ یکی

۳ دسته ی پنج تایی و
۵ یکی



وبلاگ مهر به یادماندنی - بزرگی ابراهیمی

یک دسته ی ده تایی بردار و با توجه به عدد های داده شده دسته های کوچکتر درست کن. شکل آن دسته ها را بکش و در جای خالی عدد مناسب بنویس.

.....دسته ی دو تایی و
..... یکی

.....دسته ی پنج تایی و
..... یکی

.....دسته ی شش تایی و
..... یکی

.....دسته ی هفت تایی و
..... یکی

.....دسته ی هشت تایی و
..... یکی

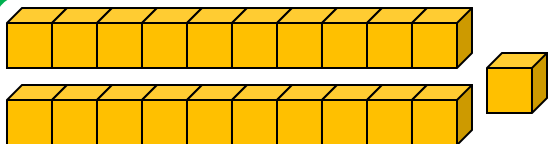
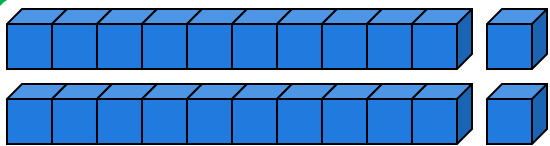
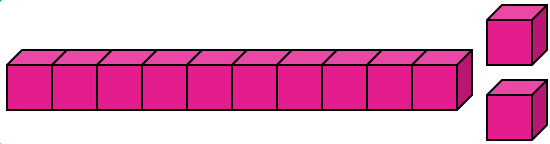


با توجه به عدد های داده شده در جدول ، دسته های ده تایی و یکی بکش.

ده تایی	یکی
۱	۸

ده تایی	یکی
۶	۴

جدول ها را به شکل مناسب وصل کن.



ده تایی	یکی
۲	۱

ده تایی	یکی
۱	۲

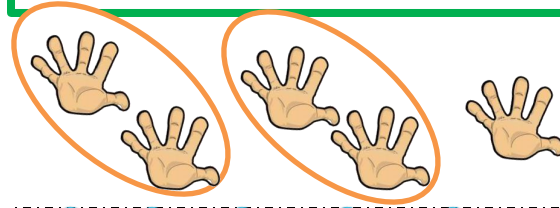
ده تایی	یکی
۲	۲

۵

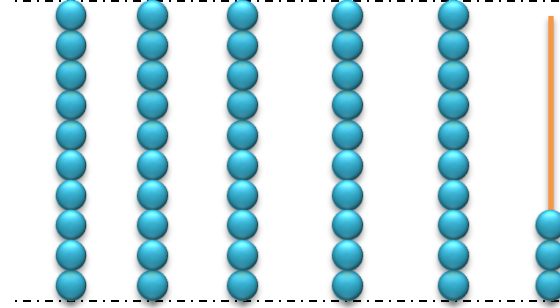


جدول ها را کامل کن.

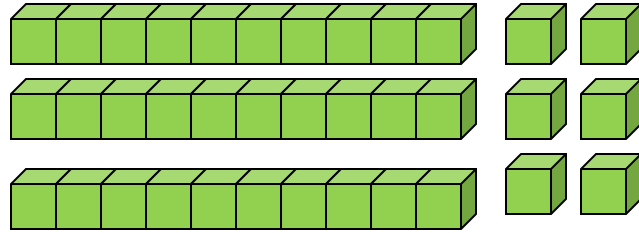
ده تایی	یکی
.....



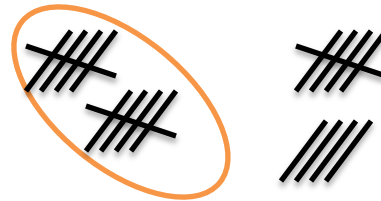
ده تایی	یکی
.....



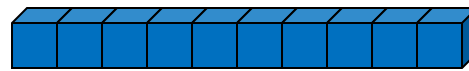
ده تایی	یکی
.....



ده تایی	یکی
.....



ده تایی	یکی
.....



۴



وبلاگ مهر به یادماندنی - بزرگی ابراهیمی