

این فایل از کانال معلم یار چهارم دانلود شده است.
برای حمایت از ما و دریافت نمونه سوالات یا پاسخنامه بیشتر
در تلگرام آی دی زیر را جست و جو کنید

معلم یار چهارم

نمونه سوال با پاسخنامه

درستنامه

فیلم های آموزشی

فیلم حل تعارین کتاب درسی

گام به گام

جزوه

برای دریافت مطالب کافی عضو کانال معلم یار چهارم

به آدرس: ▼▼

➤ @MoallemYariR4

بشید

ورود به کانال اصلی لمس کنید

در صورت قطع کله اینترنت کشور!

دوباره برمیگردم به سایت معلم یار و مطالب جدید و پایه به پایه تو سایت میفرستم



WwW.MoallemYar.iR



WwW.6Paye.iR





به نام خدای مهربان

اداره آموزش و پرورش منطقه یک تهران

دبستان پسرانه غیر دولتی رشد (دوره دوم)

آزمون میان نوبت دوم

ریاضی (۴)

کد:






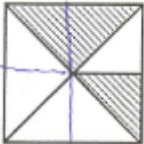
کلاس: چهارم /

تاریخ آزمون:

نام و نام خانوادگی:

آموزگار:

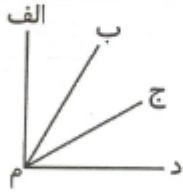
مدت پاسخگویی ۴۰ دقیقه

بارم	شرح سوال	ردیف
۱	جمعیت ایران در سال ۱۳۹۱ ، ۷۶۰۳۵۲۰۹ نفر بوده است. این عدد را به حروف بنویس. بیشترین ارزش مکانی مربوط به کدام رقم است ؟	۱
۰/۵	<div style="display: flex; justify-content: space-around; align-items: center;"> <div style="border: 1px solid black; padding: 5px; text-align: center;">  </div> <div style="border: 1px solid black; padding: 5px; text-align: center;">  </div> </div> <p>قیمت تقریبی هر یک از وسایل زیر را بنویس.</p>	۲
۱	<p>شکل هفتم از چند چوب کبریت درست شده است؟</p> <div style="display: flex; justify-content: space-around; align-items: center;"> <div style="text-align: center;">  <p>(۱)</p> </div> <div style="text-align: center;">  <p>(۲)</p> </div> <div style="text-align: center;">  <p>(۳)</p> </div> </div>	۳
۱	<p>چه کسری از شکل مقابل رنگی است؟</p> <div style="text-align: center;">  </div>	۴
۱	<p>دو سوم از تخم مرغ های زیر رنگی است. چند تا رنگی نیست؟</p>	۵
۱	<p>آیا عدد ۴۵۶ بر ۳ بخش پذیر است یا خیر ؟ دلیل خود را بیان کنید.</p>	۶
۱	<p>یک کامیون ۲۸۵ کیسه ۴۶ کیلوگرمی را حمل می کند. بار این کامیون چند کیلوگرم است؟</p>	۷

۸ تقسیم کن و عبارت های درستی تقسیم را بنویس.

$$\begin{array}{r} 7533 \\ 31 \end{array}$$

۹ در شکل زیر چند زاویه وجود دارد؟

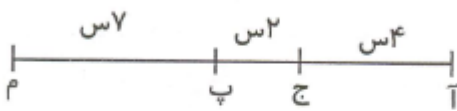


۱۰ با توجه به علامت // اندازه ی زاویه های خواسته شده را بنویس.



۱۱ ۵۰ دقیقه قبل از ساعت ۱۱:۳۰ را روی محور نشان بده.


۱۲ با توجه به اندازه های داده شده ، اندازه ی پاره خط مورد نظر را به دست آورید.



الف) اندازه ی پاره خط (ج م) چه قدر است؟

ب) بزرگترین پاره خط کدام است؟ اندازه ی آن را محاسبه کن.


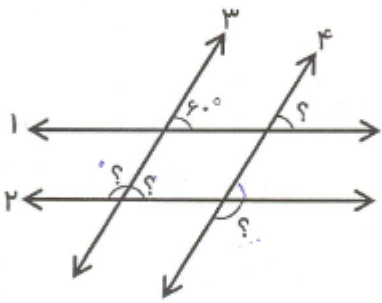
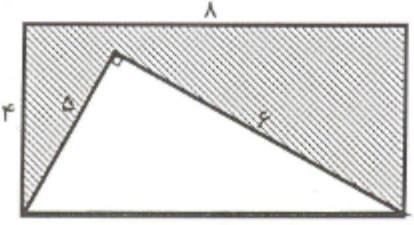
۱۳ عدد های مخلوط زیر را روی محور و شکل نشان بده .



۱۴ مقایسه کن.

$$\frac{1}{2} \square \frac{3}{6}$$

$$\frac{3}{5} \square \frac{2}{4}$$

۱	۵ تکه چوب ۰/۳ متری و دو تکه چوب ۰/۶ متری را به دنبال هم قرار می دهیم ، چه طولی به دست می آید؟	۱۵
۱	حاصل عبارت زیر را به دست آورید. $۱۳/۹ + ۲/۴ - ۴/۸ =$	۱۶
۱	خطی موازی با خط (الف ب) رسم کنید که فاصله ی بین آن ها ۲ سانتی متر باشد. 	۱۷
۱	خط های ۱ و ۲ با هم و خط های ۳ و ۴ با هم موازی هستند. اندازه ی زاویه هایی که با علامت ؟ مشخص شده اند را پیدا کن و بنویس. 	۱۸
۰/۵	یک دوزنقه رسم کن.	۱۹
۰/۵	در هر متوازی الاضلاع ضلع های رو به رو با هم . و . هستند.	۲۰
۲	مساحت قسمت رنگ شده را پیدا کن. 	۲۱



پیشانی

به نام خدای مهربان
اداره آموزش و پرورش منطقه یک تهران

دبستان پسرانه غیر دولتی رشد (دوره دوم)

آزمون میان نوبت دوم
ریاضی (۴)

کد:
کلاس: چهارم /



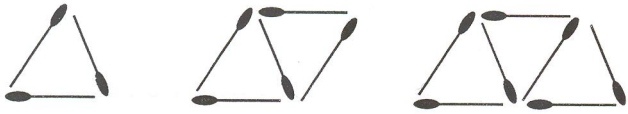
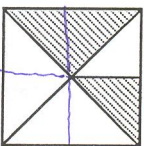
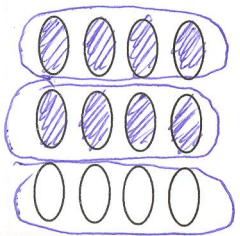
تاریخ آزمون:

نام و نام خانوادگی:

آموزگار:

مدت پاسخگویی ۴۰ دقیقه

طیبه

بارم	شرح سوال	ردیف
۱	جمعیت ایران در سال ۱۳۹۱، ۷۶۰۳۵۲۰۹ نفر بوده است. این عدد را به حروف بنویس. <i>هفتاد و شش میلیون و بیست و پنج هزار و دویست و نُه</i> بیشترین ارزش مکانی مربوط به کدام رقم است؟ <i>۷</i>	۱
۰/۵	قیمت تقریبی هر یک از وسایل زیر را بنویس.   <i>۴.۰۰۰.۰۰۰ تومان</i> <i>۲۰۰.۰۰۰ تومان</i>	۲
۱	شکل هفتم از چند چوب کبریت درست شده است؟  (۱) (۲) (۳) <i>$(7 \times 2) + 1 = 15$</i>	۳
۱	چه کسری از شکل مقابل رنگی است؟  <i>$\frac{3}{8}$ رنگی است</i>	۴
۱	دو سوم از تخم مرغ های زیر رنگی است. چند تا رنگی نیست؟  <i>۴ تا رنگی نیست</i>	۵
۱	آیا عدد ۴۵۶ بر ۳ بخش پذیر است یا خیر؟ دلیل خود را بیان کنید. <i>بله بخش پذیر است چون باقی مانده تقسیم صفر شده است</i> $\begin{array}{r} 456 \div 3 \\ \underline{300} \\ 156 \\ \underline{150} \\ 60 \\ \underline{60} \\ 0 \end{array}$	۶
۱	یک کامیون ۲۸۵ کیسه ۴۶ کیلوگرمی را حمل می کند. بار این کامیون چند کیلوگرم است؟ <i>$285 \times 46 \rightarrow 40 + 6$</i> $\begin{array}{r} 285 \\ \times 46 \\ \hline 1710 \\ 11400 \\ \hline 13110 \end{array}$	۷

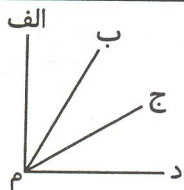
تقسیم کن و عبارت های درستی تقسیم را بنویس.

۸

$$\begin{array}{r} 7533 \\ 31 \overline{) 6200} \\ \underline{1433} \\ 1240 \\ \underline{93} \\ 93 \\ \underline{0} \end{array}$$

$(243 \times 31) + 0 = 7533$
 $0 < 31$

۱



$3 + 2 + 1 = 6$

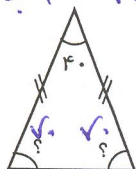
زاویه

در شکل زیر چند زاویه وجود دارد؟

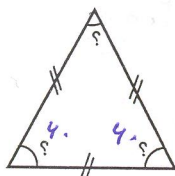
۹

۱

$180 - 40 = 140$
 $140 \div 2 = 70$




$180 \div 3 = 60$



با توجه به علامت // اندازه ی زاویه های خواسته شده را بنویس.

۱۰

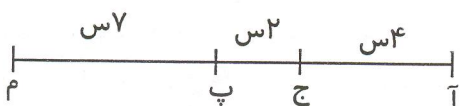
۱



۵۰ دقیقه قبل از ساعت ۱۱:۳۰ را روی محور نشان بده.

۱۱

۱



۹ سانتی متر

الف) اندازه ی پاره خط (ج م) چه قدر است؟

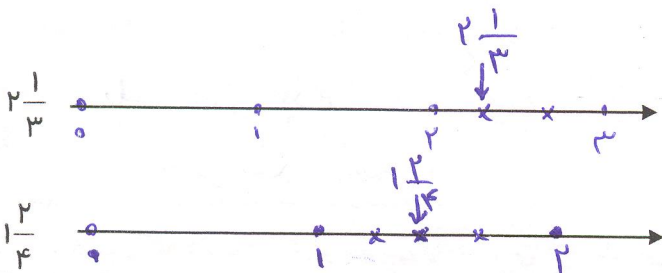
۱۲

با توجه به اندازه های داده شده ، اندازه ی پاره خط مورد نظر را به دست آورید.

$7 + 2 + 4 = 13$

ب) بزرگترین پاره خط کدام است؟ اندازه ی آن را محاسبه کن.

۱



عدد های مخلوط زیر را روی محور و شکل نشان بده.

۱۳

۰/۵

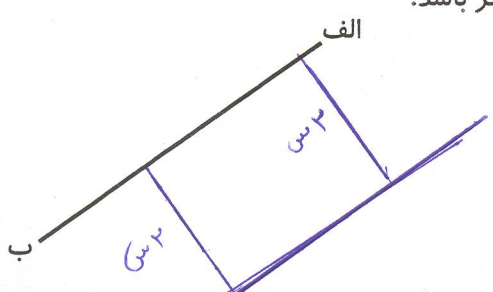
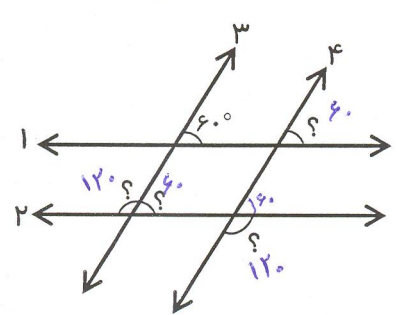

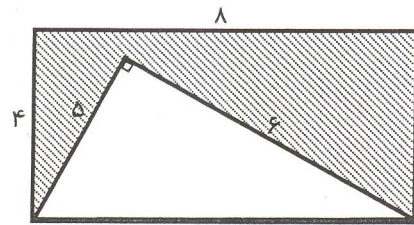
مقایسه کن.

۱۴

$\frac{2}{3} > \frac{1}{2}$

$\frac{2}{3} = \frac{2 \times 2}{3 \times 2} = \frac{4}{6}$

$\frac{1}{2} = \frac{1 \times 3}{2 \times 3} = \frac{3}{6}$

۱	<p>۵ تکه چوب ۰/۳ متری و دو تکه چوب ۰/۶ متری را به دنبال هم قرار می دهیم ، چه طولی به دست می آید؟</p> $(5 \times 0,3) + (2 \times 0,6) = 2,7$ <p style="text-align: center;">۱,۵ ۱,۲</p>	۱۵
۱	<p>حاصل عبارت زیر را به دست آورید.</p> $13/9 + 2/4 - 4/8 = 11/5$ <p style="text-align: center;">۱۶,۳</p>	۱۶
۱	<p>خطی موازی با خط (الف ب) رسم کنید که فاصله ی بین آن ها ۲ سانتی متر باشد.</p> 	۱۷
۱	<p>خط های ۱ و ۲ با هم و خط های ۳ و ۴ با هم موازی هستند. اندازه ی زاویه هایی که با علامت ؟ مشخص شده اند را پیدا کن و بنویس.</p> 	۱۸
۰/۵	<p>یک دوزنقه رسم کن.</p> 	۱۹
۰/۵	<p>در هر متوازی الاضلاع ضلع های رو به رو با هم موازی و مسایط هستند.</p>	۲۰
۲	<p>مساحت قسمت رنگ شده را پیدا کن.</p>  <p style="text-align: right;"> $8 \times 4 = 32$ مساحت مستطیل $(4 \times 3) \div 2 = 6$ مساحت مثلث $32 - 6 = 26$ تفاوت مساحت قسمت رنگ شده ۲۶ است. </p>	۲۱