



تم ۱۸



در این تم یاد می‌گیریم:

★ مفاهیم جلو، پشت، عقب، ستون، ردیف اول تا دهم

★ آموزش الگویابی عددی

★ مهارت خرید

★ جمع دو عدد با حاصل جمع بیشتر از ۱۰

★ جمع دو عدد با کمک چوب‌خط

دانش آموز

فرزندم؛ به تصویر تم ۱۸ با دقت نگاه کن و هر چیزی را که در تصویر می‌بینی، بگو.

به شیشه‌های مربا نگاه کن. در هر ردیف، چند شیشه مربا می‌بینی؟

به نظر شما چرا مادر به شیشه‌ی رب نگاه می‌کند؟

در ردیف اول، چند شیشه‌ی مربا، رب و پاکت شیر می‌بینی؟

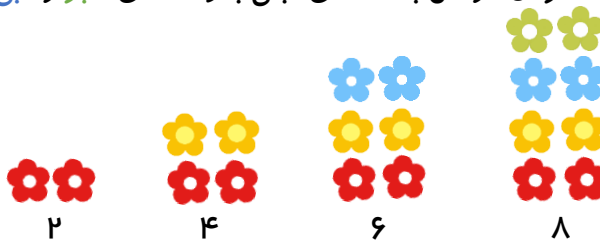
دوقلوها باهم مشغول کشیدن نقاشی شدند. آن‌ها می‌خواهند با مداد رنگی، گل‌های رنگی را به صورت ۲ تا ۲ تا نقاشی کنند.

اولی، دو گل قرمز کشید.




دوقلوی دیگر، دو گل زرد به گل‌های قرمز اضافه کرد.

و این کار را هر بار با اضافه کردن دو گل به دسته‌ی قبلی با رنگ‌های سبز و آبی ادامه دادند.




سپس عدد مربوط به هر دسته را نوشتند.

فرزدم، تعداد بال‌های پروانه را بشمار و بنویس.



فرزند باهوشم، در هر یک از تصاویر زیر، تعداد پای گوسفندان را بشمار و بنویس.









ارجاع به کتاب

فرزدم تمرین صفحه‌ی
۱۲۱ و ۱۲۲ کتاب ریاضی
را انجام بده.

دوقلوها به همراه برادر و دوستان خود، برای تفریح به باغ آمدند. هر کدام از آن‌ها تعدادی خوراکی مفید آورده‌اند تا با دوستان‌شان بخورند. به کمک جدول مشخص کن از هر نوع خوراکی چندتا آورده‌اند.



				$6 + 5 = 11$
				
				

ارجاع به کتاب



فرزندم تمرین صفحه‌های
۱۲۳، ۱۲۴، ۱۲۵ و ۱۲۶
کتاب ریاضی را انجام بده.