

آزمون عملکردی ریاضی پایه چهارم (الگوها و ماشین ورودی و خروجی)

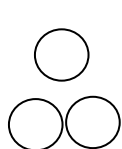
نام و نام خانوادگی:

آموزگار: زمانیان

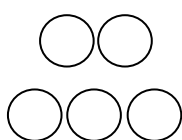
مهر 94



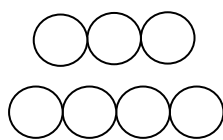
1) با توجه به الگوها شکل نهم از چند دایره تشکیل شده است؟



1



2

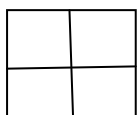


3

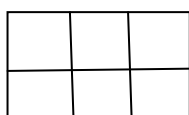
؟

9

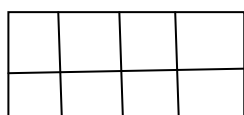
2) تصویر الگوی نهم را بکش.



1



2

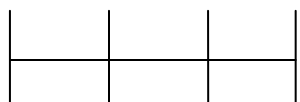


3

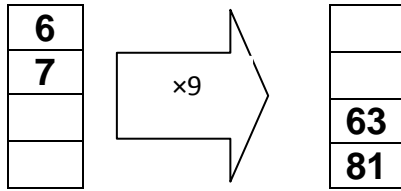
؟

9

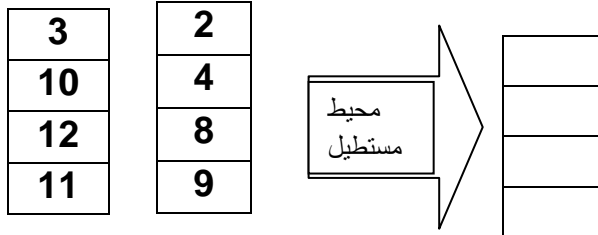
3) نرده ی روبه رو از سه واحد تشکیل شده است و 11 میله دارد اگر این نرده از 7 واحد تشکیل شده بود چند میله داشت؟ توضیح دهید



4) ماشین ورودی و خروجی زیر را کامل کن.



عرض      طول



موفق باشی دختر گلم

نظر معلم: