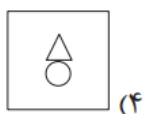


الف - سؤال های هوش تحلیلی: پاسخ صحیح سؤال های زیر را از میان جواب های پیشنهاد شده انتخاب کنید و شماره ی آن را در پاسخنامه از ردیف ۱ تا ۱۵ علامت بزنید.

@riazicafe

➤ در سؤال های ۱ تا ۶ گزینه ی ناهماهنگ تر با دیگر گزینه ها را انتخاب کنید.

-۱



(۴)



(۳)

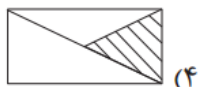


(۲)

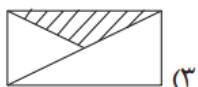


(۱)

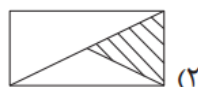
-۲



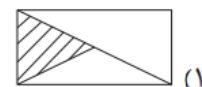
(۴)



(۳)

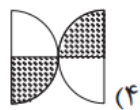


(۲)

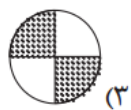


(۱)

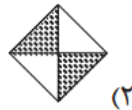
-۳



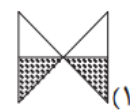
(۴)



(۳)



(۲)



(۱)

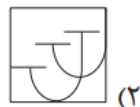
-۴



(۴)



(۳)

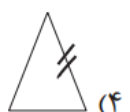


(۲)

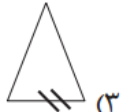


(۱)

-۵



(۴)



(۳)



(۲)



(۱)

-۶



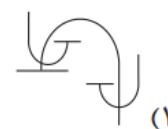
(۴)



(۳)

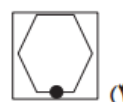
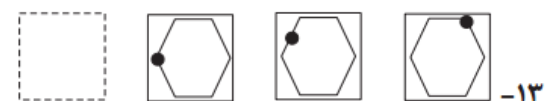
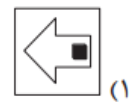
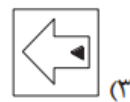
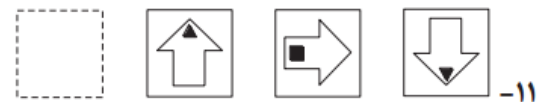
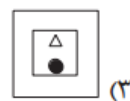
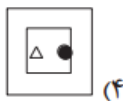
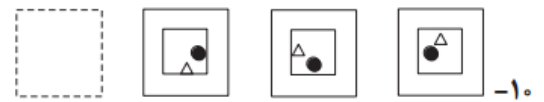
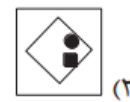
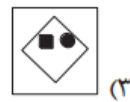
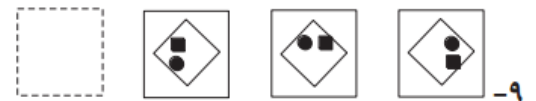
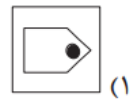
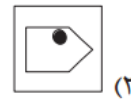
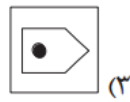
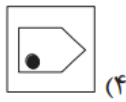
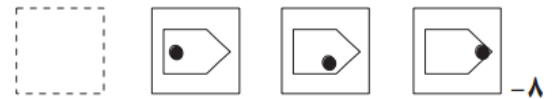
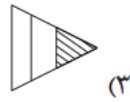
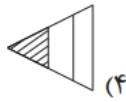
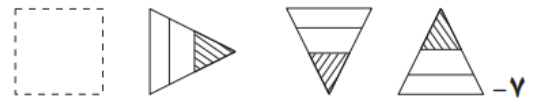


(۲)



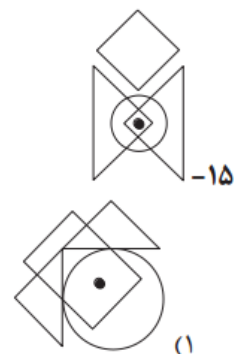
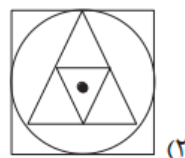
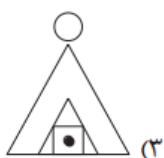
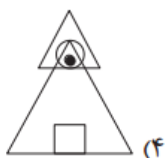
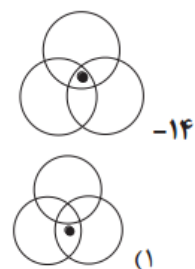
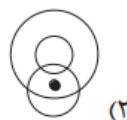
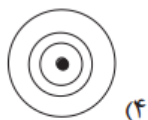
(۱)

در سؤال‌های ۷ تا ۱۳ گزینه‌ی مناسب‌تر را برای پر کردن جای خالی انتخاب کنید.



➤ در سؤال‌های ۱۴ و ۱۵ با توجه به جایگاه نقطه نسبت به شکل‌ها، گزینه‌ی همانند تصویر داده شده را انتخاب کنید.

@riazicafe



- ۱- گزینه‌ی ۱ پاسخ صحیح است.
همه‌ی گزینه‌ها شامل یک مربع، یک مثلث و یک دایره است، ولی در گزینه یک، شکل  موجود است که مانند بقیه نیست.
- ۲- گزینه‌ی ۳ پاسخ صحیح است.
در گزینه‌ی ۳ مثلث هاشورخورده با مثلث هاشورخورده در سایر گزینه‌ها فرق دارد..
- ۳- گزینه‌ی ۱ پاسخ صحیح است.
در گزینه ۱ بر خلاف بقیه‌ی گزینه‌ها اشکال هاشورخورده روبروی هم نیستند.
- ۴- گزینه‌ی ۲ پاسخ صحیح است.
همه‌ی گزینه‌ها غیر از گزینه‌ی ۲، یک خط اضافه دارند.
- ۵- گزینه‌ی ۳ پاسخ صحیح است.
علامت استفاده شده برای مشخص کردن ضلع، برعکس علامت باقی گزینه‌ها است.
- ۶- گزینه‌ی ۳ پاسخ صحیح است.
چون در سایر گزینه‌ها، انتهای پایه‌ها در داخل پایه بزرگتر قرار دارد.
- ۷- گزینه‌ی ۴ پاسخ صحیح است.
چون گزینه‌ی یک و سوم تکراری هستند و گزینه‌ی ۲ نیز هاشورخوردگی متفاوتی دارد.
- ۸- گزینه‌ی ۲ پاسخ صحیح است.
گزینه‌های ۱ و ۳ تکراری‌اند و در گزینه‌ی ۴ برخلاف الگو، نقطه در چهار جهت اصلی (بالا، پایین، چپ و راست) قرار ندارد.
- ۹- گزینه‌ی ۴ پاسخ صحیح است.
طبق الگو شکل در هر مرحله ۹۰ درجه به سمت چپ دوران می‌کند.
- ۱۰- گزینه‌ی ۲ پاسخ صحیح است.
طبق الگو در شکل چهارم دایره باید در مکان بالا و مثلث در راست باشد.
- ۱۱- گزینه‌ی ۱ پاسخ صحیح است.
اول آنکه طبق الگو، جهت فلش باید به سمت چپ باشد، ثانیاً شکل داخلی باید مربع و در ابتدای پیکان باشد.
- ۱۲- گزینه‌ی ۱ پاسخ صحیح است.
شکل اول و سوم با دوران حول محور عمود به یکدیگر مرتبط می‌شوند، بنابراین عقلانی است که شکل دوم و چهار با دوران حول محور افقی به یکدیگر مرتبط شوند.
- ۱۳- گزینه‌ی ۴ پاسخ صحیح است.
دایره در هر مرحله یکی در میان یک سوم دور، حول محیط شش ضلعی کامل می‌چرخد.
- ۱۴- گزینه‌ی ۴ پاسخ صحیح است.
دایره‌ی سیاه در هر شکل نشان داده شده، درون هر ۳ دایره است. این اتفاق تنها در گزینه‌ی ۴ تکرار می‌شود.
- ۱۵- گزینه‌ی ۴ پاسخ صحیح است.
دایره سیاه فقط در درون دایره و دو مثلث قرار گرفته است، این اتفاق تنها در گزینه‌ی ۴ رخ می‌دهد. در سایر گزینه‌ها نقطه‌ی سیاه درون مربع هم واقع شده است.