

تاریخ:	آموزگار:	به نام خدا	دبستان:
..... / /	طراح: حسین تیموری	کاربرگ فصل سوم ریاضی	نام و نام خانوادگی:

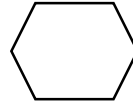
۱- نام اشکال و تعداد گوشه و ضلع آن ها را بنویس.



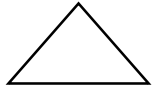
نام:
گوشه:
ضلع:



نام:
گوشه:
ضلع:



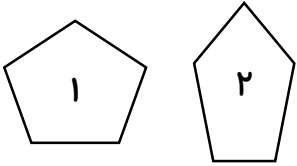
نام:
گوشه:
ضلع:



نام:
گوشه:
ضلع:

* در چند ضلعی ها، تعداد با تعداد مساوی است.

۲- شکل های زیر چه تفاوت و چه شباهت هایی با هم دارند.



شباهت:
تفاوت:

۳- الگوهای عددی را ادامه بده.

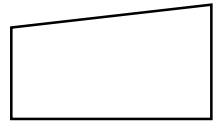
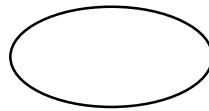
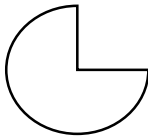
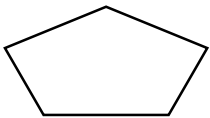
۱ - ۵ - ۹ - ۱۳ - - - -

۷ - ۱۲ - ۱۷ - ۲۲ - - - -

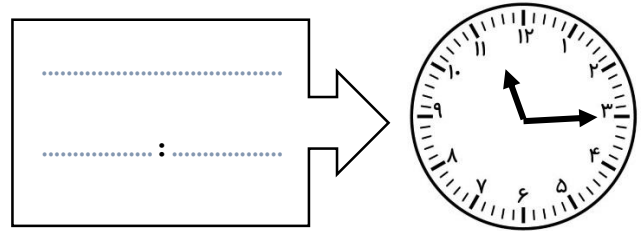
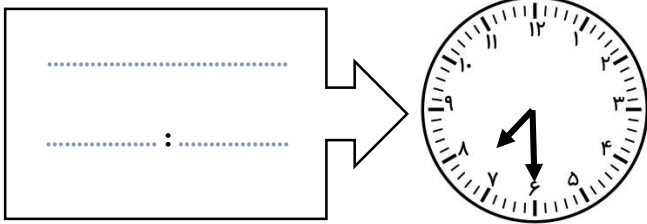
۲ - ۴ - ۸ - ۱۴ - - - -

۱ - ۲ - ۴ - ۷ - - - -

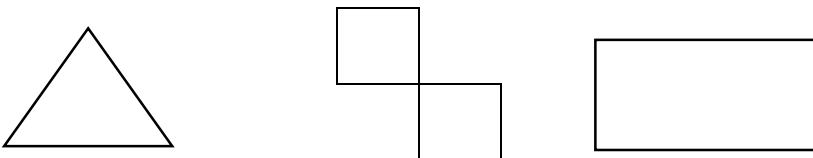
۴- شکل های زیر را با کشیدن یک خط به دو قسمت مساوی تقسیم کنید. کدام شکل خط تقارن ندارد.



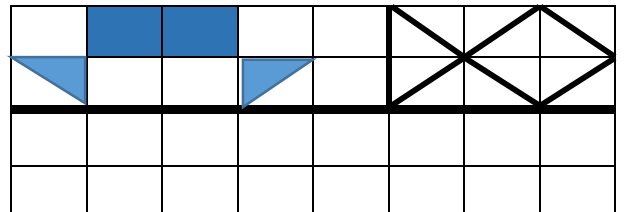
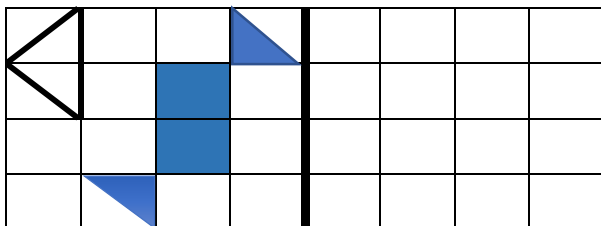
۵- زمانی که هر ساعت نشان می دهد را به دو صورت بنویس.




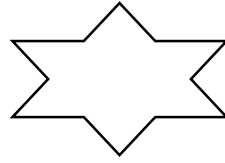
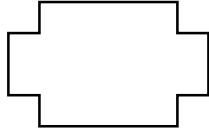
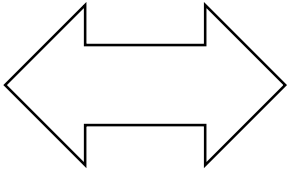
۶- شکل ها را به چهار قسمت مثل هم تقسیم کن.



۷- با توجه به خط تقارن، نیمه ی دیگر شکل را رسم کن.



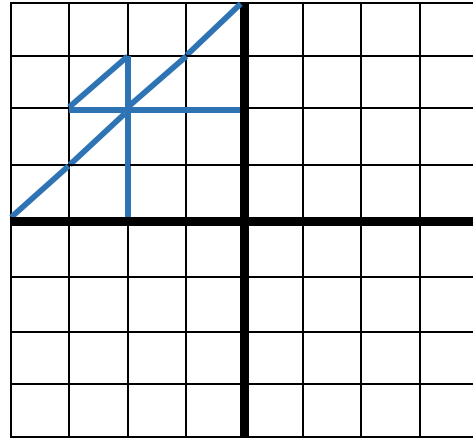
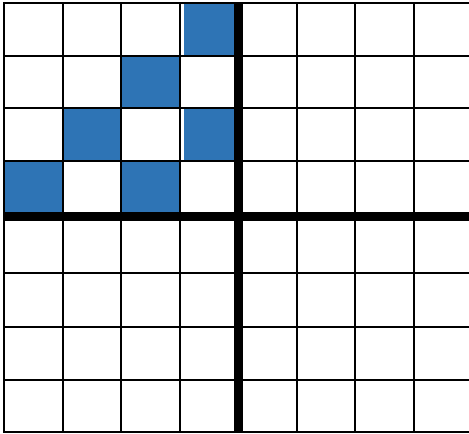
۸- برای شکل های زیر ۲ خط تقارن بکش که شکل ها را به ۴ قسمت مساوی تقسیم کند.



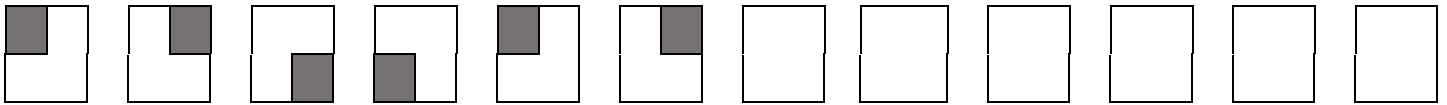
۹- الف) ساعت ۵ است، دو و نیم ساعت بعد ساعت چند است؟

ب) ساعت ۷ است، سه ساعت و ربع دیگر ساعت چند است؟


۱۱- سه قسمت دیگر هر شکل را با توجه به خط های تقارن کامل کن.



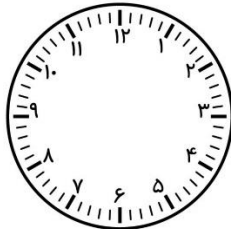
۱۲- الگوی زیر را ادامه بده.




۱۳- زمان های زیر را روی هر ساعت نشان بده.



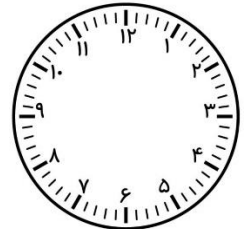
نیم ساعت مانده به ۶



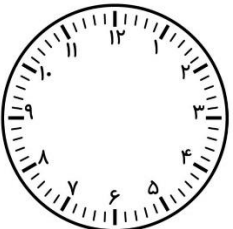
یک ربع مانده به ۳



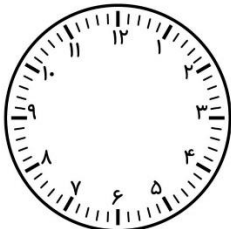
نیم ساعت بعد از ۱۱




یک ربع بعد از ۸



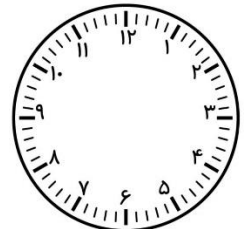
بیست دقیقه مانده به ۵



ده دقیقه مانده به ۹



چهار و ربع



دوازده و نیم

۱۴- عددهای دیجیتال مربوط به هر عدد را زیر آن بنویس.

