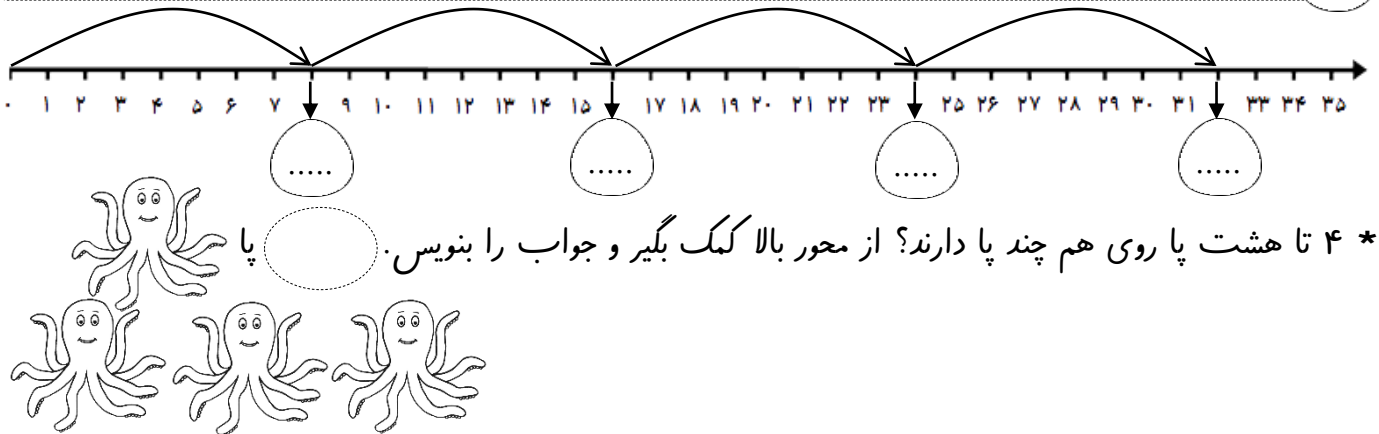


جاهای خالی را کامل کن، سپس به سوال پایین با کمک محور پاسخ بده.

۱



جمع و تفریق های زیر را مانند نمونه انجام بده.

۲

$7 + 5 + 3 + 5 + 4 = \dots$ $5 + 10 - 5 + 10 + 10 + 1 = \dots$ $6 + 4 + 5 - 5 + 4 = \dots$
 $1 + 5 + 4 + 5 + 10 + 10 = \dots$ $2 + 5 + 3 - 5 + 10 = \dots$ $8 + 4 + 2 + 6 - 4 = \dots$
 $10 - 10 + 5 + 9 + 5 = \dots$ $3 + 7 - 10 + 5 + 10 = \dots$ $10 + 4 + 6 - 3 - 7 = \dots$

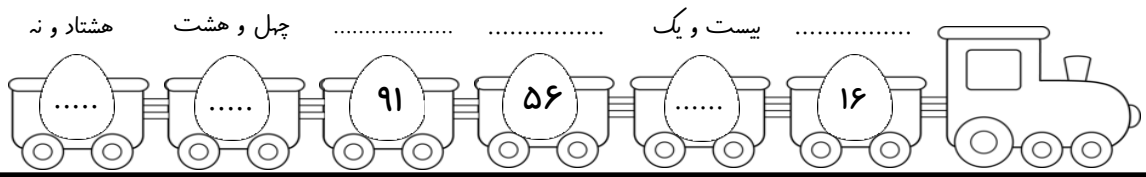
عددهای مثل هم را با یک رنگ به هم وصل کن.

۳

94 63 79 46 57 85
 هفتاد و نه چهل و شش پنجاه و هفت نود و چهار هشتاد و پنج شصت و سه


جاهای خالی را کامل کن.


۴



مسئله های زیر را با رسم چوب خط حل کن.


۵

* امیرعلی برای تولدش ۹ بادکنک باد کرد. خواهر و برادرش هم هر کدام ۹ بادکنک باد کردند. آن ها روی هم چند بادکنک باد کرده اند؟  بادکنک

* گل فروشی ۴ گلدان داشت. او در هر گلدان ۹ گل کاشت. گل فروش روی هم چند گل کاشته است؟  گل

۶ با مداد زرد ۸ تا ۸ تا بشمار و رنگ بزن، با مداد نارنجی ۹ تا ۹ تا بشمار و رنگ کن. کدام خانه را دو بار رنگ زدی؟ در داخل گل بنویس.

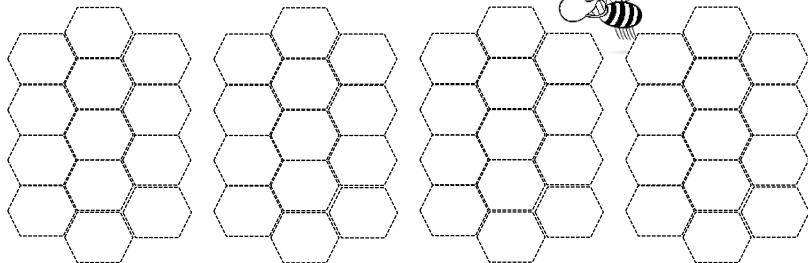
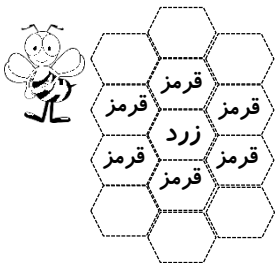
۱	۲	۳	۴	۵	۶	۷	۸	۹	۱۰
۱۱	۱۲	۱۳	۱۴	۱۵	۱۶	۱۷	۱۸	۱۹	۲۰
۲۱	۲۲	۲۳	۲۴	۲۵	۲۶	۲۷	۲۸	۲۹	۳۰
۳۱	۳۲	۳۳	۳۴	۳۵	۳۶	۳۷	۳۸	۳۹	۴۰
۴۱	۴۲	۴۳	۴۴	۴۵	۴۶	۴۷	۴۸	۴۹	۵۰
۵۱	۵۲	۵۳	۵۴	۵۵	۵۶	۵۷	۵۸	۵۹	۶۰
۶۱	۶۲	۶۳	۶۴	۶۵	۶۶	۶۷	۶۸	۶۹	۷۰
۷۱	۷۲	۷۳	۷۴	۷۵	۷۶	۷۷	۷۸	۷۹	۸۰



با اولی ها
Baavaliha.blog.ir
@BaaAvaliha
مهید مهدی فانی


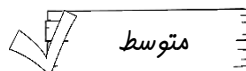
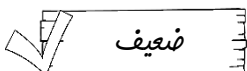
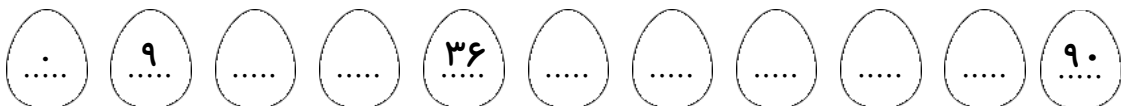
مانند نمونه رنگ بزن.

۷



۸ تا ۹ تا بشمار و در جاهای خالی عدد مناسب بنویس.

۸



نظر آموزگار: