

۱- جمعیت ایران چند نفر است؟ بیش از ۸۰ میلیون نفر

۲- جمعیت چگونه افزایش می یابد؟ اگر تعداد افرادی که متولد می شوند بیشتر از افرادی که از دنیا می روند باشد، جمعیت افزایش می یابد.

۳- جمعیت چگونه کاهش می یابد؟ اگر تعداد افرادی که متولد می شوند کمتر از افرادی که از دنیا می روند باشد، جمعیت کاهش می یابد.


۴- محاسبات نشان می دهد رشد جمعیت در بعضی از کشورها زیاد و در بعضی از کشورها کاهش یافته است. صحیح(*) غلط ()

۵- رشد منفی جمعیت چیست؟ وقتی تعداد زاد و ولدها کمتر از مرگ و میرها باشد به این رشد، رشد منفی می گویند.

۶- در کشورهایی که تشکیل خانواده در آنها کمتر صورت می گیرد دارای رشد منفی در جمعیت نمی باشند. صحیح () غلط (*)

۷- وقتی رشد جمعیت منفی می شود کشورها با چه مشکلاتی روبرو می شوند؟ جمعیت جوان کاهش و تعداد سالمندان افزایش مییابد و جامعه از نیروی جوان که می تواند کار کند و با فعالیتهای اقتصادی و آموختن علم به پیشرفت کشور کمک کند، محروم میشود.

۸- عکس شماره یک و دو به ترتیب کدام گزینه را نشان می دهند؟




۱

الف) افزایش جمعیت- کاهش جمعیت (*)

ب) کاهش جمعیت- افزایش جمعیت ()

ج) هر دو افزایش جمعیت ()

د) هر دو کاهش جمعیت ()



۲

۹- جمهوری اسلامی ایران در بین کشورهای همسایه خود، کشوری پر جمعیت است. صحیح (*) غلط ()

۱۰- به چه دلیل امکان افزایش جمعیت تا دو برابر در ایران وجود دارد؟ به دلیل وسعت زیاد و منابع و ثروت های طبیعی فراوان.

۱۱- چگونه می توان جمعیت ایران را تا دو برابر افزایش داد؟ با برنامه ریزی مناسب.

۱۲- جمعیت را به چند گروه سنی مختلف تقسیم می کنند؟

گروه یک کودکان و جوانان (یکسال تا ۲۵ سال)

گروه دوم بزرگسالان (۲۶ سال تا ۶۵ سال)

گروه سوم سالمندان (بیشتر از ۶۵ سال)

۱۳- در کشور ما .. مرکز آمار ایران .. مسئولیت سرشماری جمعیت را بر عهده دارد.

۱۴- مرکز آمار ایران اطلاعات مختلف مربوط به جمعیت را هر چند سال یک بار منتشر می کند؟ ۵ سال

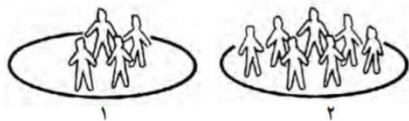
۱۵- وظیفه مرکز آمار ایران چیست؟ مسئولیت سرشماری جمعیت را بر عهده دارد و اطلاعات مختلف مربوط به جمعیت را جمع آوری و در کتاب ها یا نشریات الکترونیکی منتشر می کند.

۱۶- مرکز آمار اطلاعاتی را که جمع آوری می کند چگونه منتشر می کند؟ از طریق کتاب ها، نشریات و پایگاه اینترنتی.

۱۷- روش های جمع آوری اطلاعات در باره جمعیت را بنویسید. علاوه بر استفاده از کتاب ها و نشریات مرکز آمار، با وارد شدن به پایگاه اینترنتی آن، اطلاعات مورد نظرمان را درباره جمعیت به می توانیم دست بیاوریم.

۱۸- منظور از تراکم جمعیت چیست؟ به نسبت افرادی که در یک جا زندگی می کنند به مساحت آنجا، تراکم جمعیت آن مکان می گویند.

۱۹- تراکم جمعیت در کدام عکس بیشتر است؟ عکس شماره ۲



۲۰- تراکم جمعیت یک منطقه را چگونه محاسبه می کنند؟ تعداد جمعیت آن منطقه را بر مساحت آن تقسیم می کنند.

۲۱- فرمول تراکم جمعیت را بنویسید.

$$\text{تراکم جمعیت} = \frac{\text{جمعیت}}{\text{مساحت}}$$

۲۲- جمعیت شهری ۶۵۰۰۰۰ نفر و مساحت آن ۱۶۲۵۰ کیلومتر است، تراکم این شهر چقدر است؟

$$\frac{۶۵۰۰۰۰}{۱۶۲۵۰} = ۴۰ \text{ نفر}$$

۲۳- تراکم جمعیت کشورمان در سال ۱۳۹۵ حدود ۴۹ نفر در کیلومتر مربع بوده است.

۲۴- تراکم جمعیت کشورمان در سال ۱۳۹۵ حدود ۴۹ نفر در کیلومتر مربع بوده است. این تراکم چگونه محاسبه شده است؟

حدود ۴۹ نفر در کیلومتر مربع. (با تقسیم ۸۰۰۰۰۰۰ نفر بر ۱۶۴۸۱۹۵ کیلومتر مربع)

۲۵- در برخی از مناطق ایران جمعیت زیادی متراکم و در بعضی از مناطق نیز خالی از جمعیت یا کم جمعیت است. صحیح (*) غلط ()

۲۶- چرا در بخشی از نواحی داخلی ایران جمعیت بسیار کمی زندگی می کنند؟ به دلیل کمبود بارندگی، آب و هوای گرم و خشک و خاک نامساعد و شور.

۲۷- با وجود شرایط دشوار در نواحی داخلی ایران، چگونه مردم سهم مهمی در تمدن ایران داشته اند؟ با سخت کوشی، پشتکار و خلاقیت

۲۸- کدام مناطق ایران خالی از جمعیت است؟ دشت لوت و دشت کویر

۲۹- تراکم جمعیت در نواحی داخلی ایران چگونه است؟ در بخشی از نواحی داخلی ایران به دلیل کمبود بارندگی، آب و هوای گرم و خشک و خاک نامساعد و شور، جمعیت بسیار کمی زندگی می کنند. بعضی جاها مثل دشت لوت و دشت کویر خالی از جمعیت است.

۳۰- پرجمعیت ترین و پرتراکم ترین ناحیه کشورمان کجاست؟

الف) ناحیه خوزستان () ب) منطقه شهری تهران (*) ج) کناره های دریای خزر () د) کوهپایه های زاگرس ()

۳۱- چرا منطقه شهری تهران پرجمعیت ترین و پرتراکم ترین ناحیه کشور است؟ به دلیل اینکه تهران پایتخت کشور است و در این شهر سازمان های مهم دولتی، دانشگاه ها، بیمارستانها و صنایع زیاد مستقر است.

۳۲- جمعیت زیاد در تهران و شهرهای پر جمعیت چه مشکلاتی را بوجود آورده است؟ آلودگی هوا، ترافیک، آلودگی صوتی و هزینه های بالای زندگی بر مردم.

۳۳- دومین ناحیه پرتراکم در کشور ما کجاست؟ جلگه های کناره دریای خزر.

۳۴- علت رونق کشاورزی در جلگه های کناره دریای خزر چیست؟ به دلیل باران کافی و آب فراوان و هوای معتدل و خاک حاصلخیز کشاورزی.

۳۵- علت جذب جمعیت در ناحیه خوزستان چیست؟ به دلیل داشتن منابع نفت و گاز.

۳۶- به چه دلیل کوهپایه های البرز و زاگرس و دشت ها جمعیت زیادی را به خود جذب کرده است؟ خاک حاصلخیز و بارندگی کافی

دی ماه ۱۴۰۱

@Motaleat707

فعالیت‌ها درس ۱۳

۱- با توجه به نقشه صفحه ۷۴ و راهنمای آن، ابتدا جمعیت کشورها را محاسبه کنید و سپس به ترتیب در جدول بنویسید. (برای مطالعه)

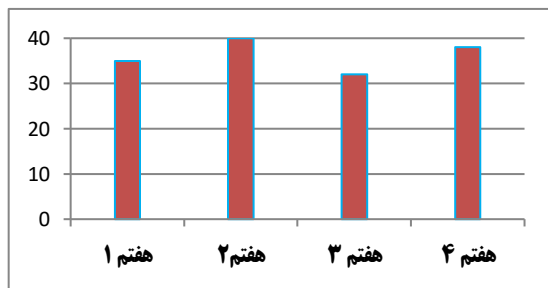
رتبه	۱	۲	۳	۴	۵	۶	۷	۸	۹
نام کشور	پاکستان	ترکیه، ایران	عراق	افغانستان	عربستان	آذربایجان	امارات	ترکمنستان	کویت
جمعیت (میلیون)	۱۹۷	۸۱	۳۸	۳۵	۳۳	۱۰	۱۰	۶	۴

۲- ایران در بین کشورهای همسایه از نظر جمعیت در چه رتبه ای قرار دارد؟ (برای مطالعه) رتبه دوم
 ۳- گفت و گو کنید:

الف) اگر در کشور ما زاد و ولد کم شود در آینده با چه مشکلاتی روبه رو می شویم؟ کاهش نیروی کار فعال، افزایش هزینه های بیمه، کم شدن فعالیت های اقتصادی، کم شدن نیروی نظامی .

ب) در کشورهایی که رشد جمعیت زیاد است کدام گروه سنی افزایش می یابد؟ گروه کودکان، نوجوانان و جوانان (۱ تا ۲۵ سال)

ج) داشتن جمعیت جوان برای کشور ما چه مزایایی دارد؟ از نیروی فعال و پر انرژی جوان می توان بهره برد و کشور در آینده نیازمند نیروی



کار نخواهد بود، افزایش تولید و درآمد و رونق اقتصادی کشور

۴- تعداد جمعیت کلاس های هفتم مدرسه تان را پرس و جو کنید.

سپس این تعداد را روی یک مقوا به صورت نمودار ستونی نمایش دهید.

۵- با توجه به اعداد جدول، تراکم جمعیت را در استان های البرز و سیستان و بلوچستان (به عنوان نمونه) حساب کنید. و بنویسید تراکم جمعیت در استان شما چقدر است؟

استان	جمعیت (نفر)	مساحت (کیلومتر مربع)	تراکم (نفر در کیلومتر مربع)
سیستان و بلوچستان	۲۵۳۴۳۲۷	۱۸۱۷۸۵	۱۴
البرز	۲۴۱۲۵۱۳	۵۱۲۵	۴۷۱
استانی که در آن زندگی می کنید؟

۶- متن صفحه ۷۸ را بخوانید، سپس روی کاغذ جدولی با دو ستون رسم کنید در یک ستون نام ناحیه و در ستون دیگر عوامل مؤثر در پراکندگی جمعیت آن ناحیه را بنویسید.

نام ناحیه	عوامل مؤثر در پراکندگی جمعیت
دشت لوت و دشت کویر	کمبود بارندگی، آب و هوای گرم و خشک و خاک نامساعد و شور
جلگه های کناره دریای خزر	باران کافی، آب فراوان، هوای معتدل و خاک حاصلخیز
ناحیه خوزستان	داشتن معادن و ذخایر نفت و گاز
کوهپایه های البرز و زاگرس و دشت ها	خاک حاصلخیز و بارندگی کافی

۷- با کمک معلم محل تقریبی شهر یا روستای زندگی خود را روی نقشه پراکندگی جمعیت علامت بزنید. آیا شما در منطقه پرتراکم زندگی می کنید یا کم تراکم؟ دانش آموزان با توجه به نقشه صفحه ۷۷ کتاب منطقه محل زندگی خود را انتخاب کنید و به این سؤال را پاسخ دهید.