

بنام خداوند بخشنده مهربان

عنوان درسنامه: مطالعات اجتماعی ((پایه هشتم))

فصل: ۸

عنوان درس ۱۷: ویژگی های طبیعی آسیا

تدوین شریف پور

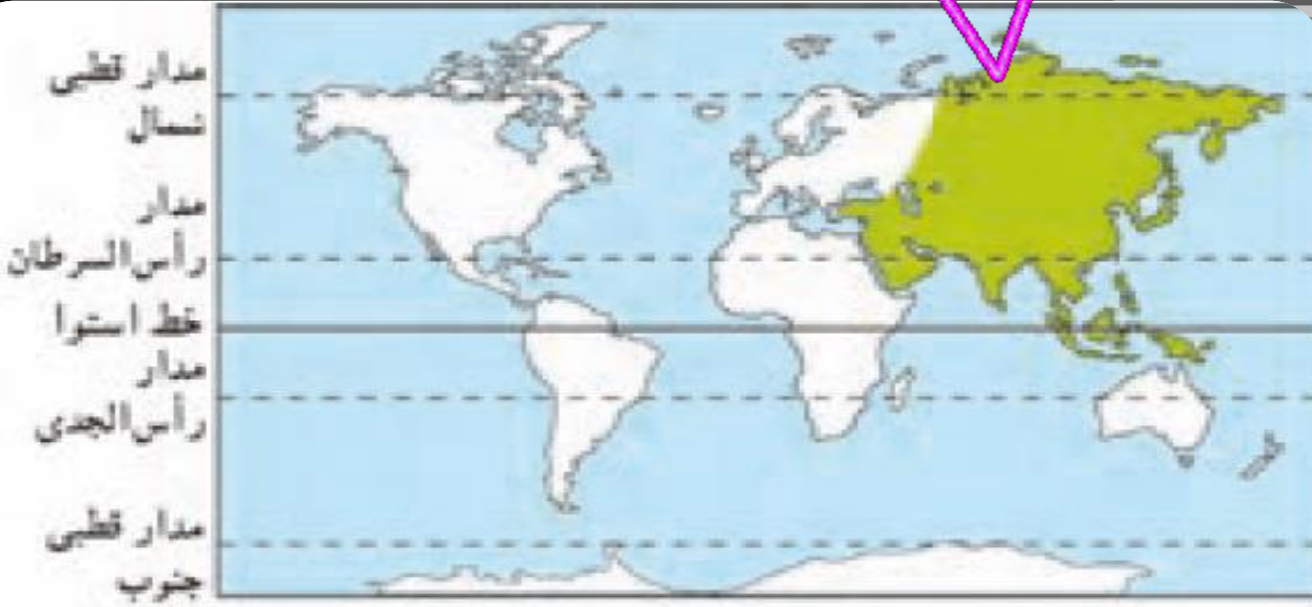
اهداف درس :

آشنایی با ویژگی های طبیعی آسیا

آشنایی با ناهمواریهای آسیا

آشنایی با دما قاره

آشنایی با دمای قاره آسیا



ویژگی های طبیعی آسیا



موقعیت قاره آسیا را شرح دهید
قاره پهناور آسیا از قطب شمال

تا جنوب مدار استوا امتداد یافته است

بخش اعظم قاره آسیا در نیمکره شمالی است



مرز بین قاره آسیا با افریقا



مرز بین قاره آسیا با آمریکا

اقیانوس های اطراف قاره آسیا



اقیانوس های مهم جهانی

اقیانوس منجمد شمالی

اقیانوس آرام

اقیانوس هند

اقیانوس آرک

منجمد شمالی - منجمد جنوبی


پخش کننده خبرنگارون





نقشه فارسی آسیا

WWW.FINDATOUR.CO

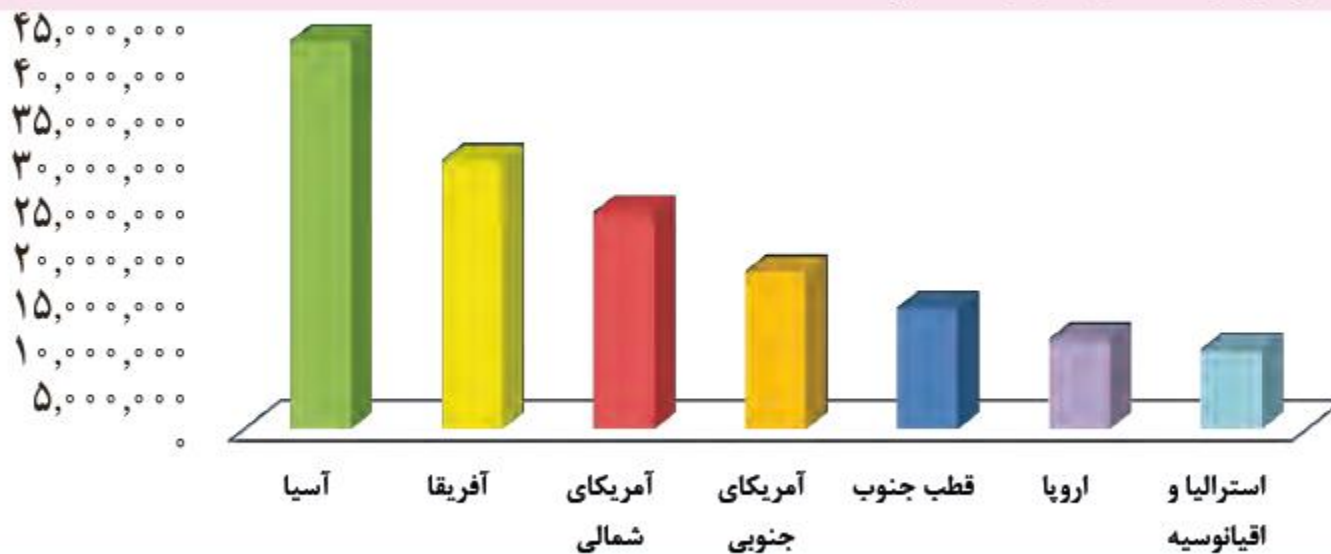


آسیا وسیع ترین قاره جهان است.

فعالیت

۱- با توجه به نمودار، وسعت قاره‌ها را با یکدیگر مقایسه کنید.

کیلومتر مربع



○ مقایسه وسعت قاره‌های جهان



آیا می دانستید که دو قاره **آسیا و اروپا** به هم چسپیده اند و برخی جغرافیدانان آنها را یک قاره واحد بنام ((اوراسیا)) نامیده اند



مرز بین قاره آسیا و اروپا : رشته کوه اورال

ناهموار یها

در قاره آسیا می توان سه نوع از ناهموار یها را مشاهده کرد:



فلات های بلند و کوه های مرتفع

سرزمین های پست

مجمع الجزایر آتشفشانی



فلات چيست

به سرزمين هاي نسبتاً بلندي كه از اطراف به زمين هاي پست منتهي مي شوند، فلات مي گویند.
فلات ها داراي رشته كوهها و دره هاي هستند



۱ فلات های بلند و کوه های مرتفع را نام ببرید :

تبت

آنا تولی

مغولستان



رشته کوه های هیمالیا

اورست

ارتفاع: ۸۸۴۸

لقب: بام دنیا



۲ سرزمین های پست و جلگه ای آسیا کدامند و از چه رودهای تشکیل شده اند:



رودهای بوجود آورنده سند و گنگ از کجا سرچشمه میگیرند؟

در شمال شبه جزیره هند واقع شده از رشته کوه های **هیمالیا** سرچشمه می گیرند، گرفته شده است

جلگه های سند و گنگ محدوده کدام کشور ها را دربر میگیرد؟

بنگلادش

پاکستان

شمال هند





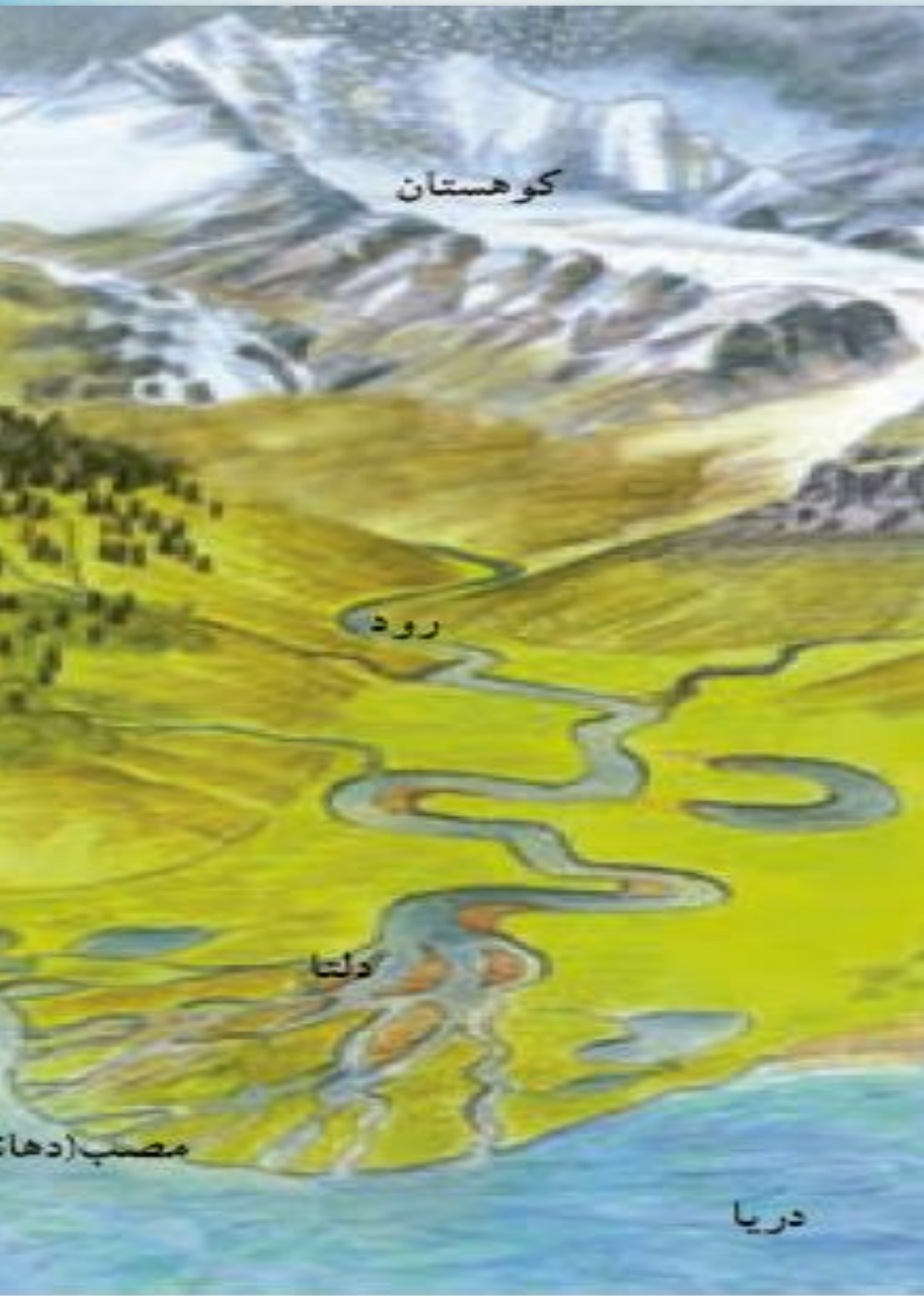
عکس
هوایینی
از دلنا



دلتا

گاهی رودها، آبرفتها را در مصب خود انباشته میکنند و از انباشته شدن آبرفتها در مصب رودها سرزمینهای ، مثلث شکلی به وجود می آید که به آنها دلتا ▲ می گویند.

با انباشته شدن دائمی آبرفت ها، دلتاها پیوسته توسعه می یابند



فواید دلتا و خطرات آن چیست :

دلتاها زمین های مناسبی برای کشاورزی بوده و جمعیت انبوهی را در خود جای داده اند.




○ برنج، جای و کنف از محصولات عمده ای است که در زمین های حاصلخیز دلتای بنگلادش کشت می شود.

○ خطرات دلتا : خطرات دلتا : خطرات دلتا : خطرات دلتا : خطرات دلتا : خطرات دلتا : خطرات دلتا : خطرات دلتا : خطرات دلتا : خطرات دلتا :

خطرات دلتا :

دلتاها همواره در معرض خطرانی چون طوفانهای دریایی، طغیان رود و سیلاب هستند.



یکی دیگر از جلگه های پهناور آسیا، جلگه بزرگ چین در شرق آسیا است.

این جلگه از آبرفت رود یانگ تسه کیانگ

بوجود آمده است



رود یانگ تسه کیانگ، طولی ترین رود آسیا است. این رود که بیش از ۶۰۰۰ کیلومتر (یعنی سه برابر فاصله ارومیه تا زاهدان) طول دارد از کوه های غرب چین سرچشمه می گیرد و از استان ها و شهر های مختلف آن عبور می کند.

بر روی این رود، عظیم ترین سد جهان به نام سد «سه دره» ساخته شده است که از نظر میزان تولید برق در جهان بی نظیر است. علاوه بر آن ذخیره سازی آب، مهار (کنترل) سیلاب ها و جلب گردشگران از دیگر اهداف ساختن این سد است.



دوران های زمین شناسی

صرفاً جهت مطالعه آزاد

دوران	دوره	عهد	میلیون سال قبل
سنوزویک	کواترنر	پلیستوسن	
		پلیوسن	
		میوسن	
		الیگوسن	
		اتوسن	
		پالتوسن	۶۵
		موزوزویک	کرتاسه
موزوزویک	زوراسیک		
	تریاس		
پالئوزویک	پرمن		
	کربونیفر		
	دوئین		
	سیلورین		
	اردوویسین		
	کامبرین		
	پروتروزویک		
			= ۲۵۲
			= ۵۴۱

فعالیت های کوهزایی عمدتاً در این دوره صورت گرفته است



مجمع الجزایر آتشفشانی:

مکان:

مشرق و جنوب شرقی آسیا به ویژه در کناره های اقیانوس آرام

زمان: جزو ناهمواری های جوان است،

پدیده قابل ملاحظه: آتشفشان



بلایای طبیعی این مکان ها:

فعال شدن کوه های آتشفشانی

سونامی

زمین لرزه،

دما در قاره آسیا چگونه است؟

در سرزمین های مجاور قطب شمال در سبیری،
هوا در تمام روزهای سال سرد و دارای یخبندان های طولانی است.



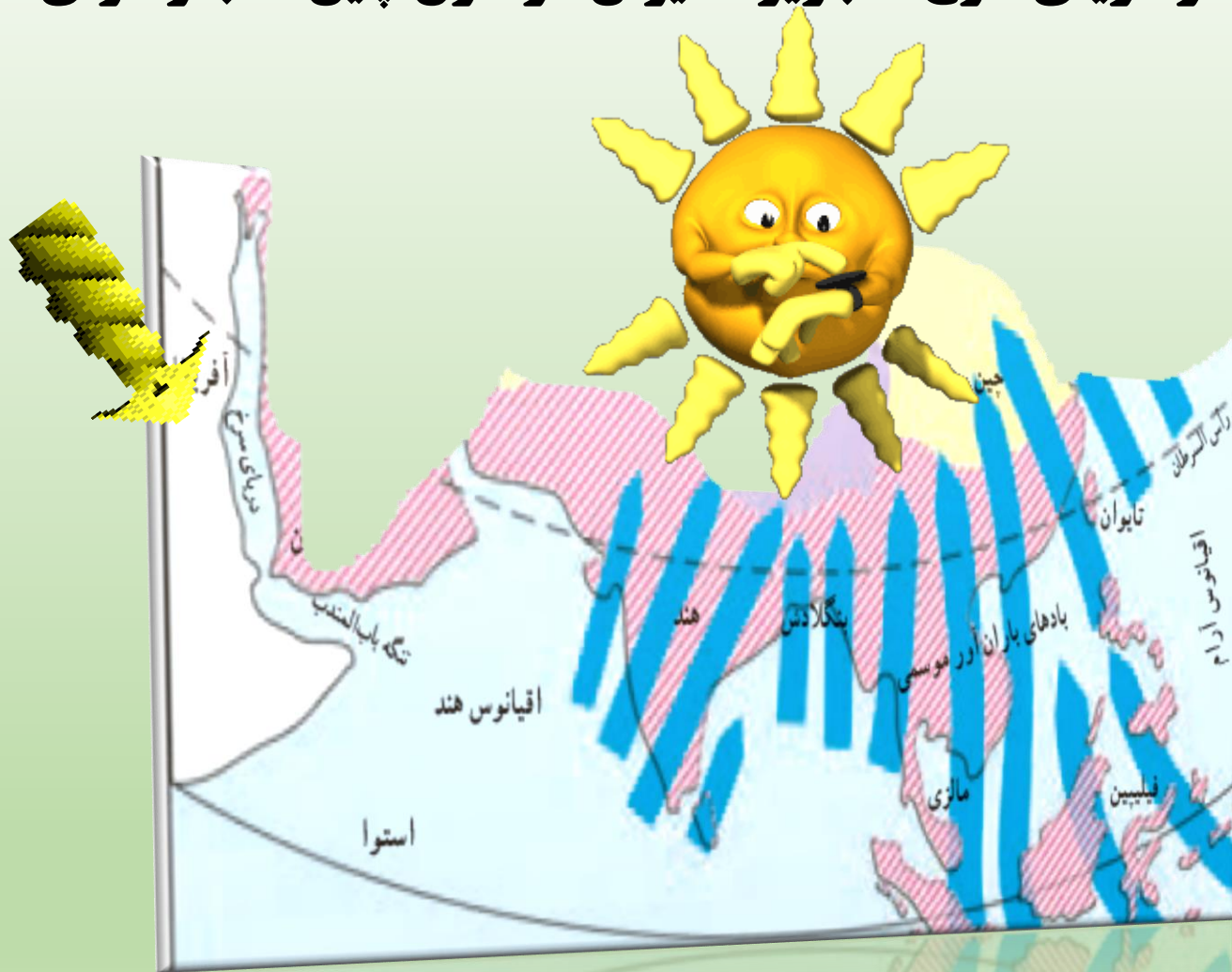
دما در: بخش های داخلی و مرکزی آسیا چگونه است

آب و هوای قاره ای یا برّی دارند.
در این نوع آب و هوا، زمستانها بسیار سرد و
تابستانها بسیار گرم و خشک است



نقشه مناطق داخلی آسیا

سرزمین های مجاور دریاها: دما چگونه است از دریای سرخ تا جزیره تایوان در شرق چین، آب و هوای گرم دارند.



به طور کلی از نظر بارش، آسیا را می توان به دو بخش تقسیم نمود:

بارش



آسیای خشک

آسیای مرطوب
(سبز)



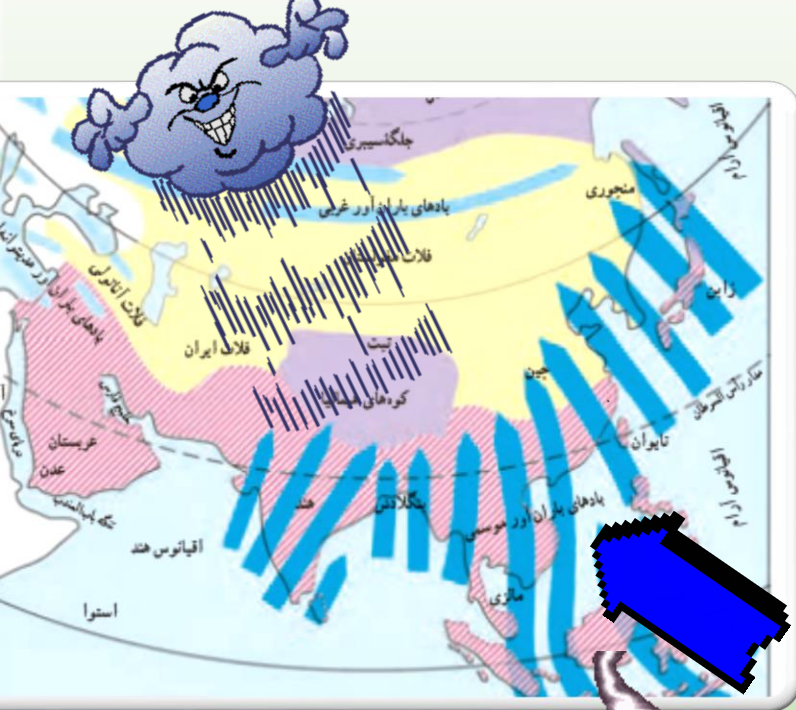
عظمت خداوند و باران
های سیل آسا موسمی



آسیای مرطوب (سبز)

سرزمین های که در معرض بادهای موسمی یا مونسون قرار دارند؟؟

سرزمین های مشرق، جنوب و جنوب شرقی آسیا



ویژگی بادهای موسمی یا مونسون :

۱ در اواخر بهار و فصل تابستان از اقیانوس ها به سمت خشکی می وزند

۲ در صورت بارش کم یا نامنظم، کشاورزان خسارت می بینند.

۳ گاهی باران های سیل آسا باعث طغیان رودخانه ها و بروز سیل در این منطقه می شوند

آسیای خشک شامل کدام مناطق می شود نام ببرید :
سرزمین های غربی و جنوب غربی آسیا شامل:
عربستان



داخل فلات آناتولی

فلات ایران

آسیای مرکزی

به ویژه بیابان گبی

به پایان آمد این دفتر حکایت همچنان باقیست.
موفق و مؤید باشید

