

تاریخ :

به نام کردگار بی همتا

فصل دوم (گرد کردن، جمع و فرآیندی و رسم شکل، مسأله)

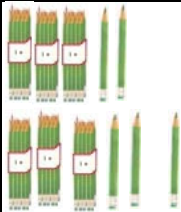
دبستان پسرانه شاهد دانش

نام و نام خانوادگی :

۱- عزیزم! با استفاده از یکان عددهای ۳۲، ۶۵ و ۸۱ برای دهگان

و دهگان عددهای ۶۴ و ۹۷ برای یکان

هر چه می توانی عدد دو رقمی بنویس .




$$\begin{array}{r} ۶۸ \\ - ۲۴ \\ \hline \end{array}$$

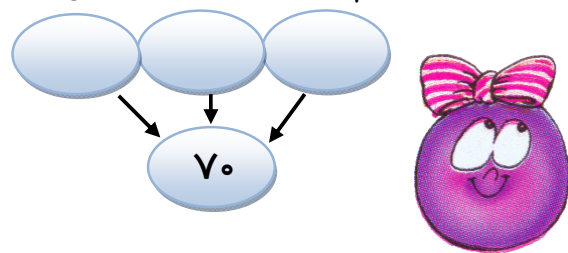
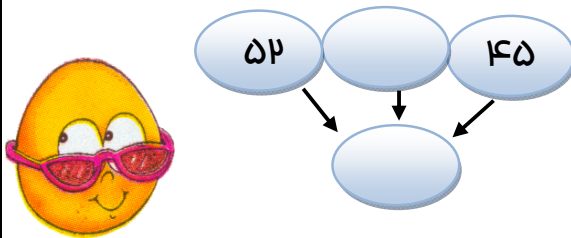
$$\begin{array}{r} ۵۶ \\ + ۳۳ \\ \hline \end{array}$$

$$\begin{array}{r} - \\ \hline ۴۰ \end{array}$$

۲- با کامل کردن شکل و عبارت پاسخ بده .



۳- با توجه به مفهوم تقریب زدن جاهای خالی را کامل کن .



۴- جواب جمع و تفریق ها را به صورت فرایندی پیدا کن .

$$\begin{array}{r} ۳۹ \\ + ۱۸ \\ \hline \end{array}$$

$$\begin{array}{r} ۹۰ \\ - ۶۷ \\ \hline \end{array}$$

$$\begin{array}{r} ۵۳ \\ + ۲۹ \\ \hline \end{array}$$

$$\begin{array}{r} ۴۱ \\ - ۳۴ \\ \hline \end{array}$$

۵- دانش آموزان کلاس دوم علم ۴۶ کتاب و کلاس دوم ادب ۲۹ کتاب به کتاب خانه مدرسه هدیه کردند .

دانش آموزان کلاس سوم ۳۹ تا از کتاب ها را به امانت گرفتند .

چند کتاب در کتاب خانه باقی مانده است ؟



۶- برای عبارت روبه رو، مسأله ای زیبا بنویس و به صورت تقریبی پاسخ بده .

$$\begin{array}{r} 53 \\ - 28 \\ \hline \end{array}$$

.....  
.....  
.....

۷- حاصل دو عبارت سمت راست را به کمک جدول و دو عبارت سمت چپ را به صورت تقریبی به دست آور .

$$\begin{array}{r} 14 \\ + 44 \\ \hline \end{array}$$

$$\begin{array}{r} 87 \\ - 53 \\ \hline \end{array}$$

$$\begin{array}{r} 39 \\ + 49 \\ \hline \end{array}$$

$$\begin{array}{r} 53 \\ - 38 \\ \hline \end{array}$$



عدد ۱۸ به ۲۰ نزدیک تر است یا به ۱۰؟ ..... عدد .... به ۵۰ نزدیک تر است یا به ۶۰؟ ۶۰

عدد ۸۵ به .... نزدیک تر است یا به ....؟ ..... عدد .... به ۳۰ نزدیک تر است یا به ....؟ ۴۰



ساعت ۴ و ۴ دقیقه است .



ساعت ۸ و ۳۹ دقیقه است .



**نام و نام خانوادگی :** دبستان شاهد دانش **تاریخ :**

اهداف این آزمون	خیلی خوب	خوب	قابل قبول	نیاز به تلاش بیشتر
جمع و تفریق اعداد دو رقمی را به صورت فرایندی انجام می دهد .				
تقریب زدن را فرا گرفته است .				
با استفاده از جدول پاسخ عبارت ها را پیدا می کند .				
مسئله ها را درک کرده و پاسخ می دهد .				
با توجه به عبارت مسئله می سازد .				
ساعت را با توجه به دقیقه می خواند .				
جمع بندی نهایی				

**نام و نام خانوادگی :** دبستان شاهد دانش **تاریخ :**

اهداف این آزمون	خیلی خوب	خوب	قابل قبول	نیاز به تلاش بیشتر
جمع و تفریق اعداد دو رقمی را به صورت فرایندی انجام می دهد .				
تقریب زدن را فرا گرفته است .				
با استفاده از جدول ، پاسخ عبارت ها را پیدا می کند .				
مسئله ها را درک کرده و پاسخ می دهد .				
با توجه به عبارت ، مسئله می سازد .				
ساعت را با توجه به دقیقه می خواند .				
جمع بندی نهایی				

**نام و نام خانوادگی :** دبستان شاهد دانش **تاریخ :**

اهداف این آزمون	خیلی خوب	خوب	قابل قبول	نیاز به تلاش بیشتر
جمع و تفریق اعداد دو رقمی را به صورت فرایندی انجام می دهد .				
تقریب زدن را فرا گرفته است .				
با استفاده از جدول پاسخ عبارت ها را پیدا می کند .				
مسئله ها را درک کرده و پاسخ می دهد .				
با توجه به عبارت مسئله می سازد .				
ساعت را با توجه به دقیقه می خواند .				
جمع بندی نهایی				

