

۱- برای شکل های زیر جمع یا تفریق بنویس

۲- مانند نمونه جاهای خالی را کامل کن

۶۰ یعنی ده تایی

۷۰ یعنی ده تایی

۴۰ یعنی

۸ دسته ده تایی

۲ دسته ده تایی به اضافه ۴ دسته ده تایی می شود یعنی

۳ دسته ده تایی به اضافه ۳ دسته ده تایی می شود یعنی

۳- جمع و تفریق کن.

$2 + 5 = \dots\dots\dots$

$6 + 2 = \dots\dots\dots$

$7 - 4 = \dots\dots\dots$

$20 + 50 = \dots\dots\dots$

$60 + 20 = \dots\dots\dots$

$70 - 40 = \dots\dots\dots$

۴- در جای خالی یکی از علامت های + یا - قرار بده

$10 \bigcirc 20 = 30$

$30 \bigcirc 30 = 60$

$5 \bigcirc 10 \bigcirc 10 = 25$

$9 \bigcirc 9 = 18$

۵- حاصل جمع و تفریق هارا ذهنی حساب کن

$40 + 20 = \dots\dots\dots$

$90 - 50 = \dots\dots\dots$

$60 + 30 = \dots\dots\dots$

$70 + 10 = \dots\dots\dots$

$80 - 40 = \dots\dots\dots$

$40 - 10 = \dots\dots\dots$

$60 + 40 = \dots\dots\dots$


$20 + 50 = \dots\dots\dots$

$30 + 50 = \dots\dots\dots$

$20 + 20 = \dots\dots\dots$




۶- با رنگ کردن هر ۱۰ خانه از شکل زیر، دسته‌های ده‌تایی درست کن. هر بار از یک مداد رنگی استفاده کن.



۷- با کمک محور، حاصل جمع و تفریق‌های زیر را پیدا کن و بنویس.

$$\begin{array}{r} 40 \\ + 50 \\ \hline \end{array}$$



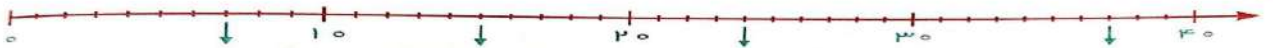
$$\begin{array}{r} 60 \\ - 50 \\ \hline \end{array}$$



$$\begin{array}{r} 80 \\ - 20 \\ \hline \end{array}$$



۸- عدد مربوط به جاهای مشخص شده روی محور را بنویس و جاهای خالی را پر کن.



عدد ۳۲ به ۳۰ نزدیکتر است یا به ۴۰؟

عدد ۲۹ به ۲۰ نزدیکتر است یا به ۳۰؟

عدد ۵۶ به ۵۰ نزدیکتر است یا به ۶۰؟

عدد ۸۲ به ۹۰ نزدیکتر است یا به ۸۰؟

۹- جواب هارا با رسم چوب خط پیدا کن

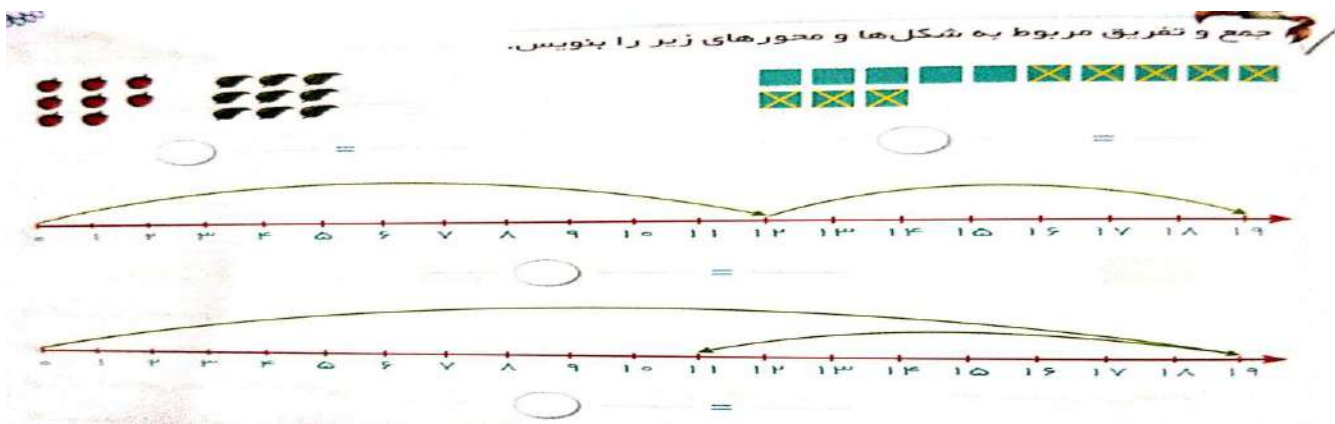
$7+7=$

$6+6=$

$5+5=$

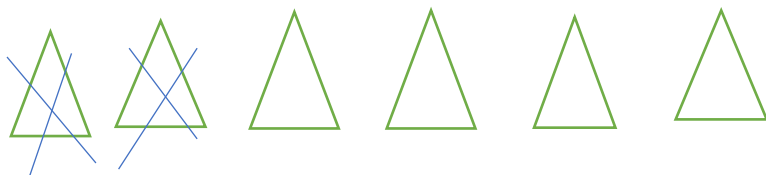
$9+9=$



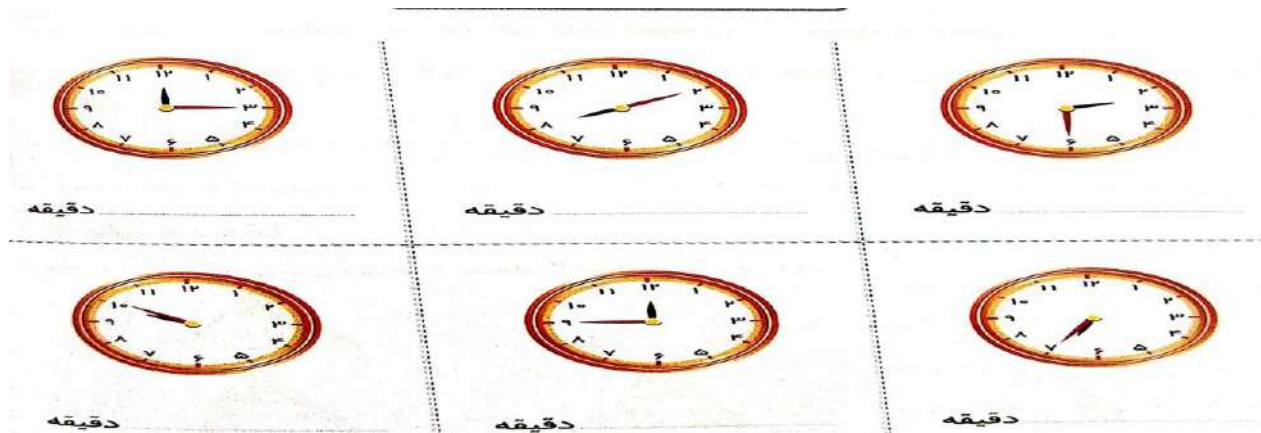


۱۱- مسئله های زیر را حل کن

- ۱- حامد در هر دست خود ۷ گل دارد او چند گل دارد؟
- ۲- در یک باغچه ۱۷ گل قرمز و زرد داریم ۶۰ تا از آن ها زرد است چند تا قرمز هست؟
- ۳- با توجه به شکل زیر یک مسئله بنویس و جواب را آن را به دست آورید



۱۲- ساعت چند است؟



۵

جمع را پیدا کن.

	+		=	
۲۲		۳۲		

	+		=	

	+		=	





	+		=	

دهتایی	یکی
۲	۲
۳	۲

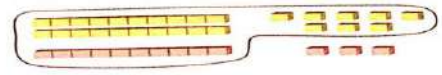
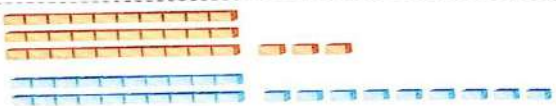



۱۳- مانند نمونه عدد مربوط به هر شکل را بنویس و حاصل را پیدا کن



۱۴- مانند نمونه حاصل تفریق هارا به دست آورید

 $48 - 26 =$	 $39 - 17 =$
 $29 - 19 =$	 $34 - 12 =$

۱۵- مانند حاصل جمع های زیر را به دست بیاور

$\begin{array}{r} 28 \\ + 13 \\ \hline 38 \\ + 3 \\ \hline 41 \end{array}$	
$\begin{array}{r} 33 \\ + 29 \\ \hline \end{array}$	
$\begin{array}{r} 52 \\ + 28 \\ \hline \end{array}$	
$\begin{array}{r} 36 \\ + 17 \\ \hline \end{array}$	
$\begin{array}{r} 26 \\ + 26 \\ \hline \end{array}$	

۱۶- جمع های زیر را انجام بده

38	43	29	78
$+27$	$+33$	$+32$	$+28$

۱۷- مسئله های زیر را حل کن

۱- فاطمه امروز صبح ۴۰ دقیقه و بعد از ظهر ۴۰ دقیقه دیگر مطالعه کرد. او امروز چند دقیقه مطالعه کرده است؟

۲- محمد و پدرش برای ورزش به پارک رفتند. محمد ۲۵ دقیقه و پدرش ۴۰ دقیقه دوید. پدر محمد چند دقیقه بیشتر دویده است؟

۳- زهرا برای شنا به استخر رفت بار اول ۴۲ دقیقه و بار دوم ۳۸ دقیقه شنا کرد. زهرا چند دقیقه شنا کرد؟

۱۰- حاصل تفریق های زیر را با کمک شکل به دست آورید.

$\begin{array}{r} 36 \\ -18 \\ \hline \\ \hline \end{array}$	
$\begin{array}{r} 26 \\ -19 \\ \hline \\ \hline \end{array}$	
$\begin{array}{r} 32 \\ -24 \\ \hline \\ \hline \end{array}$	
$\begin{array}{r} 45 \\ -27 \\ \hline \\ \hline \end{array}$	
$\begin{array}{r} 62 \\ -39 \\ \hline \\ \hline \end{array}$	

۱۱- حاصل جمع و تفریق های زیر را به صورت تقریبی به دست بیاور

$\begin{array}{r} 47 \rightarrow \\ + 22 \rightarrow + \end{array}$	$\begin{array}{r} 62 \rightarrow \\ + 36 \rightarrow + \end{array}$	$\begin{array}{r} 49 \rightarrow \\ + 33 \rightarrow + \end{array}$
$\begin{array}{r} 73 \rightarrow \\ - 28 \rightarrow - \end{array}$	$\begin{array}{r} 86 \rightarrow \\ - 54 \rightarrow - \end{array}$	$\begin{array}{r} 93 \rightarrow \\ - 68 \rightarrow - \end{array}$