

به نام خدا

کاربرگ ۱۳

۱- تقسیم های زیر را انجام دهید و رابطه های تقسیم را بنویسید.

$$\begin{array}{r} 1145 \quad | \quad 3 \\ \hline \end{array}$$




$$\begin{array}{r} 617 \quad | \quad 3 \\ \hline \end{array}$$



$$\begin{array}{r} 209 \quad | \quad 2 \\ \hline \end{array}$$

۲- یک مینی بوس در مدت ۹ ساعت ۵۸۵ کیلومتر راه طی کرده است. این مینی بوس به طور متوسط در هر ساعت چند کیلومتر راه طی کرده است؟



۳- آقای کشاورز دور زمین خود را درخت کاری کرده است. دور زمین او ۴۶۸ متر است و در هر ۴ متر یک درخت کاشته است. آقای کشاورز چند درخت کاشته است؟



۴- گسری هستیم که حاصل ضرب صورت و مخرج من ۳۰ و اختلاف صورت و مخرج من ۱ است



۵- مساحت یک باغچه به شکل مستطیل ۱۴۴ متر مربع است. اگر عرض آن ۹ متر باشد، طول آن چقدر است؟ محیط این باغچه چند متر است؟






نام :

نام خانوادگی :

۶- جرم هر متر سیم برق، ۵۰ کیلوگرم است. یک حلقه از این سیم ۵۲۵۰ گرم جرم دارد. طول این حلقه سیم چند متر است؟



۷- یک دبستان دارای ۱۲ کلاس ۲۵ نفره است. اگر در یک روز نلت دانش آموزان را به اردوی علمی برده باشند و از هر دانش آموز بابت کرایه و بلیط ۷۵۰ تومان دریافت کرده باشند، جمعا از دانش آموزان چند تومان دریافت شده است؟




۸- نصف قیمت یک کتاب ۱۴۶۰ تومان است. خمس قیمت آن چند تومان است؟



۹- یک شیرینی پز در کرمانشاه در ۶ روز ۱۴۲ جعبه نان برنجی تهیه کرده است.

در هر روز چند جعبه تهیه کرده است.



۱۰- حسین ۳۰۰ تومان پول داشت، نصف آن را خرج کرد و خمس باقی مانده پولش را به برادر کوچکش داد. چند تومان

برایش باقی مانده است؟

