

نام و نام خانوادگی :

به نام خدا

تاریخ :

ارزشیابی فصل چهارم ریاضی دوم ابتدایی

۱\_ پسرم جدول اعداد زیر را تکمیل کن .

۱۱۰	۱۲۰								۲۰۰
۲۱۰	۲۲۰								۳۰۰
۳۱۰								۳۹۰	



۲\_ نازنینم جمع و تفریق های زیر را انجام بده .

$$\begin{array}{r} + 98 \\ 3 \\ \hline \end{array}$$

$$\begin{array}{r} - 103 \\ 9 \\ \hline \end{array}$$

$$\begin{array}{r} - 107 \\ 9 \\ \hline \end{array}$$



۳\_ عزیزم محور زیر را کامل کن .


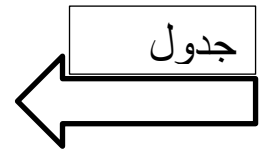




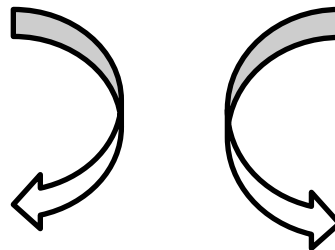

۴\_ پسرم اعداد را در جدول ارزش مکانی قرار بده .

صدگان	دهگان	یکان

صدگان	دهگان	یکان



۵- گلم ساعت های زیر را بنویس .



\_\_\_\_\_

\_\_\_\_\_

اهداف آزمون ↓

بدون تسلط	نسبی	کامل	میزان تسلط
			شمارش اعداد سه رقمی را می داند.
			جمع و تفریق اعداد سه رقمی را یاد گرفته است.
			خواندن ساعت را آموخته است.

بازخورد معلم :



موفق باشی

