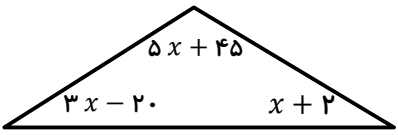
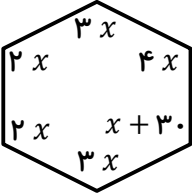
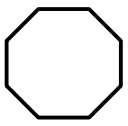

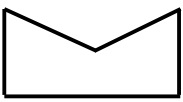




ردیف	سوالات	ردیف	سوالات
۱	<p>کدام جمله درست نیست.</p> <p>الف) مربع نوعی لوزی است</p> <p>ب) لوزی نوعی متوازی الاضلاع است</p> <p>ج) مستطیل نوعی مربع است</p> <p>د) دوزنقه نوعی متوازی الاضلاع نیست</p>	۶	<p>در شکل زیر مقدار x چند درجه است.</p>  <p>الف) ۱۵ درجه</p> <p>ب) ۱۷ درجه</p> <p>ج) ۲۱ درجه</p> <p>د) ۲۴ درجه</p>
۲	<p>با کدام یک از شکل های زیر نمی توان کاشی کاری کرد.</p> <p>الف) مربع</p> <p>ب) ۹ ضلعی منتظم</p> <p>ج) مثلث متساوی الاضلاع</p> <p>د) ۶ ضلعی منتظم</p>	۷	<p>اندازه ی زاویه ی خارجی کدام چند ضلعی منتظم بزرگ تر است.</p> <p>الف) ۵ ضلعی</p> <p>ب) ۶ ضلعی</p> <p>ج) ۹ ضلعی</p> <p>د) ۱۰ ضلعی</p>
۳	<p>در کدام شکل منتظم زاویه خارجی ثلث زاویه ی داخلی است.</p> <p>الف) ۵ ضلعی</p> <p>ب) ۶ ضلعی</p> <p>ج) ۷ ضلعی</p> <p>د) ۸ ضلعی</p>	۸	<p>زاویه ای که از برخورد نیم سازه های دو زاویه داخلی مجاور ۵ ضلعی منتظم تشکیل می شود چند درجه است</p> <p>الف) ۵۴ درجه</p> <p>ب) ۷۲ درجه</p> <p>ج) ۸۶ درجه</p> <p>د) ۱۰۸ درجه</p>
۴	<p>اختلاف اندازه ی یک زاویه داخلی ۶ ضلعی و ۸ ضلعی منتظم چند درجه است.</p> <p>الف) ۱۵ درجه</p> <p>ب) ۲۲/۵ درجه</p> <p>ج) ۳۰ درجه</p> <p>د) ۲۵ درجه</p>	۹	<p>در شکل زیر مقدار x چند درجه است.</p>  <p>الف) ۴۶ درجه</p> <p>ب) ۴۵ درجه</p> <p>ج) ۴۲ درجه</p> <p>د) ۴۰ درجه</p>
۵	<p>کدام شکل چند ضلعی محدب است؟</p> <p>الف) </p> <p>ب) </p> <p>ج) </p> <p>د) </p>	۱۰	<p>شکل زیر چند محور تقارن دارد.</p>  <p>الف) ۱</p> <p>ب) ۲</p> <p>ج) صفر</p> <p>د) ۴</p>