

« یا هو »

### تکلیف مرور فصل ۴ ریاضی پایه دوم ابتدایی

فرزندم ؛ سوالات زیر را به دقت بخوان و به آن ها پاسخ بده.

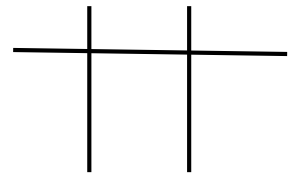
۱۰ سکه ی ۱ ریالی یعنی ..... سکه ی ۱۰ ریالی .

۵۰ سکه ی ۱ ریالی یعنی ..... سکه ی ۱۰ ریالی .

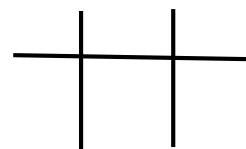
۱۰ سکه ی ۱۰ ریالی یعنی ..... سکه ی ۱۰۰ ریالی .

۱ سکه ی ۱۰۰ ریالی یعنی ..... سکه ی ۵۰ ریالی .

\* با توجه به شکل و سکه ها عدد مورد نظر را بر روی جدول ارزش مکانی نشان بده و سپس جاهای خالی را کامل کن.

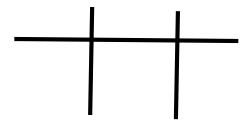
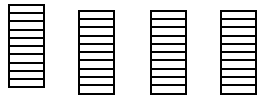


به رقم : ..... به حروف : .....



به رقم : .....

به حروف : .....



به رقم : .....

به حروف : .....

\* جمله های زیر را به عدد تبدیل کن .

۵ دسته ی صد تایی ، ۴ دسته ی ده تایی و ۶ تا یکی می شود .....

۴ دسته ی صد تایی و ۸ تا یکی می شود .....

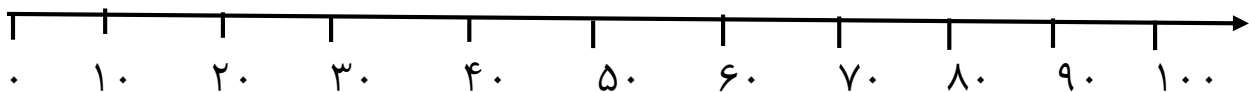
۳ دسته ی صد تایی ، ۲ تا یکی ، ۵ دسته ی ده تایی ، ۲ دسته ی صد تایی می شود .....

۳ سکه ی ۱۰۰ ریالی و ۵ سکه ی ۱ ریالی می شود .....

۱ سکه ی ۲۵۰ ریالی و ۲ سکه ی ۱۰ ریالی می شود .....

۴ سکه ی ۵۰ ریالی و ۴ سکه ی ۱۰ ریالی و ۷ سکه ی ۱ ریالی می شود .....

\* عدد های ۸۲ ، ۲۵ و ۱۲ به طور تقریبی روی محور زیر قرار دهید.



\* ابتدا هر عدد را تقریب بزن، سپس جواب آن را بنویس .

$$\begin{array}{r} +56 \\ \Rightarrow \\ \hline 24 \end{array}$$

$$\begin{array}{r} +43 \\ \Rightarrow \\ \hline 18 \end{array}$$

$$\begin{array}{r} -61 \\ \Rightarrow \\ \hline 28 \end{array}$$

$$\begin{array}{r} -78 \\ \Rightarrow \\ \hline 42 \end{array}$$

\* با حذف رقم یکان و دهگان و قرار دادن صفر عددهای زیر را به صورت تقریبی بنویس .

۶۴۸ .....

۹۸۵ .....

۲۳۳ .....

حالا ببین این اعداد به کدام عدد نزدیک تر هستند؟

۶۴۸

۹۸۵

۲۳۳

\* حاصل جمع و تفریق های زیر را بنویس ( به صورت ذهنی ) .

$$\begin{array}{r} + 95 \\ \hline 8 \end{array}$$

$$\begin{array}{r} + 65 \\ \hline 9 \end{array}$$

$$\begin{array}{r} - 205 \\ \hline 6 \end{array}$$

$$\begin{array}{r} + 312 \\ \hline 9 \end{array}$$

$$200 + 600 - 300 =$$

$$700 - 500 + 100 =$$

\* با کارت ۲ ، ۰ ، ۷ تمام عددهای سه رقمی را که می توان ساخت بنویس و به سوالات زیر پاسخ بده .

الف) کوچک ترین عدد ؟ .....

ب) بزرگ ترین عدد ؟ .....

کدام عدد رقم صدگانش از یکان آن کم تر است ؟ .....

\* با رقم های ۸ ، ۲ ، ۶ شش عدد سه رقمی بنویس و به سوالات پاسخ بده .

الف) بزرگ ترین عددی که ساختی؟

ب) کوچک ترین عددی که ساختی؟

ج) کدام عدد یکانش از صدگانیش بیشتر است؟

\* با سکه های ۲۰۰ ریالی و ۵۰ ریالی به چند روش می توانی ۴۰۰ ریال بسازی؟ (با رسم شکل).

\* در جای خالی علامت مناسب بگذار .

$$۴۰۲ \square ۴۰۴ \quad ۳۱۳ \square ۳۳۱ \quad ۱۰۰+۳۰+۶ \square ۱۳۶$$

$$۵۰+۵۰+۱۰۰+۳ \square ۲۰+۲۰+۵$$

$$۴۰۰ \text{ ریال} + ۵۰ \text{ ریال} + ۱ \text{ ریال} \square ۲۵۰ \text{ ریال} + ۲۰۰ \text{ ریال} + ۱ \text{ ریال}$$

\* چند عدد دو رقمی می توان نوشت که رقم دهگانیش ۲ ، ۴ و ۶ و رقم یکانش ۲ و ۳ باشد.

\* عدد ها را به صورت باز شده بنویس .

$$۲۱۰ =$$

$$۶۰۵ =$$

$$۳۷۵ =$$

\* دیروز علی ۸۵ ریال پول داشت. او امروز ۵ ریال دیگر از مادرش گرفت. ۹ ریال به آقای فروشنده بابت خرید یک مداد داد. علی حالا چند ریال پول دارد؟

\* رضا ۱۰۷ کارت بازی دارد. او ۹ کارت بازی خود را به دوستش داد. او حالا چند کارت بازی دارد؟

موفق و سربلند باشید.