

سری (الف) سوالات استانهای مختلف کشور

۱) درستی یا نادرستی عبارتهای زیر را مشخص کنید .

الف- شیب خطی که از مبدأ و نقطه $A = \begin{bmatrix} 4 \\ 2 \end{bmatrix}$ بگذرد برابر ۲ است. (خ ۹۵ مرکزی صبح)

ب- دو خط $5 = 2x - y$ و $y = 2x + 1$ موازی اند. (خ ۹۵ مرکزی صبح)

پ- نقطه $A = \begin{bmatrix} -1 \\ 2 \end{bmatrix}$ روی خط $y = 3x + 1$ قرار دارد. (خ ۹۵ مرکزی صبح)

ت- برای خط $x = 2$ شیب تعریف نمی شود. (خ ۹۵ مرکزی صبح)

ث- دو خط $y = -2x + 1$ و $y = 2x$ با یکدیگر موازی اند (خ ۹۵ هرمزگان)

ج- خط $y = 5$ موازی محور عرض ها است. (خ ۹۵ البرز)

د- خط $y = 3x - 4$ محور عرض ها را در ۳ قطع می کند. (خ ۹۵ سیستان و بلوچستان)

ه- نقطه $\begin{bmatrix} 4 \\ 2 \end{bmatrix}$ روی خط $y = \frac{1}{4}x + 2$ قرار دارد. (خ ۹۵ شهرستان های تهران)

و- رابطه بین طول ضلع مربع و محیط آن یک رابطه خطی است (خ ۹۵ گلستان)

ز- عرض از مبدأ خط $y = 2x + 3$ برابر با ۳ است. (خ ۹۵ مازندران)

۲) در جای خالی عدد یا کلمه مناسب بنویسید.

الف) معادله خطی که موازی محور x ها باشد و از نقطه $\begin{bmatrix} 3 \\ 2 \end{bmatrix}$ بگذرد برابر با است. (خ ۹۵ بوشهر)

ب) شیب خط $3 = 8x - 2y$ ، عدد می باشد. (خ ۹۵ خوزستان)

پ) عرض از مبدأ خط $6 = y + 3x$ برابر با است. (خ ۹۵ شهرستانهای تهران)

ت) دو خط هنگامی با هم موازی هستند که یکسان داشته باشند. (خ ۹۵ گیلان عصر)

ث) معادله خطی که از نقاط $\begin{bmatrix} 8 \\ 5 \end{bmatrix}$ و $\begin{bmatrix} 1 \\ 5 \end{bmatrix}$ می گذرد، می باشد. (خ ۹۵ گیلان عصر)

ج) در معادله خط $y = ax + b$ عدد b را خط می گوئیم. (خ ۹۵ گیلان صبح)

د) اگر خط $2 = x + 3y$ را رسم کنیم، از مبدأ مختصات عبور (خ ۹۵ هرمزگان)

ه) معادله خطی که از دو نقطه $\begin{bmatrix} -2 \\ 1 \end{bmatrix}$ و $\begin{bmatrix} -2 \\ 3 \end{bmatrix}$ می گذرد برابر با است. (خ ۹۵ البرز)

و) نقطه $\begin{bmatrix} 1 \\ -2 \end{bmatrix}$ روی خط $-3 = x - 2y$ قرار (دارد - ندارد). (خ ۹۵ قم)

ز) خطی که از مبدأ مختصات می گذرد، آن صفر است. (خ ۹۵ لرستان)

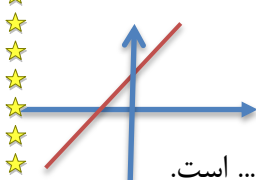
ح) هرگاه نمودار معادله خط $y = ax + b$ به صورت مقابل باشد. (خ ۹۵ آذربایجان غربی)

با توجه به نمودار می توان گفت ($ab > 0$ یا $ab < 0$)

ط) معادله خطی که شیب آن $\frac{1}{2}$ باشد و محور عرض ها را در نقطه ای به عرض ۲ قطع کند. است.

ث) معادله خطی که با خط $y = 2x + 3$ موازی بوده و از نقطه $\begin{bmatrix} 0 \\ -3 \end{bmatrix}$ بگذرد برابر است.

ج) اگر $A = \begin{bmatrix} 3 \\ 2 \end{bmatrix}$ و $B = \begin{bmatrix} 4 \\ -1 \end{bmatrix}$ دو نقطه از یک خط باشند شیب خط برابر با است.



(س) عرض از مبدأ خط $y = \frac{3}{4}x + 4$ برابر با است. (خ ۹۵ کرمان)

(ش) معادله خطی که از نقاط $\begin{bmatrix} -5 \\ 2 \end{bmatrix}$ و $\begin{bmatrix} -5 \\ 2 \end{bmatrix}$ می گذرد برابر است. (خ ۹۵ کرمان)

(ص) شیب خط در معادله $2x - 3 = 3y$ برابر است. (خ ۹۵ کرمان)

(ض) شیب خط $y = -4x + 3$ برابر با می باشد. (خ ۹۵ یزد)

۳) گزینه صحیح را انتخاب کنید.

(الف) معادله خطی را بنویسید که شیب آن ۲ باشد و از نقطه $\begin{bmatrix} -5 \\ 2 \end{bmatrix}$ بگذرد، کدام است؟ (خ ۹۵ شهرستان های تهران)

(۱) $y = 2x - 5$ (۲) $2x - 5y = 0$ (۳) $y = -5x + 2$ (۴) $2y = 5x$

(ب) شیب خطی که از دو نقطه $\begin{bmatrix} 3 \\ -2 \end{bmatrix}$ و $\begin{bmatrix} 2 \\ 1 \end{bmatrix}$ می گذرد برابر است با: (خ ۹۵ البرز عصر)

(۱) ۳ (۲) -۳ (۳) ۱ (۴) $-\frac{1}{3}$

(پ) کدام گزینه شیب خط $y = x + \frac{1}{2}$ را نشان می دهد؟ (خ ۹۵ بوشهر)

(۱) صفر (۲) ۱ (۳) $\frac{1}{2}$ (۴) ۲

(ت) $\begin{bmatrix} 4 \\ 6 \end{bmatrix}$ و $\begin{bmatrix} 2 \\ 2 \end{bmatrix}$ مختصات دو نقطه از یک خط هستند. معادله این خط کدام است؟ (خ ۹۵ سمنان)

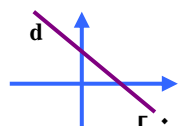
(۱) $y = 2x - 2$ (۲) $y = -2x + 2$ (۳) $y = -2x - 2$ (۴) $y = 2x + 2$

(ث) کدام یک از خط های زیر موازی محور طول ها می باشد؟ (خ کرمان)

(۱) $3y - 2 = 7$ (۲) $y = 3x + 5$ (۳) $4x - 3y = 12$ (۴) $5x - 2 = 8$

(ج) کدام گزینه در مورد شیب (a) و عرض از مبدأ (b) خطی که در شکل مقابل رسم شده درست است؟

(۱) $a > 0$ و $b < 0$ (۲) $a < 0$ و $b > 0$ (خ ۹۵ گیلان عصر)

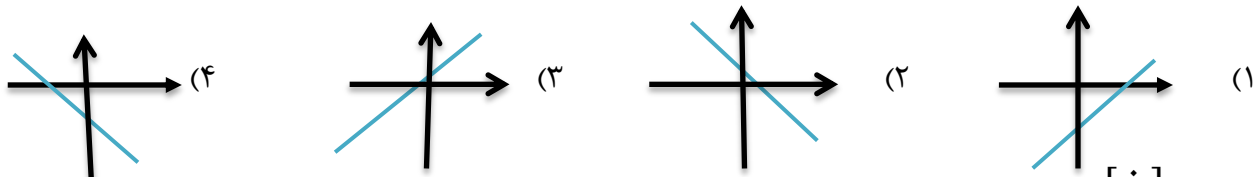


(۳) $a < 0$ و $b < 0$ (۴) $a > 0$ و $b > 0$

(ج) معادله خطی که با خط $y = -7x + \frac{1}{2}$ موازی باشد و از نقطه $\begin{bmatrix} 0 \\ 4 \end{bmatrix}$ بگذرد، کدام است؟ (خ ۹۵ گیلان صبح)

(۱) $y = -7x + 4$ (۲) $y = -7x$ (۳) $y = 4x + \frac{1}{2}$ (۴) $y = \frac{1}{2}x + 4$

(ح) کدام یک از خط های زیر شیب و عرض از مبدأ منفی دارد؟ (خ ۹۵ البرز)



(خ) نقطه $\begin{bmatrix} 0 \\ 1 \end{bmatrix}$ روی کدام خط قرار دارد؟ (خ ۹۵ زنجان)

(۱) $y = -3x$ (۲) $y = x - 2$ (۳) $y = 2x - 1$ (۴) $y = x + 4$

(د) کدام نقطه از خط $y = -2x + 1$ می گذرد؟ (خ ۹۵ لرستان عصر)

(۱) $\begin{bmatrix} -2 \\ 1 \end{bmatrix}$ (۲) $\begin{bmatrix} 1 \\ -2 \end{bmatrix}$ (۳) $\begin{bmatrix} -3 \\ 7 \end{bmatrix}$ (۴) $\begin{bmatrix} 7 \\ -3 \end{bmatrix}$

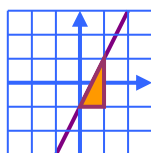
ذ) عرض از مبدأ خط $3y = 12x + 9$ کدام یک از اعداد زیر است؟ (خ ۹۵ شهرتپهران)

- ۹ (۱) ۴ (۲) ۳ (۳) ۱۲ (۴)

ر) کدام نقطه روی خط به معادله $2y + x = 3$ قرار دارد؟

- (۱) $\begin{bmatrix} -2 \\ 2 \end{bmatrix}$ (۲) $\begin{bmatrix} 2 \\ 1 \end{bmatrix}$ (۳) $\begin{bmatrix} -1 \\ 1 \end{bmatrix}$ (۴) $\begin{bmatrix} -1 \\ 2 \end{bmatrix}$

ز) با توجه به شکل مقابل معادله خط کدام گزینه است؟ (خ ۹۵ کرمانشاه)



(۱) $y = 2x - 1$ (۲) $y = -2x - 1$

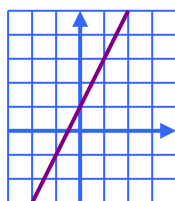
(۳) $y = -\frac{1}{2}x + 1$ (۴) $y = \frac{1}{2}x - 1$

ژ) خط $y = 3x - 2$ با کدام یک از خط های زیر موازی است؟ (خ ۹۵ مازندران)

- (۱) $y = -2x + 3$ (۲) $y - 3x = 5$ (۳) $y + 3x = 4$ (۴) $y = -3x - 5$

سوالات تشریحی

۱- الف) خط d به معادله $y = 2x + 3$ را رسم کنید. (خ ۹۵ بوشهر)



ب) نقطه ای به طول ۲ از خط d را پیدا کنید.

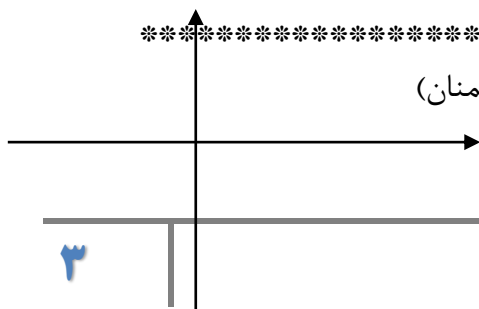
ج) معادله خط روبرو را بنویسید.

۲- الف- نمودار خط $y = \frac{1}{3}x - 2$ را رسم کنید. (خ ۹۵ خوزستان)

ب) معادله خطی را بنویسید که از دو نقطه $\begin{bmatrix} 4 \\ 1 \end{bmatrix}$ و $\begin{bmatrix} 5 \\ -2 \end{bmatrix}$ بگذرد.

پ) معادله خطی را بنویسید که با محور طولها موازی باشد و از نقطه $\begin{bmatrix} 3 \\ 4 \end{bmatrix}$ بگذرد.

۳- الف) شیب و عرض از مبدأ خط $2y - 4x = 8$ را بیابید. (خ ۹۵ سمنان)



نمونه سوالات فصل ششم گرد آورنده: زهرا شمسی سرگروه ریاضی لنگرود

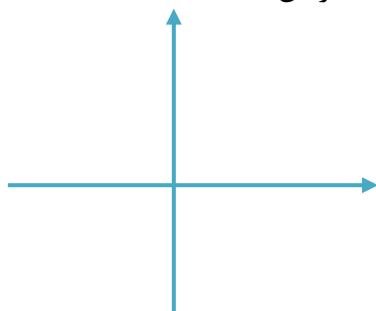
ب) خط را در دستگاه مختصات رسم کنید.

۴- خط به معادله $y = 4x - 2$ را رسم کنید. (ابتدا جدول را کامل کنید). (خ ۹۵ شهرستانهای تهران)

x	۰	۱
y		
$\begin{bmatrix} x \\ y \end{bmatrix}$		

۵- الف) شیب خطی که از دو نقطه $\begin{bmatrix} ۳ \\ ۲ \end{bmatrix}$ و $\begin{bmatrix} ۴ \\ -۵ \end{bmatrix}$ می گذرد را تعیین کنید. (خ ۹۵ کرمان)

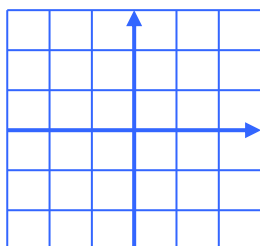
ب) خط $y = -\frac{2}{3}x$ را روی دستگاه مختصات زیر رسم کنید.



۶- الف) خط به معادله $2y = 4x - 6$ را در دستگاه مختصات رسم کنید. (خ ۹۵ گلستان)

ب) شیب خطی که از دو نقطه $\begin{bmatrix} -۲ \\ ۵ \end{bmatrix}$ و $\begin{bmatrix} ۴ \\ ۳ \end{bmatrix}$ می گذرد را به دست آورید.

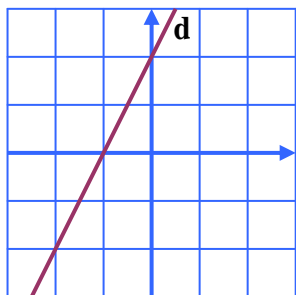
۷- الف) خط $2x - 3y = 6$ را روی دستگاه مختصات مقابل رسم کنید. (خ ۹۵ گیلان عصر)



ب) این خط محور طول را در چه نقطه ای قطع می کند؟

۸- الف) خط $x = -2$ را روی دستگاه مختصات مقابل رسم کنید. (خ ۹۵ گیلان صبح)

ب) معادله خط d که در دستگاه مقابل رسم شده است را بنویسید.



ج) شیب خطی که از دو نقطه $\begin{bmatrix} ۱ \\ ۴ \end{bmatrix}$ و $\begin{bmatrix} -۳ \\ ۵ \end{bmatrix}$ می گذرد را

بنویسید.

۹- خط $y = -\frac{1}{4}x + 2$ را در دستگاه مختصات رسم کنید. (خ ۹۵ مرکزی صبح)

۱۰- نقاط $A = \begin{bmatrix} 0 \\ 3 \end{bmatrix}$ و $B = \begin{bmatrix} 2 \\ 1 \end{bmatrix}$ مفروض اند. (خ ۹۵ مرکزی عصر)

(الف) شیب خطی که از این دو نقطه می گذرد را بیابید.

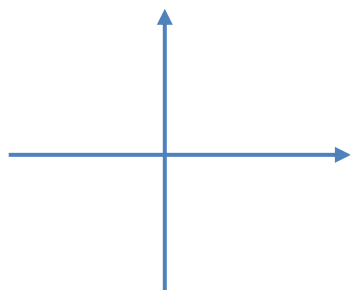
(ب) معادله خطی را بنویسید که از نقطه $C = \begin{bmatrix} 5 \\ 7 \end{bmatrix}$ می گذرد و با خط AB موازی است.

(ج) مقدار a را طوری تعیین کنید که از نقطه $D = \begin{bmatrix} a-1 \\ 2 \end{bmatrix}$ روی خط AB باشد.

(د) خط $y = 3x - 2$ را در دستگاه مختصات رسم کنید.

۱۱-الف) $\begin{bmatrix} 3 \\ 2 \end{bmatrix}$ و $\begin{bmatrix} 4 \\ -1 \end{bmatrix}$ دو نقطه از یک خط هستند، شیب خط را پیدا کنید. (خ ۹۵ هرمزگان)

(ب) خط به معادله $y = 4x - 3$ را در دستگاه مختصات رسم کنید.



x	
y	
$\begin{bmatrix} x \\ y \end{bmatrix}$	

۱۲-الف) مختصات نقطه M از خط $y = 2x - 3$ را پیدا کنید که طول آن ۴ باشد. $M = \begin{bmatrix} 4 \\ \dots \end{bmatrix}$

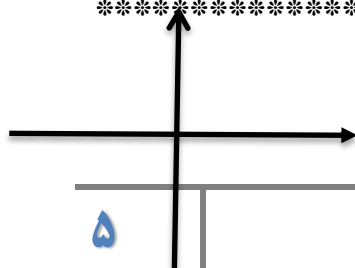
(خ ۹۵ یزد)

(ب) آیا نقطه $E = \begin{bmatrix} -2 \\ 7 \end{bmatrix}$ روی خط $y = 2x - 3$ قرار دارد؟ بله خیر

(پ) معادله خطی را بنویسید که از دو نقطه $\begin{bmatrix} +2 \\ +3 \end{bmatrix}$ و $\begin{bmatrix} +2 \\ -7 \end{bmatrix}$ بگذرد.

(ت) معادله خطی را بنویسید که با خط $y = -4x + 3$ موازی باشد و از نقطه $\begin{bmatrix} -1 \\ 5 \end{bmatrix}$ بگذرد.

۱۳-الف) خط $y = 3x - 1$ را در دستگاه مختصات رسم کنید. (خ ۹۵ البرز)

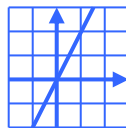


نمونه سوالات فصل ششم گرد آورنده: زهرا شمسی سرگروه ریاضی لنگرود

ب) معادله خطی را بنویسید که با خط $y = \frac{1}{3}x + 5$ موازی باشد و از نقطه $\left[\begin{smallmatrix} 3 \\ -3 \end{smallmatrix} \right]$ بگذرد.

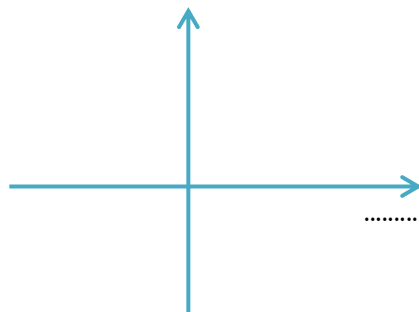
الف) آیا نقطه $\left[\begin{smallmatrix} 1 \\ -1 \end{smallmatrix} \right]$ روی خط $y = 3x - 4$ قرار دارد؟ چرا؟

۱۴- الف) خط $y = \frac{1}{3}x - 2$ را در دستگاه رسم کنید. (خ ۹۵ البرز عصر)



ب) معادله خط مقابل را بنویسید.

۱۵- الف) خط d به معادله $2y - 4x = 8$ را رسم کنید. (خ ۹۵ زنجان)

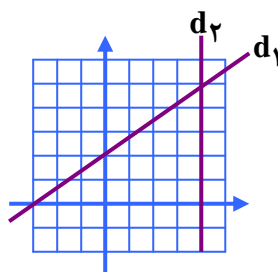


ب) شیب و عرض از مبدأ خط d را تعیین کنید.

شیب = ، عرض از مبدأ =

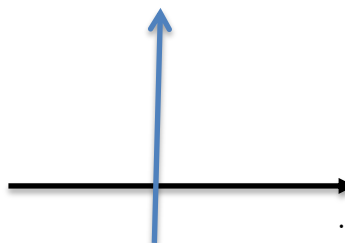
ج) معادله خطی را بنویسید که شیب آن $-\frac{1}{3}$ و از نقطه $\left[\begin{smallmatrix} 4 \\ -4 \end{smallmatrix} \right]$ بگذرد.

۱۶- الف) معادله خط های رسم شده را بنویسید. (خ ۹۵ قم)



ب) معادله خطی را بنویسید که با خط $5x - 4y = 8$ موازی باشد و از نقطه $A = \left[\begin{smallmatrix} 8 \\ 2 \end{smallmatrix} \right]$ بگذرد.

۱۷- الف) معادله خط $y = \frac{4}{3}x - 2$ را رسم کنید. (خ ۹۵ لرستان عصر)



ب) عدد a را طوری تعیین کنید که خط $y = ax + 2$ از نقطه $\left[\begin{smallmatrix} 2 \\ 3 \end{smallmatrix} \right]$ بگذرد.

۱۸- الف) خط $y = 3x - 1$ را روی محورهای مختصات مقابل رسم کنید. (خ ۹۵ شهر تهران)



نمونه سوالات فصل ششم گرد آورنده: زهرا شمسی سرگروه ریاضی لنگرود

ب) مختصات نقطه ای از خط $y = 2x - 5$ را به دست آورید که طول آن برابر ۳ باشد.

پ) معادله خطی را بنویسید که با خط $2y = 6x$ موازی باشد و از نقطه $\left[\begin{smallmatrix} 0 \\ 6 \end{smallmatrix} \right]$ بگذرد.

۱۹-الف) خط $2x - y = 3$ را رسم کنید. (خ ۹۵ آذربایجان شرقی)

ب) در صورتی که دو خط $y - 4x = 5$ و $y = (a + 1)x - 10$ موازی باشند. مقدار a را حساب کنید.

پ) شیب خطی را به دست آورید که از نقاط $\left[\begin{smallmatrix} 2 \\ -5 \end{smallmatrix} \right]$ و $\left[\begin{smallmatrix} -2 \\ 3 \end{smallmatrix} \right]$ می گذرد.

۲۰-الف) محل برخورد خط $2x - 5y = 10$ با محورهای مختصات را پیدا کنید. (خ ۹۵ چهارمحال بختیاری)

ب) معادله خطی را بنویسید که از نقطه $\left[\begin{smallmatrix} -4 \\ 3 \end{smallmatrix} \right]$ بگذرد و با خط $y = \frac{3}{4}x + \frac{5}{4}$ موازی باشد.

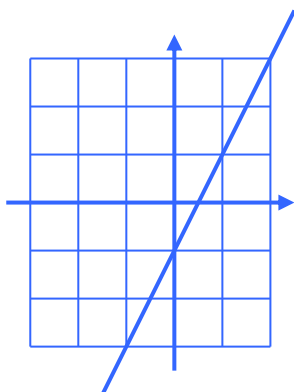
۲۱- با توجه به شکل مقابل: (خ ۹۵ خراسان رضوی)

الف) شیب خط d را بنویسید.

ب) عرض از مبدأ خط d را بنویسید.

ج) معادله خط d را بنویسید.

د) مختصات محل برخورد خط به معادله $2x + 3y = 6$ را با محور طول ها بیابید.

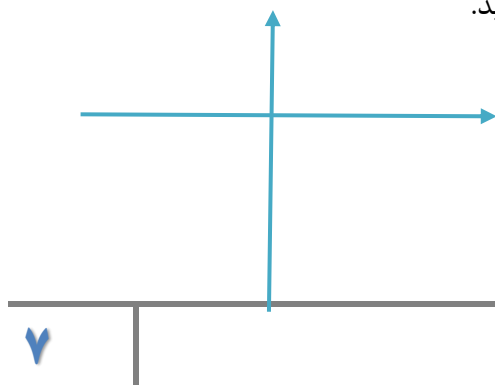


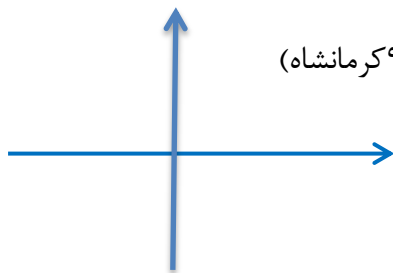
ه) معادله خطی را بنویسید که موازی محور y ها باشد و از نقطه $\left[\begin{smallmatrix} 1 \\ 2 \end{smallmatrix} \right]$ بگذرد.

۲۲-الف) معادله خطی که با خط $y = -2x + 4$ موازی بوده و از مبدأ مختصات بگذرد. (خ ۹۵ سیستان و بلوچستان)

ب) شیب خطی که دو نقطه $\left[\begin{smallmatrix} -2 \\ 4 \end{smallmatrix} \right]$ و $\left[\begin{smallmatrix} -1 \\ 2 \end{smallmatrix} \right]$ می گذرد را بنویسید.

ج) خط $3x - 2y = 6$ را در دستگاه مقابل رسم کنید.





۲۳- الف) خط $y = -2x + 3$ را در دستگاه مختصات زیر رسم کنید. (خ ۹۵ کرمانشاه)

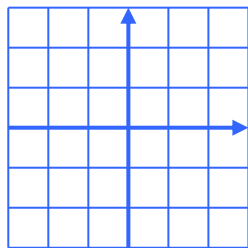
ب) معادله خطی را بنویسید که با خط $y = -3x + 6$ موازی باشد و محور عرض ها را در نقطه ۵- قطع کند.

۲۴- الف) خط d به معادله $y = 3x - 1$ را با استفاده از یک (خ ۹۵ کهگیلویه و بویر احمد) نقطه و شیب خط رسم کنید.

ج) شیب خطی که از دو نقطه $[-12, 6]$ و $[-4, 2]$ می گذرد را محاسبه کنید.
د) در معادله خط $y = ax + b$ اگر $b < 0$ و $a > 0$ باشد شکل تقریبی خط را رسم کنید.

۲۵- معادله خطی را بنویسید که با خط $\frac{2x+1}{3} - \frac{y-1}{2} = 1$ موازی باشد و از نقطه $[-3, -2]$ بگذرد. (خ ۹۵ لرستان سمپاد)

۲۶- الف) خط به معادله $y = 3x - 1$ را رسم کنید. (روش رسم دلخواه است.) (خ ۹۵ مازندران)



ب) مختصات نقطه ای از خط $y = 2x - 1$ را بنویسید که عرض آن ۷- باشد.

دستگاه معادلات خطی

دستگاه معادله خطی روبرو را به روش دلخواه حل نمایید. (خ ۹۵ بوشهر)

$$\begin{cases} 2x + y = 7 \\ x - 3y = -7 \end{cases}$$

دستگاه معادلات خطی زیر را به روش حذفی حل کنید. (خ ۹۵ خوزستان)

$$\begin{cases} 3x + 2y = 1 \\ 4x + y = 3 \end{cases}$$

در دستگاه زیر جواب مشترک دو معادله را بیابید. (به روش دلخواه) (خ ۹۵ سمنان)

$$\begin{cases} 2x + 2y = 4 \\ -x + 2y = 7 \end{cases}$$

دستگاه معادله های خطی زیر را حل کنید. (خ ۹۵ شهرستان های تهران)

$$\begin{cases} 2x + y = 5 \\ 3x - y = 10 \end{cases}$$

دستگاه معادلات خطی زیر را به روش دلخواه حل کنید. (خ ۹۵ کرمان)

$$\begin{cases} 2x - y = 3 \\ x + 2y = 4 \end{cases}$$

دستگاه زیر را حل کنید. (خ ۹۵ گلستان)

$$\begin{cases} x - 3y = 7 \\ 2x - 7y = 15 \end{cases}$$

الف) در جای خالی علامت $>$ $=$ $<$ بگذارید. (خ ۹۵ گیلان عصر)

۱- اگر $2a = 4b$ در این صورت : $a \dots b$

۲- اگر $b - a = 5$ در این صورت : $a \dots b$

ب) دستگاه معادله خطی مقابل را حل کنید. (انتخاب راهبرد آزاد است.)

$$\begin{cases} -4x + 3y = -13 \\ 4x + y = 1 \end{cases}$$

- دستگاه معادله خطی مقابل را حل کنید. (انتخاب راهبرد آزاد است.) (خ ۹۵ گیلان صبح)

$$\begin{cases} x + 2y = 6 \\ 2x - 2y = -12 \end{cases}$$

دستگاه مقابل را به روش دلخواه حل کنید. (خ ۹۵ مرکزی صبح)

$$\begin{cases} x - 3y = 7 \\ 2x - 7y = 15 \end{cases}$$

مجموع سن علی و پدرش ۷۰ سال و اختلاف سن آنها ۲۶ سال است. سن هر یک را با تشکیل دستگاه معادلات به دست آورید. (خ ۹۵ مرکزی عصر)

- دستگاه معادله خطی زیر را حل کنید. (خ ۹۵ هرمزگان)

$$\begin{cases} x - 3y = 7 \\ 2x - 7y = 15 \end{cases}$$

با توجه به دستگاه مقابل مقدار x و y را به دست آورید. (خ ۹۵ یزد)

$$\begin{cases} x - 3y = 7 \\ 2x - y = 4 \end{cases}$$

دستگاه مقابل را به روش جایگزینی حل کنید. (خ ۹۵ البرز)

$$\begin{cases} y = 3x + 1 \\ x + 2y = 9 \end{cases}$$

دستگاه مقابل را به روش حذفی حل کنید. (خ ۹۵ البرز عصر)

$$\begin{cases} 3x + y = -2 \\ -2x + 3y = 5 \end{cases}$$

دستگاه معادله خطی را به روش حذفی حل کنید.

$$\begin{cases} x - 2y = 4 \\ 2x + y = 3 \end{cases}$$

دستگاه مقابل را به روش جایگزینی حل کنید. (خ ۹۵ قم)

$$\begin{cases} 2x - 3y = -5 \\ y = x + 1 \end{cases}$$

ستگاه مقابل را حل کنید. (خ ۹۵ لرستان)

$$\begin{cases} 2x + 3y = -2 \\ 3x - 3y = 12 \end{cases}$$

در دستگاه مقابل حاصل $x + y$ را به دست آورید.

$$\begin{cases} 3x + y = -2 \\ 3y - 2x = 5 \end{cases}$$

دستگاه معادلات خطی مقابل را به روش حذفی حل کنید. (خ ۹۵ آذربایجان غربی)

$$\begin{cases} x - y = 1 \\ x + y = 3 \end{cases}$$

در دستگاه معادله خطی مقابل ، مقدار y را به دست آورید. (خ ۹۵ شهرتهران)

$$\begin{cases} 7x - 5y = -69 \\ 7x + 4y = 30 \end{cases}$$

دستگاه معادله خطی مقابل را حل کنید. (خ ۹۵ چهار محال و بختیاری)

$$\begin{cases} 3x + 2y = -1 \\ 2x + 3y = -4 \end{cases}$$

دستگاه مقابل را حل کنید. (خ ۹۵ خراسان رضوی)

$$\begin{cases} 4x - 2y = 6 \\ 2x + 4y = 8 \end{cases}$$

مجموع سن علی و پدرش ۷۰ سال و اختلاف سن آنها ۲۶ سال است. سن هر یک را با تشکیل معادله بدست آورید. (خ ۹۵ سیستان و بلوچستان)

دستگاه زیر را حل کنید. (خ ۹۵ کرمانشاه)

$$\begin{cases} x + 2y = 4 \\ 2x - y = 3 \end{cases}$$

ب) در دستگاه معادله مقابل مقدار y را به دست آورید. (خ ۹۵ کهگیلویه و بویر احمد)

$$\begin{cases} 3x + 2y = -12 \\ y = -3x \end{cases}$$

دستگاه معادلات زیر را حل کنید. (جایگزینی) (خ ۹۵ لرستان سمپاد)

$$\begin{cases} 2x - y = 7 \\ -3x + 4y = -3 \end{cases}$$

دستگاه معادله های خطی مقابل را حل کنید. (خ ۹۵ مازندران)

$$\begin{cases} -2x + y = 8 \\ 2x - 3y = -12 \end{cases}$$

سری (ب)

۱) درستی یا نادرستی عبارتهای زیر را مشخص کنید.

الف) معادله $y = 2x - 1$ یک معادله خطی می باشد.

ب) دو خط $y = -\frac{2}{3}x - 5$, $2x + 3y = 6$ با هم موازیند.

پ) دو خط $x = -3$, $y = 5$ همواره برهم عمودند.

ت) شیب خط $6y = 3x + 12$ برابر با ۳ است.

ث) خط $4y = 3x$ مبدأ گذر می باشد.

ج) خط $y = -2$ خطی عمود بر محور طول هاست.

ح) معادله خطی نیمساز ناحیه اول و سوم برابر با $y = x$ است.

خ) دو خط $4x - 2y = -10$, $y = 2x + 5$ برهم منطبق هستند.

د) نقطه $\left[\begin{matrix} 2 \\ 3 \end{matrix} \right]$ روی خط $y = 5x - 7$ قرار دارد.

۲) در جای خالی عدد یا کلمه مناسب بنویسید.

الف) رابطه ی بین طول و عرض نقاط مختلف روی خط را خط می گویند.

ب) حالت کلی معادله خط های مبدأ گذر به صورت است.

پ) در معادله خطی $y = ax + b$ عدد a را و عدد b را خط می گویند.

ت) عرض از مبدأ خط های مبدأ گذر برابر با است.

ث) شیب خط $9 = 5x + 3y$ برابر با عدد است.

ج) شیب و عرض از مبدأ خط $5y = 4x - 10$ به ترتیب برابر با و است.

ح) عرض از مبدأ خط $15 = 5x - 3y$ برابر با است.

خ) محل تلاقی دو خط $y = \frac{1}{4}x$, $y = -2x$ نقطه ی است.

د) محل تلاقی دو خط $y = -5x - 5$, $y = 3x - 5$ نقطه ی است.

ذ) خط $x = -2$ خطی موازی محور و عمود بر محور است.

۳) گزینه صحیح را انتخاب کنید.

(* کدامیک از خط های زیر با خط $y = -4x + 4$ موازی است؟

الف) $y = 4x + 4$ ب) $y = 4x - 4$ ج) $y = 4x$ د) $y = -4x$

(* کدامیک از خط های زیر از مبدأ مختصات می گذرد؟

الف) $y=5$ ب) $3x - 2y = 0$ ج) $y = x + 1$ د) $x = 5$

(* کدامیک از نقاط زیر روی خط $y = 2x - 5$ قرار دارد؟

الف) $\begin{bmatrix} 2 \\ 1 \end{bmatrix}$ ب) $\begin{bmatrix} -1 \\ 7 \end{bmatrix}$ ج) $\begin{bmatrix} 0 \\ -5 \end{bmatrix}$ د) $\begin{bmatrix} 1 \\ 3 \end{bmatrix}$

(* اگر نقطه ی $A = \begin{bmatrix} -2 \\ 5 \end{bmatrix}$ روی خط $y = ax + 7$ قرار داشته باشد مقدار a کدام است؟

الف) ۱ ب) -۱ ج) -۶ د) ۶

(* اگر نقطه ی $A = \begin{bmatrix} -2 \\ -12 \end{bmatrix}$ روی خط $y = 3x + b$ قرار داشته باشد مقدار b کدام است؟

الف) -۶ ب) ۶ ج) -۱۸ د) ۱۸

(* به ازای چه مقداری از m خط $y = 5x + (2m - 8)$ از مبدأ مختصات می گذرد؟

الف) ۵ ب) -۴ ج) ۴ د) $\frac{1}{4}$

(* شیب خط $6y = 3x + 12$ برابر است با:

الف) ۳ ب) $-\frac{1}{2}$ ج) $\frac{1}{2}$ د) ۲

(* شیب خط گذرانده شده از نقاط $\begin{bmatrix} -4 \\ 3 \end{bmatrix}$ و $\begin{bmatrix} -2 \\ 5 \end{bmatrix}$ برابر است با:

الف) ۱ ب) -۱ ج) $\frac{4}{3}$ د) $\frac{1}{3}$

(* کدامیک از نقاط زیر روی خط $y = \frac{4}{5}x$ قرار دارد.

الف) $\begin{bmatrix} 4 \\ 5 \end{bmatrix}$ ب) $\begin{bmatrix} 5 \\ 4 \end{bmatrix}$ ج) $\begin{bmatrix} 4 \\ 5 \\ 1 \end{bmatrix}$ د) $\begin{bmatrix} 1 \\ 4 \\ 5 \end{bmatrix}$

۴) با توجه به معادله خطی $y = -4x + 3$ به سوالات زیر پاسخ دهید.

الف) نمودار معادله را رسم کنید.

ب) مختصات نقطه ای از خط را پیدا کنید که طول آن برابر ۲ باشد.

پ) مختصات نقطه ای از خط را پیدا کنید که عرض آن برابر ۹- باشد.

ت) محل برخورد این خط با محورهای مختصات چه نقاطی است؟

۵) الف) نمودار معادله خطی $2x + 5y = -10$ را رسم کنید.

ب) معادله خطی را بنویسید که با خط $20 = 10x + 5y$ موازی بوده و از نقطه $\begin{bmatrix} -5 \\ 9 \end{bmatrix}$ بگذرد.

پ) معادله خطی را بنویسید که از نقاط $\begin{bmatrix} -5 \\ -5 \end{bmatrix}$ و $\begin{bmatrix} -7 \\ 3 \end{bmatrix}$ بگذرد.

۶) الف) معادله خطی را بنویسید که از مبدأ مختصات و نقطه $\begin{bmatrix} -7 \\ 3 \end{bmatrix}$ بگذرد.

ب) مقدار a را طوری تعیین کنید که نقطه $\begin{bmatrix} 6 \\ -4 \end{bmatrix}$ روی خط $y = ax$ واقع باشد.

۷) الف) معادله خطی را بنویسید که از نقطه $\begin{bmatrix} -5 \\ -4 \end{bmatrix}$ گذشته و بر محور عرض ها عمود باشد.

ب) معادله خطی را بنویسید که از نقطه $\begin{bmatrix} -6 \\ 5 \end{bmatrix}$ گذشته و با محور طول ها موازی باشد.

پ) معادله خطی را بنویسید که از نقطه $\begin{bmatrix} -5 \\ 1 \end{bmatrix}$ گذشته و با محور عرض ها موازی باشد.

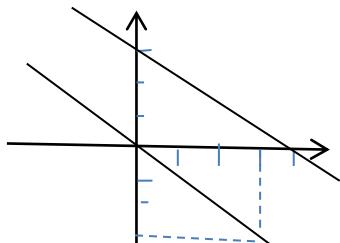
ت) معادله خطی را بنویسید که از نقطه $\begin{bmatrix} 8 \\ -4 \end{bmatrix}$ گذشته و بر محور طول ها عمود باشد.

۸) با توجه به معادله $y = 7x - 5$ مختصات نقاط زیر را کامل کنید.

$$A = [۳]$$

$$B = [۹]$$

۹) معادله خط های رسم شده را بنویسید.



۱۰) هر جفت از خط های زیر نسبت به هم چه وضعیتی دارند.

الف)
$$\begin{cases} 8x - 4y = 12 \\ y = \frac{-1}{2}x + 5 \end{cases}$$

ب)
$$\begin{cases} -9x - 6y = 18 \\ -4y = 6x + 12 \end{cases}$$

ج)
$$\begin{cases} 5x - 4y = 20 \\ y = \frac{5}{4}x - 1 \end{cases}$$

۱۱) معادله خطی را بنویسید که طول از مبدأ آن ۵ و عرض از مبدأ آن ۲- باشد.

۱۲) شیب و عرض از مبدأ هر یک از خط های زیر را بنویسید

$$y = \frac{2}{3}x - 7$$

$$3y = 6x + 9$$

$$7x - 3y = 21$$

۱۳) نقطه ی A محل برخورد خط $7x - 3y = 21$ با محور طولها و نقطه ی B محل برخورد این خط

با محور عرض ها و O مبدأ مختصات باشد مساحت مثلث OAB را بدست آورید.

۱۴) مقدار a, b را طوری پیدا کنید که معادله خط $y = ax + b$ از دو نقطه $\begin{bmatrix} 2 \\ 5 \end{bmatrix}$ و $\begin{bmatrix} 1 \\ 5 \end{bmatrix}$ بگذرد.

۱۵) خط d دارای شیب منفی می باشد و محور y ها را در نقطه $3+$ قطع می کند این خط از چه ناحیه های عبور می کند؟

۱۶) مقدار a را طوری تعیین کنید که خط $ax + 5y = 21$ از نقطه $\begin{bmatrix} -3 \\ 3 \end{bmatrix}$ بگذرد.

۱۷) مقدار b را طوری تعیین کنید که خط $y = \frac{5}{6}x + b$ از نقطه $\begin{bmatrix} 3 \\ 8 \end{bmatrix}$ بگذرد.