



(جمع روی محور)

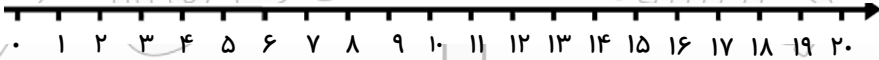
کاربرد شماره ۸

هر گونه کپی برداری و استفاده با نام خود شرعا حرام است. طراح: معیبد مهدی خانی


@BaaAvaliha

کانال آموزشی «با اولی ها»

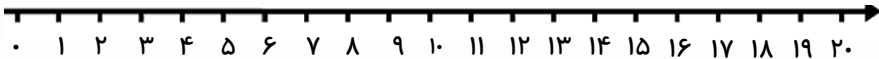
فرزندم، با کمک محور، جواب هر یک از جمع ها را بدست بیاور.



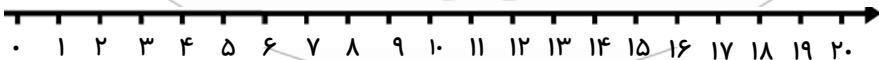
$4 + 5 + 3 = \dots\dots\dots$



$6 + 3 + 5 + 4 = \dots\dots\dots$



$2 + 3 + 6 = \dots\dots\dots$



$8 + 9 + 2 = \dots\dots\dots$



باز خورد آموزگار:

