

به نام خالق هستی بخش

درسنامه درس سوم مطالعات اجتماعی پایه نهم- ناحیه یک رشت

عنوان درس: **چهره زمین**

۱) سیاره زمین از چند محیط تشکیل شده است؟ آن را بیان کنید.

الف) سنگ کره یا (لیتوسفر) بخش خارجی کره زمین یا پوسته آن که حالت جامد دارد و از سنگ و خاک تشکیل شده است.

ب) آب کره (هیدروسفر) شامل اقیانوسها و دریاها، دریاچه ها، رودها و بقیه آبهای سطحی، آبهای زیرزمینی، یخچالها و نزولات جوی است.

ج) هوا کره یا جو (اتمسفر) نیز شامل گازهایی است که دور تا دور کره زمین را فرا گرفته اند.

د) این سه محیط با هم سیاره زمین را برای زندگی انسان و دیگر موجودات زنده یعنی زیست کره (بیوسفر) مناسب می سازند.

نکته: وسعت خشکی های زمین نسبت به آب ها کم است.

نکته: حدود ۷۱ درصد سطح زمین را آب ها و ۲۹ درصد بقیه را خشکی ها فرا گرفته اند.

۲) پنج مجموعه بزرگ خشکی ها را نام ببرید.


✓ آسیا

✓ آمریکا

✓ آفریقا

✓ اروپا


✓ استرالیا و اقیانوسیه



۳) جلگه های پهناور جهان در چه مناطقی پدید آمده اند؟
درکنار دریا ها و یا در امتداد رودهای بزرگ.

۴) فلات ها چگونه سرزمین هایی هستند؟ تعریف کنید.
فلات ها سرزمینهایی نسبتاً هموار اما مرتفع اند که از اطراف به سرزمینهای کم ارتفاع و پست منتهی می شوند.
نکته: فلات **تبت** بلند ترین فلات جهان است.

۵) ناهمواری های جوان و ناهمواری های قدیمی و فرسوده را باهم مقایسه کنید.
کوههای بسیار **مرتفع** جزء ناهمواریهای جوان هستند. دامنه این کوهها شیب تندی دارند. دره های بین آنها تنگ و به شکل وی است. به عکس، در کوه های **کم ارتفاع** با گذشت زمان و فرسایش، قله ها به شکل گنبدی در آمده اند و شیب دامنه ها ملایم است. این کوه ها دره های باز به شکل یو دارند.




۶) عوامل تغییر شکل و پیدایش ناهمواری ها به چند دسته تقسیم می شوند؟ نام ببرید.

✓ عوامل طبیعی

✓ عوامل انسانی

نکته: **فعالیت های انسان** نقش مهمی در تغییر شکل ناهمواری های زمین دارد.

۷) انسان با چه هدفی چهره ناهمواری ها را تغییر می دهد؟
برای رفع نیاز های خود و بهره برداری از محیط طبیعی.



با رعایت پروتکل های بهداشتی کرونا را شکست خواهیم داد.

شاد و سربلند باشید
سال تحصیلی ۱۴۰۱-۱۴۰۰