











۱- عدد هر دسته را بنویس و علامت < > = بگذار

	<input type="radio"/>	
	<input type="radio"/>	
	<input type="radio"/>	
	<input type="radio"/>	
	<input type="radio"/>	

اعدادی که در این سوال مقایسه کردی از کمترین به بیشتر مرتب کن و بنویس

.....

کمترین و بیشترین عدد کدام است؟.....

در عدد ۴۱۰ ارزش کدام رقم بیشتر است؟.....

۲- عدد های زیر را بخوان و مقایسه کن.

۵۱۷ ۵۲۰

۳۹۸ ۰۹

۲۰۹ ۱۰۹

۷۴۱ ۷۵۱

۴۰۷ ۴۰۰

۲۹۹ ۳۲۱

۳- کامل کن

۳۵۰ - ۳۸۰ - ۴۱۰ - - - - -

..... - - - - - - - - - ۷۹۰ - ۸۹۰ - ۹۹۰

..... - - - - - - - - - ۲۸۰ - ۲۹۰ - ۳۰۰

$170 + 200 =$

$325 + 300 =$

$235 + 100 =$

$129 + 200 =$

$303 + 300 =$

$199 + 300 =$

$590 - 100 =$

$600 - 300 =$


$920 - 300 =$

$249 - 49 =$

$369 - 300 =$

$709 - 100 =$

3- مانند نمونه دسته های ده تایی یا صد تایی درست کن و عدد هر شکل را بنویس



4- مقایسه کن و علامت < > قرار بده.

$67 \quad \bigcirc \quad 76$

$500 + 200 \quad \bigcirc \quad 500 - 200$

$19 \quad \bigcirc \quad 15$

$200 + 10 + 5 \quad \bigcirc \quad 200 + 20 + 5$

$198 \quad \bigcirc \quad 119$

$600 - 100 \quad \bigcirc \quad 500 + 100$

$86 \quad \bigcirc \quad 78$

$900 - 400 \quad \bigcirc \quad 800 + 100$

$301 \quad \bigcirc \quad 209$

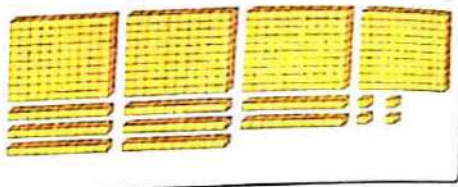

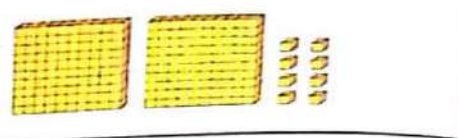

$300 + 10 + 7 \quad \bigcirc \quad 300 + 10 + 9$

$796 \quad \bigcirc \quad 786$

$99 + 1 \quad \bigcirc \quad 900 + 99$



۴- ابتدا قسمت های مساوی را از دو طرف حذف کن سپس مقایسه کن.



$$400 + 50 + 10 + 8 + 200 + 100$$

$$100 + 300 + 50 + 10 + 8$$

$$500 + 100 + 1 + 1 + 30 + 6$$


$$600 + 100 + 8 + 30 + 6 + 1$$

$$500 + 20 + 300 + 200 + 40 + 9 + 20$$

$$100 + 100 + 100 + 300 + 40 + 9$$

$$30 + 250 + 300 + 40 + 5 + 25$$

$$100 + 250 + 200 + 25 + 40 + 30$$



5- بیشترین و کمترین عدد سه رقمی کدام است؟.....

کمترین عدد سه رقمی را از بیشترین عدد سه رقمی کم کن. چه عددی می شود؟.....

6- حاصل جمع های زیر را به دست بیاور

$$425$$

$$230$$

$$362$$

$$514$$

$$+252$$

$$+704$$

$$+523$$

$$+142$$

۶۴۷	۷۱۰	۸۰۵	۲۶۴
+۲۰۲	+۲۲۰	+۱۲۲	+۵۲۳
۶۴۷	۳۲۹	۵۳۴	۶۸۵
-۲۵۴	-۲۲۹	-۳۲۱	-۵۲۵
۷۶۹	۹۰۹	۸۶۱	۵۸۹
-۴۵۵	-۷۰۹	-۵۴۰	-۴۰۶

۷- جدول زیر را کامل کن و با کمک آن حاصل جمع و تفریق های زیر را پیدا کن. مانند نمونه، مسیر حرکت خود را روی جدول هربار با یک رنگ نشان بده و با کمک جدول، مسئله را حل کن.

۱۰	۲۰	۳۰	۴۰				۸۰	۹۰	۱۰۰
۱۱۰	۱۲۰		۱۴۰	۱۵۰	۱۶۰	۱۷۰		۱۹۰	۲۰۰
۲۱۰	۲۲۰	۲۳۰	۲۴۰	۲۵۰	۲۶۰	۲۷۰	۲۸۰	۲۹۰	۳۰۰
۳۱۰	۳۲۰	۳۳۰	۳۴۰		۳۶۰	۳۷۰		۳۹۰	۴۰۰
	۴۲۰		۴۴۰	۴۵۰		۴۷۰	۴۸۰	۴۹۰	۵۰۰
۵۱۰	۵۲۰	۵۳۰		۵۵۰		۵۷۰	۵۸۰	۵۹۰	
۶۱۰	۶۲۰	۶۳۰		۶۵۰	۶۶۰	۶۷۰		۶۹۰	۷۰۰
۷۱۰	۷۲۰	۷۳۰	۷۴۰	۷۵۰	۷۶۰		۷۸۰		۸۰۰
	۸۲۰		۸۴۰		۸۶۰	۸۷۰		۸۹۰	
۹۱۰	۹۲۰	۹۳۰		۹۵۰	۹۶۰		۹۸۰	۹۹۰	



$520 + 230 = \dots$

$470 - 220 = \dots$

$610 + 220 = \dots$

$40 + 350 = \dots$

$470 + 520 = \dots$

$990 - 510 = \dots$

$300 - 250 = \dots$

$440 - 230 = \dots$

$900 + 60 = \dots$

۸- قدسینا ۱۲۰ سانتی متر و قد پدرش ۱۷۰ سانتی متر است. کدام بلند ترند؟ چقدر؟

مینا یک کتاب ۴۲۰ ریالی و یک دفتر ۳۵۰ ریالی خرید. مینا چند ریال خرید کرده است؟

کتاب داستان رضا ۱۱۰ صفحه دارد. او ۶۰ صفحه را خوانده است چند صفحه را نخوانده است؟

پدر زهرا برق کار است او برای سیم کشی یک ساختمان روز اول ۳۲۰ سانتی متر و روز دوم ۴۱۰ سانتی متر برق مصرف کرده است. در این دو روز او چند سانتی متر سیم استفاده کرده است؟

۹- جواب جمع و تفریق های زیر را به سرعت و به صورت ذهنی پیدا کن.

$620 + 200 =$

$270 + 40 =$

$740 - 400 =$

$540 + 400 =$

$330 + 300 =$

$820 - 200 =$

$960 - 500 =$

$780 - 300 =$

$780 - 600 =$

۱۰- مسئله های زیر را بخوان و برای هر کدام زیر مسئله بنویس و حل کن (جلو نویسی فراموش نشود)

دبستان حاج رضا صادقی ۴۷۰ دانش آموز دارد در هفته گذشته ۱۱۵ نفر و این هفته ۵۰ نفر آن ها به اردو رفته اند. چند نفر هنوز به اردو نرفتند؟



نازنین دو سکه ۲۵۰ ریالی و دو سکه ۱۰۰ ریالی و پنج سکه ۱۰ ریالی داشت. او یک کتاب ۷۰۰ ریالی خرید. چند ریال برایش باقی مانده است؟

مریم ۵۶۰ ریال و خواهرش یگانه ۵۰ ریال کمتر از او دارد. آن‌ها با هم چند ریال پول دارند؟

۱۱- کامل کنید

$$۵۴۹ = \dots + \dots + \dots$$

$$۲۰۰ + ۱۰۰ + \dots = \dots$$

$$۱۰۸ = \dots + \dots + \dots$$

$$۵۰۰ + \dots + ۷ = \dots$$

$$۶۱۵ = \dots + \dots + \dots$$

$$۱۰۰ + ۷۰ + \dots = \dots$$

$$۷۴۱ = \dots + \dots + \dots$$

$$۶۰۰ + ۷۰ + ۹ = \dots$$

$$۴۵۰ = \dots + \dots + \dots$$

$$۹۰۰ + ۹۰ + ۹ = \dots$$

$$۲۱۰ = \dots + \dots + \dots$$

$$۸۰۰ + ۲۰ + ۶ = \dots$$

۱۲- قیمت هر کدام از وسایل زیر را از سکه‌های مقابل آن جدا کن

۱۳- مسئله های زیر را حل کن

در قلک فاطمه ۳۵۰ ریال پول بود. ۲۹۵ ریال دیگر پس انداز کرد. حالا او چند ریال پول دارد؟

در مدرسه ی ایمان ۱۲۹ نفر در کلاس اول و ۱۶۸ نفر در کلاس دوم درس می خوانند. در این مدرسه چند نفر کلاس اول و دوم درس می خوانند؟

پدر هستی در باغ گل کار می کند. او دیروز ۳۲۰ شاخه گل مریم و ۱۸۹ شاخه گل داوودی فروخت. پدر هستی چند شاخه گل فروخته است؟

نگار ۳ بسته ده تایی و ۴ تا یکی مداد داشت او ۱۳ تا از مداد هایش را به دوستش هدیه داد. چند مداد برایش باقی مانده است؟

ستایش ۸۳۹ ریال پول دارد. برادرش ۵۳۰ ریال پول دارد کدام پول بیشتری دارند؟ چه مقدار؟

قد عسل ۶۰ سانتی متر و قد خواهرش ۹۱ سانتی متر است قد کدام بلند تر است؟ چقدر؟

۱۴- جمع و تفریق های زیر را انجام بده (با کمک انتقال)

25	33	68	78
<u>+49</u>	<u>+63</u>	<u>+46</u>	<u>-35</u>

$$\begin{array}{r} ۶۸ \\ -۴۸ \\ \hline \end{array}$$

$$\begin{array}{r} ۳۲۶ \\ +۱۷۱ \\ \hline \end{array}$$

$$\begin{array}{r} ۴۸۷ \\ +۱۹۸ \\ \hline \end{array}$$

$$\begin{array}{r} ۵۰۶ \\ +۲۹۵ \\ \hline \end{array}$$

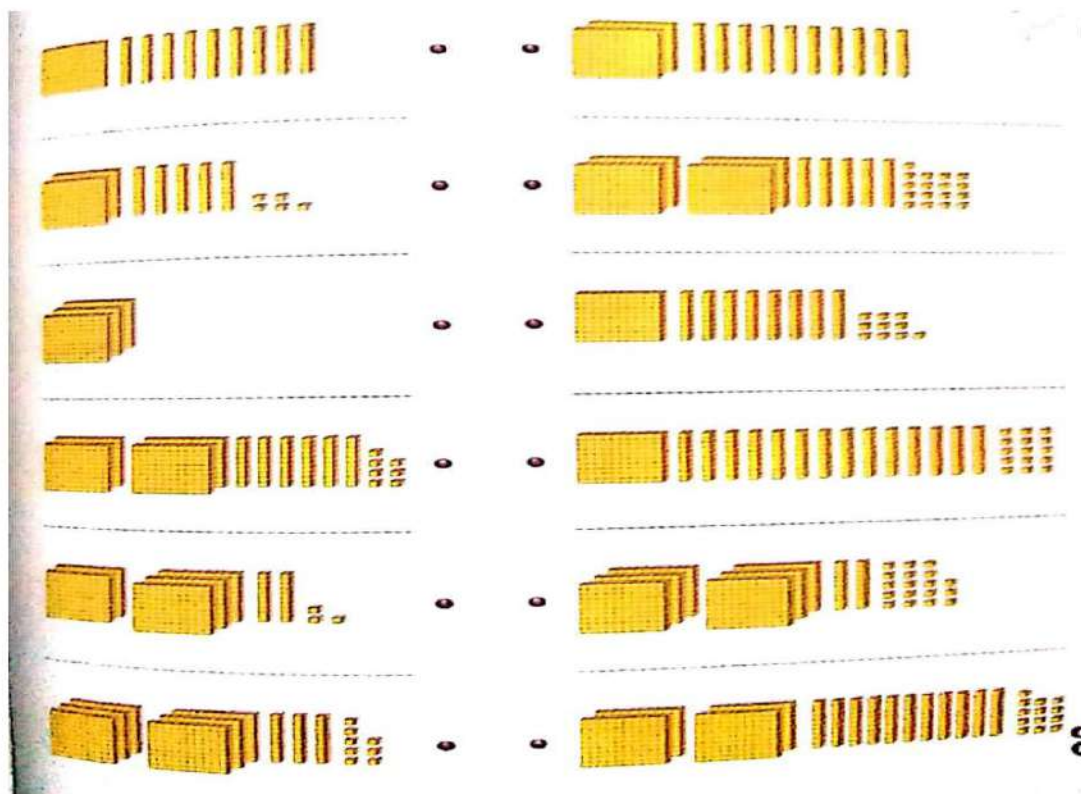
$$\begin{array}{r} ۷۶۸ \\ -۴۵۴ \\ \hline \end{array}$$

$$\begin{array}{r} ۶۶۹ \\ -۵۴۶ \\ \hline \end{array}$$

$$\begin{array}{r} ۸۹۱ \\ -۶۸۰ \\ \hline \end{array}$$

$$\begin{array}{r} ۶۰۵ \\ -۴۰۲ \\ \hline \end{array}$$

۱۵- شکل های سمت راست نوع دیگری از دسته بندی شکل های سمت چپ است. شکل های مربوط به هم را با خط به یکدیگر وصل کن.





16- در هر ردیف عدد مربوط به شکل را بنویس و با توجه به توضیح، یک دسته بندی جدید از شکل ها انجام بده.

ردیف

یک دسته ده تایی باز کن.

یک دسته صد تایی باز کن.

یک صد تایی و یک ده تایی باز کن.

یک دسته صد تایی باز کن.

یک صد تایی و یک ده تایی باز کن.

17- با رسم شکل های ساده تفریق های زیر را انجام بده.

$\begin{array}{r} 520 \\ -411 \\ \hline \end{array}$	$\begin{array}{r} 534 \\ -226 \\ \hline \end{array}$
$\begin{array}{r} 697 \\ -249 \\ \hline \end{array}$	$\begin{array}{r} 273 \\ -190 \\ \hline \end{array}$
$\begin{array}{r} 602 \\ -531 \\ \hline \end{array}$	$\begin{array}{r} 380 \\ -239 \\ \hline \end{array}$
$\begin{array}{r} 465 \\ -387 \\ \hline \end{array}$	$\begin{array}{r} 143 \\ -57 \\ \hline \end{array}$



۱۸- مسئله های زیر را حل کنید

پول زینب ۳۶۵ ریال است. پول فاطمه ۱۷۲ ریال کمتر از پول زینب است. فاطمه چند ریال پول دارد؟

پدر مائده بزاز است. او امروز از یک طاقه پارچه ۸۲۰ سانتی متری، یک بار ۳۰۰ سانتی متر و بار دیگر ۲۵۰ سانتی متر فروخته است. او از این طاقه، چند سانتی متر پارچه فروخته و چقدر باقی مانده است؟

زهرا ۳۵۰ ریال پول داشت. ۴۰۰ ریال دیگر هم از مادرش گرفت و با ۵۱۰ ریال آن یک کتاب خرید. چقدر برایش باقی مانده است؟

مبینا یک پاک کن ۳۰۰ ریالی و یک شکلات ۱۵۰ ریالی خرید و ۸۰۰ ریال به فروشنده داد. او باید چند ریال پس بگیرد؟

دبستان حاج رضا صادقی ۶۲۵ دانش آموز و دبستان نفیسه ۳۴۶ دانش آموز دارد. این دو دبستان روی هم چند دانش آموز دارند؟ کدام دبستان دانش آموز بیشتری دارد؟ چقدر؟

مجموع پول ۳ نفر با هم ۹۵۰ ریال است. پول نفر اول ۳۲۰ ریال است. پول نفر دوم ۱۲۰ ریال از پول نفر اول بیشتر است. حالا پول نفر سوم را حساب کن.

خدا قوت زهرالسادات امامی