

آموزگار: تاریخ:

به نام خدا

دبستان:

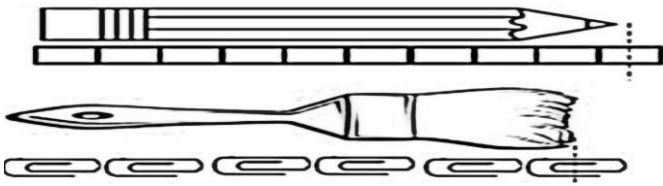
..... / / ۱۴.....

طراح: حسین تیموری

آزمون فصل پنجم ریاضی

نام و نام خانوادگی:

۱ - با توجه به واحد های اندازه گیری، طول مداد و قلم مو را مشخص کنید.



الف) طول مداد از چینه بیشتر و از چینه کمتر است.

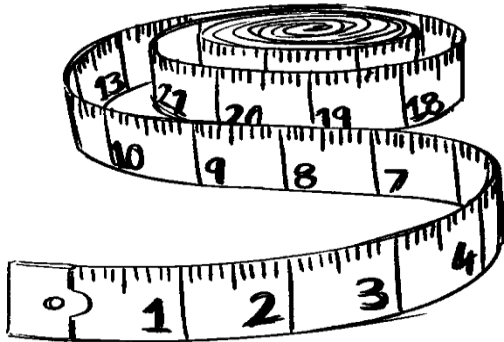
ب) طول قلم مو بین گیره و گیره است.

۲ - با توجه به نوار کاغذی، طول خط را مشخص کنید.



اندازه ی خط قسمت بزرگ و قسمت کوچک است.

۳ - جاهای خالی را کامل کنید.



الف) ۱۰ میلی متر همان سانتی متر است.

ب) ۴ سانتی متر یعنی میلی متر.

ج) ۵ سانتی متر و ۶ میلی متر یعنی میلی متر.

د) ۱۳۷ میلی متر یعنی سانتی متر و میلی متر.

۴ - به کمک حدس زدن و آزمایش کردن، به جای عدد مناسب قرار دهید.

$40 - \square = 17$

$\square + 24 = 77$

$29 + \square = 63$

$40 - \square = \dots$

$\square + 24 = \dots$

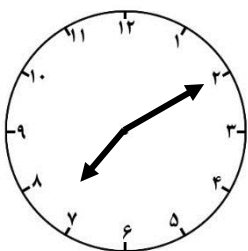
$29 + \square = \dots$

$40 - \square = \dots$

$\square + 24 = \dots$

$29 + \square = \dots$

۵ - با توجه به ساعت رو به رو، سوالات زیر را پاسخ دهید.




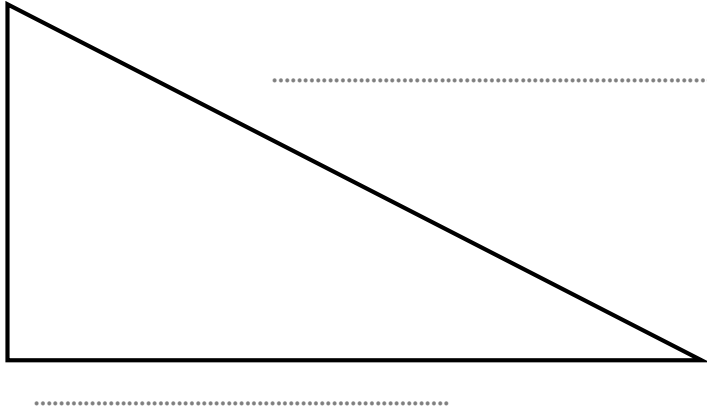
الف) ساعت چند است؟ :

ب) اگر عقربه ی بزرگ یک ربع حرکت کند، ساعت چند می شود؟ :

ج) اگر عقربه ی بزرگ نیم ساعت حرکت کند، ساعت چند می شود؟ :

د) عقربه ی بزرگ چند دقیقه حرکت کند تا ساعت ۷:۳۰ شود؟

۶ - طول ضلع های مثلث را با خط کش اندازه بگیرید و به سانتی متر و میلی متر بنویسید.




۷ - یک خط به طول ۸ سانتی متر رسم کنید و نقطه ی وسط آن را مشخص کنید.

۸ - یک خط به طول ۳۴ میلی متر رسم کنید.

۹ - یک خط به طول ۵ سانتی متر و ۵ میلی متر رسم کنید.

۱۰ - طول خط های زیر را با خط کش اندازه بگیرید و فقط به میلی متر بنویسید.



۱۱ - در مزرعه ای ۴ خروس و گوسفند وجود دارد که روی هم ۱۲ پا دارند. تعداد هر کدام را مشخص کنید؟

→ خروس: و گوسفند: → + + + =



→ خروس: و گوسفند: → + + + =

باز خورد آموزگار: خیلی خوب خوب قابل قبول نیاز به تلاش

باز خورد توصیفی آموزگار:



خود ارزیابی دانش آموز:

نظر ولی دانش آموز: