

به نام خدا


مجموعه سوال و جواب مطالعات اجتماعی

هفتم

درس ۱ تا ۱۲ (نوبت اول)

(دوره اول متوسطه)

قابل استفاده برای دانش آموزان پایه ی هفتم



منطقه ۸ تهران

تهیه کننده : علیرضا اسماعیلی

سال تحصیلی : ۹۵-۹۴

- ۱- خداوند در باره ی گرامی بودن مقان انسان در قرآن چه فرموده است؟ ما فرزندان آدم را بسیار گرامی داشتیم .. و آنها را پر بسیاری مخلوقات دیگر پرتری بخشیدیم .
- ۲- منظور از حق چیست؟ منظور از حق چیزهایی است که یک انسان به دلیل مقام انسانی اش ، شایستگی داشتن آنها را دارد .
- ۳- چند مورد از حقوق طبیعی که انسان ها از ابتدای خلقت صاحب آن می شوند را نام ببرید؟ (همه انسان ها حق حیات یا زندگی دارند که مهم ترین حق آنها است ۲- آنها حق دارند از نعمت های الهی برخوردار شوند. ۳- برای تأمین نیازهای خود کار و تلاش کنند. ۴- ازدواج کنند و تشکیل خانواده بدهند ۵- یاد بگیرند راه زندگی خود را انتخاب کنند.
- ۴- انسان ها حق دارند آزاد باشند یعنی چه ؟ چرا؟ یعنی پرده و بنده انسان های دیگر نباشند . زیرا خداوند آنها را آزاد آفریده است.
- ۵- چند مورد از نعمت های الهی و حق برخورداری از آنها را بنویسید؟ (استفاده از گیاهان ، جانوران و آب برای تغذیه- استفاده از هوا برای نفس کشیدن- استفاده از منابع و معادن برای تأمین نیازهای زندگی و ساختن ابزار و وسایل- برخوردار شدن از محبت دیگران- برخوردار از استعداد آموختن و داشتن قوه ی عقل و شعور ...
- ۶- آیا همه انسان ها صرف نظر از قوم ، نژاد ، زبان ، اعتقادات ، ثروت ، فقر و دارای حقوق طبیعی هستند؟ چرا؟ پله - زیرا همه ی انسان های عالم مخلوق خداوند هستند.
- ۷- ما از ابتدای تولد با چه کسانی ارتباط برقرار می کنیم؟ ما از ابتدای تولد با پدر و مادر و خواهر و خویشان ارتباط برقرار می کنیم.
- ۸- تبعه ی یک کشور بودن موجب چه می شود؟ تبعه ی یک کشور بودن موجب می شود افراد حقوقی پر مبنای قوانین آن کشور داشته باشند.
- ۹- چهار مورد از حقوق شما در خانه و خانواده چیست؟ ۱- هر فرد حق دارد نام و نام خانوادگی و شناسنامه داشته باشد. ۲- فرزندان حق دارند از محبت و توجه پدر و مادر برخوردار باشند. ۳- همه حق دارند با سواد شوند و تحصیل کنند و استعدادهای خود را شکوفا کنند. ۴- همه حق دارند غذا، لباس و مسکن مناسب داشته باشند. ۵- هیچ کس حق ندارد دیگری را مسخره کند یا به او صدمه بزند.
- ۱۰- شناسنامه چه چیزی را نشان می دهد؟ شناسنامه نشان می دهد که فرزند چه کسی هستم و به کدام کشور تعلق دارم.
- ۱۱- سه مورد از حقوق شما در مدرسه چیست؟ ۱- هر دانش آموزی حق دارد در مدرسه به او به اندازه ی سایر دانش آموزان توجه کنند و مسئولان یا معلمان در این باره تبعیضی بین او و دیگران قائل نشوند. ۲- هر دانش آموزی حق دارد نظرش را در باره ی مشکلات درسی یا روش های آموزشی در مدرسه ، مودپانه و محترمانه بیان کند. ۳- هیچکس نباید در مدرسه مورد تمسخر یا تنبیه بدنی قرار بگیرد.
- ۱۲- سه مورد از حقوق شما در محیط زندگی و کشور چیست؟ ۱- هر فرد حق دارد در محیطی سالم ، تمیز و پاک زندگی کند. ۲- هر فرد حق دارد از خدمات مناسب پزشکی و بهداشتی استفاده کند . ۳- همه حق دارند در کوچه و خیابان امنیت داشته باشند.
- ۱۳- موسساتی که با همکاری مردم برای بهداشت و سلامتی ، آموزش و امنیت مردم تلاش می کنند را نام ببرید؟ شهرداری - آموزش و پرورش - بهداشت و درمان - نیروی انتظامی

- همه ی ما مخلوق هستیم . (خداوند)
- خداوند با آفرینش انسان ، به او اعطا کرده است. (حقوقی)
- انسان ها از ابتدای خلقت و تولد دارای حقوق می شوند. (طبیعی)
- مهم ترین حق انسان ها حق یا است. (حیات- زندگی)
- هر فردی تبعه ی است . (یک کشور)
- خانواده تا حدی که دارد ، وسایل زندگی مرا فراهم می کند تا به خوبی رشد کنم (توان مالی)
- مسخره کردن انسان ها از نظر قرآن است. (گناهی بزرگ)

- ۱- منظور از حقوق متقابل یعنی چه؟ یعنی همان طور که ما حق داریم، پدر و مادر و معلم و همسایگان و دوستان و... نیز حقی بر ما دارند
- ۲- "حق و مسئولیت به منزله ی دو کفه ترازو هستند که باید تعادل آنها حفظ شود" این جمله را با مثال توضیح دهید؟
برای مثال کودکان حق دارند در خانواده از محبت و مراقبت و خوراک و پوشاک مناسب بهره مند شوند و فرزندان نیز وظیفه و مسئولیت دارند که به والدین خود احترام بگذارند و از آنها اطاعت کنند.
- ۳- مسئولیت یعنی چه؟ یعنی وظیفی که هر یک از ما به عهده داریم و انتظار می رود آنها را انجام دهیم.
- ۴- آقای مسعودی ۴۰ سال دارد و پزشک است. او دارای همسر و سه فرزند است و در یک آپارتمان زندگی می کند. به نظر شما او در هر یک از نقش های زیر چه مسئولیت هایی به عهده دارد؟
به عنوان پدر: باید نیازهای خانواده را تأمین کند و...
به عنوان همسر: باید با همسر خود مهربان باشد و...
به عنوان پزشک: باید نسبت به بیماران خود احساس مسئولیت داشته باشد و...
به عنوان فرزند پدر و مادر خود: باید به پدر و مادر خود احترام بگذارد و...
به عنوان همسایه: باید حقوق همسایگان خود را رعایت کند و...
- ۵- ما در برابر چه چیز و چه کسانی مسئول هستیم؟
۱- خداوند متعال ۲- خودم ۳- دیگران (اعضای خانواده - معلمان - همکلاسی ها - اعضای جامعه) ۴- محیط زندگی و عالم آفرینش.
- ۶- خداوند متعال چه نعمت هایی به ما عطا کرده است؟ عقل و فکر و استعداد و توانایی، خانواده، معلم، خوراک و پوشاک
- ۷- وظیفه ما در برابر نعمت های خداوند چیست؟ وظیفه ی ما این است که خداوند را عبادت کنیم، شکر گزار نعمت هایش باشیم و از دستورات او که برای سعادت و خوشبختی ما است پیروی کنیم.
- ۸- شکر گزار بودن نعمت های خداوند به چه معناست؟ شکر گزار بودن یعنی استفاده ی صحیح از نعمت ها، قدر نعمت ها را دانستن و به هدر ندادن آنها.
- ۹- وظیفه ی ما در برابر بدن خود چیست؟ (شما برای حفظ و مراقبت از بدن خود چه اقداماتی انجام می دهید؟) - (با خوردن غذای مناسب و پرهیز از غذاها یا مواد مضر، رعایت بهداشت و نظافت، خواب کافی و ورزش از بدنم مراقبت می کنم. ۲- از بدن خودم در مقابل موقعیت های خطرناک مثل ترقه بازی، عبور از خیابان و جاده با پی احتیاطی محافظت می کنم. ۳- باید تلاش کنم اسلحه های خودم را پنهان کنم و آنها را شکر کنم. ۴- تلاش می کنم با زناهم دروغ نگویم یا غیبت نکنم. ۵- با دست و پایم کار خطا یا گناه انجام ندهم و مراقب اعمال و رفتار خود باشم.
- ۱۰- وظیفه (مسئولیت) ما در برابر اعضای خانواده چیست؟
۱- در کارهای خانه با پدر و مادر همکاری می کنم ۲- وظایف شخصی خودم را بر دوش دیگران نمی گذارم. ۳- از پدر و مادر اطاعت می کنم و به نصیحت هایشان گوش می دهم ۴- به خواهران و برادرانم کمک و از آنها مراقبت می کنم.
- ۱۱- وظیفه (مسئولیت) شما در برابر مدرسه چیست؟
۱- مقررات و نظم کلاس و مدرسه را رعایت می کنم. ۲- با معلمان و دیگر مسئولان مدرسه با ادب و احترام برخورد می کنم. ۳- به توصیه های معلم گوش می کنم و سعی می کنم درس ها را خوب یاد بگیرم و تکالیفم را به موقع انجام دهم. ۴- با هم کلاسی هایم مهربان هستم و به آنها کمک میکنم. ۵- از اموال عمومی مدرسه که متعلق به همه است محافظت می کنم.
- ۱۲- وظیفه شما در برابر اعضای جامعه چیست؟
۱- در محل زندگی ام طوری رفتار می کنم که همسایگان آزرده نشوند. ۲- برای حفظ امنیت با اهالی محل و مسئولان همکاری می کنم. ۳- من در برابر خون شهیدانی که برای انقلاب اسلامی و دفاع از میهن جان دادند مسئول هستم. ۴- من وظیفه دارم به همراه هم وطنانم برای پیشرفت و آبادانی کشورم تلاش کنم. ۵- وظیفه دارم از وحدت و استقلال میهن دفاع کنم.
- ۱۳- جلوه های عظمت خداوند چیست؟ آب و خاک و نور و هوا و گیاه و جانوران
- ۱۴- وظیفه ی شما در برابر محیط زندگی و عالم آفرینش چیست؟
۱- باید برای آباد کردن محیط زندگی ام تلاش کنم. ۲- سعی می کنم بهداشت و پاکیزگی را در محیط زندگی ام حفظ کنم، ۳- به محیط زیست آسیب نرسانم و نظم طبیعت را برهم نزنم.

- ما در روابطی که با دیگران برقرار می کنیم دارای هستیم . (حقوق متقابل)
- همان طور که ما حقوقی داریم ، هم هستیم . (مسئول)
- وقتی فردی وظایف و تکالیف خود را خوب انجام می دهد می گویند او فرد است . (مسئولی)
- افراد در نقش های مختلف ، دارند . (مسئولیت های مختلف)

مجموعه سوال و جواب کتاب مطالعات اجتماعی هفتم - متوسطه اول - تهیه کننده : علیرضا اسماعیلی

درس ۳ (چرا به مقررات و قوانین نیاز داریم

- ۱- آیا انسان ها در استفاده از حقوق خود آزادی مطلق و بی قید و شرط دارند؟ چرا؟ با ذکر مثال ؟ خیر- هیچ یک از ما در استفاده از حقوق خود آزادی مطلق و بی قید و شرط نداریم بلکه تا آنجا می توانیم حق خود را اعمال کنیم که مغایر قانون نباشد. برای مثال نمی توانیم در استفاده از حقوق خود قوانین الهی را نادیده بگیریم یا نمی توانیم با اعمال حق خود سبب خسارت و زیان دیگران شویم .
- ۲- به طور کلی قانون و مقررات به چند دلیل بوجود آمده است؟ به دو دلیل (۱- حفظ حقوق افراد ۲- برقراری نظم و امنیت .
- ۳- عدم رعایت قوانین و مقررات در جامعه چه مشکلاتی دارد؟ علاوه بر به هم زدن نظم و امنیت اجتماعی ، موجب پایمال شدن حقوق افراد می شود .

- ۴- به این موقعیت ها توجه کنید و بگویید هر کدام چه پیامدهایی دارد و کدام حقوق نادیده گرفته می شود؟
 - *- فردی زباله های خانه ی خود را در گوشه ی پارکی مقابل محوطه ی بازی کودکان بریزد: پارک آلوده می شود و پوی پدی ایجاد می شود و برای بازی کودکان مشکل ایجاد می شود
 - *- فردی بخواهد خارج از صف افرادی که در نانوایی ایستاده اند ، نان بگیرد : هرج و مرج به وجود می آید و حق نوبت دیگران پایمال می شود .
 - *- فروشنده ای که رایانه ای را فروخته و وقتی مشتری از او برگه خرید (صورتحساب) می خواهد به او نمی دهد : ممکن است باعث کرائفروشی و سوء استفاده شود .
 - *- راننده ای که بدون توجه به علامت عبور ممنوع داخل خیابان یکطرفه می شود و ترافیک به وجود می آورد : مزاحم عبور دیگر وسایل نقلیه می شود و قوانین راهنمایی و رانندگی نادیده گرفته می شود .
 - *- موتور سواری که به علت شلوغی خیابان وارد پیاده رو می شود و از بین مردم عبور می کند : برای عابرین مزاحمت ایجاد می کند .
 - *- شرکت ساختمانی که قرار است سالن ورزشی برای مردم بسازد ، اما مقررات ساختمان سازی و مصالح مناسب را به کار نبرد : ساختمان ریزش می کند و خطرات جانی برای شهروندان به همراه دارد .
- ۵- یک مکان یا گروه اجتماعی را انتخاب کنید . جدولی دو ستونی رسم کنید که در آن مقررات مربوط به آن مکان را در یک ستون و کارکرد آن در ستون مقابل نوشته شود :

مکان	مقررات	کارکرد
پمپ بنزین	ورود با صف	نظم و احترام به حقوق دیگران
مسجد	در آوردن کفش ها و قرار دادن آن ها در جا کفشی	احترام به مکان های مذهبی و رعایت بهداشت و نظم
کتابخانه	رعایت سکوت هنگام مطالعه	احترام به حقوق دیگران و ایجاد آرامش
پارک	نریختن زباله در پارک و نچیدن گل های پارک	حفظ پاکیزگی محیط زیست و جلوگیری از ایجاد بیماری

- یکی از مهم ترین علل پدید آمدن مقررات و قوانین در جامعه و بوده است . (برقراری نظم - حفظ حقوق افراد)
- ایجاد نظم و امنیت و جلوگیری از هرج و مرج نوعی احترام به است . (حقوق دیگران)

۱- مقررات یک جامعه به چند شکل به وجود می آیند؟ (با مثال)

۱- گاهی مقررات به صورت دستورهای مذهبی و اخلاقی است: مانند هیچ کس نباید با کفش وارد نمازخانه و مسجد شود.

۲- گاهی گروه های اجتماعی به صورت توافق یا عادت و رسم از مقرراتی پیروی می کنند: مانند ایستادن در صف اتوبوس و یا نانوایی

۳- گاهی مقررات به وسیله یک نهاد دارای صلاحیت مثل مجلس تصویب می شود: مانند ممنوعیت عبور از چراغ قرمز

۲- قانون چیست؟ هرگاه مقررات به وسیله یک نهاد دارای صلاحیت مثل مجلس تصویب می شود، نام قانون به خود می گیرد.

۳- قانون اساسی چیست؟ قانون اساسی مادر همه ی قانون ها است و سایر قوانین در چارچوب آن تصویب می شوند. در قانون اساسی هر کشور مهم ترین حقوق ملت و همچنین مهم ترین روابط و وظایف حکومت و مردم معین شده است.

۴- مجلس خبرگان چگونه مجلسی بود؟ در این مجلس خبرگانی که از سوی مردم انتخاب شده بودند، براساس اهداف انقلاب در طی چند ماه قانون اساسی را نوشتند و تصویب کردند.

۵- قانون اساسی کشور ما در چه روزهایی به همه پرسی گذاشته شد؟ در روزهای (۱ و ۱۲) آذرماه ۱۳۵۸ به همه پرسی گذاشته شد و مردم به آن رأی مثبت یا آری دادند.

۶- منظور از اینکه همه افراد در مقابل قانون مساوی هستند چیست؟ مثال بزنید. یعنی قانون باید برای همه ی افراد به صورت مساوی اجرا شود. برای مثال هرکس از چراغ قرمز عبور کند جریمه می شود، چه پی سواد باشد چه استاد دانشگاه، چه فقیر باشد چه پولدار.

۷- قوه ی مقننه چه وظیفه ای دارد و از چند بخش تشکیل شده است؟ نام ببرید. قوه ی مقننه تهیه و تصویب قوانین عادی کشور را در چارچوب قانون اساسی به عهده دارد. و از دو بخش تشکیل شده: (۱- مجلس شورای اسلامی ۲- شورای نگهبان

۸- مجلس شورای اسلامی از چه کسانی تشکیل شده است؟ مجلس شورای اسلامی نمایندگان منتخب مردم هستند که قوانین عادی را تهیه و تصویب می کنند. آنها برای یک دوره ی چهار ساله از سوی مردم مناطق مختلف کشور ما انتخاب می شوند.

۹- شورای نگهبان چند نفر عضو دارد و اعضای آن چگونه انتخاب می شوند؟ این شورا مرکب از ۱۲ نفر است. ۶ نفر فقیه که از سوی رهبر جمهوری اسلامی انتخاب می شوند و ۶ نفر حقوقدان که از طرف قوه ی قضاییه به مجلس معرفی می شوند.

۱۰- شورای نگهبان چه وظایفی دارد؟ (۱- این شورا همه ی قوانینی را که در مجلس تصویب می کند با قانون اساسی و اصول و احکام دین اسلام تطبیق می دهد و اگر قوانین تصویب شده با قانون اساسی و اصول و احکام دین مغایرت داشت آنها را رد می کند یا دوباره به مجلس برمی گرداند تا اصلاح شود. ۲- این شورا بر انتخاباتی که در کشور برگزار می شود مانند انتخابات ریاست جمهوری و مجلس شورای اسلامی نظارت می کند و پس از بررسی و تأیید صلاحیت نامزدهای انتخاباتی به آنها اجازه ی انتخاب شدن می دهد.

۱۱- قانون گذاران با توجه به چه مواردی بهترین قوانین را وضع می کنند؟ با توجه به نیازها و موضوعات مختلف جامعه.

۱۲- چرا قانونگذاران باید از بین بهترین افراد انتخاب شوند؟ زیرا که وضع قانون اهمیت زیادی دارد.

*- مهم ترین قانون هر کشور است. (قانون اساسی)

*- پس از پیروزی انقلاب اسلامی مجلس برای نوشتن قانون اساسی جمهوری اسلامی تشکیل شد. (خبرگان)

*- قانون اساسی جمهوری اسلامی ایران اصل دارد. (۱۷۷)

*- نمایندگان مجلس شورای اسلامی از بین خود فردی را به عنوان انتخاب می کنند. (رئیس مجلس)

*- نمایندگان مجلس شورای اسلامی پس از انتخاب شدن بوی شروع کار خود در مجلس می کنند. (آدای سوگند)

- ۱- چند نمونه از حوادثی را که در آن مردم کشور ما نشان دادند روحیه همدلی و همدردی بسیار خوبی دارند بیان کنید؟
حوادث مختلف مانند جنگ تحمیلی عراق علیه ایران، زلزله ی بم، زلزله ی آذربایجان و سیل استان گلستان
 - ۲- همدلی یعنی چه؟ همدلی یعنی اینکه خود را به جای فرد دچار حادثه شده بگذاریم و احساس و شرایط او را درک کنیم.
 - ۳- همپاری یعنی چه؟ همپاری یعنی پس از درک احساس فرد حادثه دیده به کمک او بشتابیم.
 - ۴- آیا ما در هنگام حوادث فقط به یاری هموطنان خود می شتابیم، بلکه نسبت به همه ی انسان های مظلوم و آسیب دیده در هر جای جهان باشند احساس مسئولیت می کنیم. برای مثال مردم فلسطین اشغالی در اثر حملات ناچوانمردانه ی رژیم اشغالگر قدس زخمی می شوند یا به شهادت می رسند.
 - ۵- امام رضا(ع) در باره برطرف کردن اندوه مومنان چه فرمود؟ هر کس اندوهی را از مومنی برطرف کند خداوند در روز قیامت اندوهش را برطرف می کند.
 - ۶- چرا امروزه همه به سرعت می توانند از اخبار حوادث در مناطق مختلف آگاه شوند؟ به علت گسترش وسایل ارتباطی و حمل و نقل.
 - ۷- کدام موسسات اجتماعی در حوادث به ما کمک می کنند؟ جمعیت هلال احمر - سازمان آتش نشانی - اورژانس - نیروی انتظامی
 - ۸- جمعیت هلال احمر چگونه موسسه ای است؟ جمعیت هلال احمر یکی از موسساتی است که در زمان وقوع حوادث طبیعی یا جنگ ها به کمک مردم می شتابد.
 - ۹- چند مورد از وظایف سازمان جمعیت هلال احمر را بنویسید. ۱- در هنگام وقوع حوادث به معروحین کمک های اولیه می رساند و آنها را به بیمارستان منتقل می کند ۲- برای آسیب دیدگان سیل یا زلزله و جنگ، چادرهای اسکان موقت پرپا می کند ۳- کمک های مردمی مثل غذا، پوشاک، چادر اسکان و دارو را جمع آوری و به آنها می رساند ۴- در شرایط عادی برای صلح و دوستی و همچنین حفظ محیط زیست تلاش میکند.
- ** خداوند و را در سرشت ما انسان ها قرار داده است. (همدلی - انسان دوستی)
- ** جمعیت هلال احمر بخشی به نام دارد. (سازمان چوانان هلال احمر)

- ۱- چرا موسسه بیمه به وجود آمده است؟ موسسه بیمه برای چپران زیان های مالی و چائی به وجود آمده است.
- ۲- بیمه چیست؟ بیمه یک قرارداد بین بیمه گر و بیمه شونده (بیمه گذار) است. موسسه بیمه گر تعهد می کند در قبال دریافت حق بیمه از بیمه شونده خسارت های ناشی از حوادث معینی را چپران کند.
- ۳- بیمه ها از نظر قانون به چند بخش تقسیم می شوند؟ به دو بخش ۱- اجباری (بیمه شخص ثالث اتومبیل) ۲- اختیاری (بیمه بدنه اتومبیل).
- ۴- بیمه از نظر خدماتی که به بیمه شوندگان ارائه می کند انواع مختلف دارد آنها را نام ببرید؟ بیمه بهداشت و درمان، بیمه بیکاری، بیمه از کار افتادگی، بیمه روستاییان، بیمه بدنه اتومبیل، بیمه سرنشین خودرو، بیمه آتش سوزی، بیمه منازل مسکونی
- ۵- دو مورد از قوانین مربوط به بیمه ی کشور را توضیح دهید؟ ۱- طبق قانون همه ی دارندگان وسایل نقلیه موتوری، باید سالیانه خودروی خود را برای حوادث چائی و مالی ناشی از تصادف بیمه کنند ۲- بر طبق قانون کلیه سازمان ها، پنگاه ها، شرکت ها و کارفرمایان، وظیفه دارند همه کارمندان و کارگران خود را در مقابل حوادث ناشی از کار بیمه کنند.

- ۶- بیمه ی بهداشت و درمان چه فوایدی دارد؟ افرادی که تحت پوشش بیمه ی بهداشت و درمان هستند می توانند بخشی از هزینه های پزشکی خود را مانند عمل جراحی، آزمایشگاه، خرید دارو و... از طریق بیمه دریافت کنند.
- *- در ابتدای هر سال تحصیلی، والدین شما پولی را به مدرسه بابت بیمه ی می پردازند. (دانش آموزی)
- *- موسسه ای که شما را بیمه کرده است نامیده می شود و شما هستید. (بیمه گر - بیمه شونده)
- *- در کشور ما موسسات مختلفی برای بیمه به وجود آمده است که همه ی آنها زیر نظر فعالیت می کنند. (بیمه مرکزی)

درس ۷ (تولید و توزیع)

مجموعه سوال و جواب کتاب مطالعات اجتماعی هفتم - متوسطه اول - تهیه کننده: علیرضا اسماعیلی

- ۱- تولید محصول به منظور چیست؟ به منظور رفع نیازها و خواسته های انسان صورت می گیرد.
- ۲- تولید محصول ممکن است به چند صورت باشد؟ به دو صورت (۱- ممکن است کالا باشد مانند کفش، کیف، دفتر، یخچال و ... ۲- ممکن است خدمات باشد مانند خدمات پزشکی، آموزش، بیمه، حمل و نقل و ...)
- ۳- عوامل تولید را نام ببرید؟ (۱- منابع طبیعی ۲- سرمایه ۳- نیروی انسانی)
- ۴- منابع طبیعی چیست؟ آنچه در طبیعت وجود دارد مانند آب، خاک، جانوران، جنگل ها، معادن (نفت، گاز، زغال سنگ، آهن و...) منابع طبیعی هستند.
- ۵- برای آنکه انسان بتواند کالا و وسایل تولید کند چه کاری باید انجام دهد؟ باید از امکانات و منابع طبیعی که خداوند در اختیار بشر قرار داده استفاده کند.
- ۶- به چه دلیل نقش نیروی انسانی در تولید بسیار مهم است؟ زیرا اگر کار و تلاش انسان نبود چیزی تولید نمی شد و آدمیان نمی توانستند به زندگی ادامه بدهند.
- ۷- سرمایه چیست؟ و چه چیزهایی شامل سرمایه است؟ انسان برای آنکه از منابع طبیعی استفاده و آنها را به کالا تبدیل کند به ابزار و تجهیزات نیاز دارد. این تجهیزات سرمایه نام دارد. ماشین آلات، ابزار کار و زمین یا ساختمانی که تولید در آن ها صورت می گیرد سرمایه هستند.
- ۸- چرا نقش نیروی انسانی در تولید بسیار مهم است؟ زیرا اگر کار و تلاش انسان نبود، چیزی تولید نمی شد و آدمیان نمی توانستند به زندگی ادامه بدهند.
- ۹- تقسیم کار در جامعه چگونه بوجود آمد و شغل های گوناگون ایجاد شدند؟ در گذشته های دور با رونق کار کشاورزی تولید محصول زیاد شد با تولید غذای کافی دیگر همه معپور به کار کشاورزی نبودند و به تدریج افراد دیگر توانستند به کارهای دیگر بپردازند و در برخی کارها مهارت پیدا کنند. بدین ترتیب تقسیم کار در جامعه بوجود آمد. هر کس تولید یک یا چند کالا را بر عهده گرفت و شغل های گوناگون پدید آمدند.
- ۱۰- به طور کلی مشاغل و فعالیت های اقتصادی را در چند گروه می توان طبقه بندی کرد؟ نام ببرید؟ در سه گروه (۱- کشاورزی ۲- صنعت ۳- خدمات)
- ۱۱- به نظر شما کدام یک از عوامل تولید مهم ترند؟ چرا؟ نیروی انسانی - زیرا انسان با نیروی فکر و کار خود می تواند منابع طبیعی را استخراج و به وسایل مورد نیاز خود تبدیل کند. همچنین انسان ابزار و وسایل کار و تولید را ابداع و اختراع کرده است.
- ۱۲- اگر بخواهیم تولید امروز را با گذشته مقایسه کنیم کدام عوامل تولید بیشتر تغییر کرده اند؟ یک مثال بزنید؟ سرمایه - این ابزار در واقع سطح فناوری در هر دوره ی تاریخی است. سایر عوامل تولید تغییرات کمتری داشته اند. البته پیشرفت ابزار تولید خود موجب شده است که منابع طبیعی با سرعت و شدت بیشتری استخراج شوند یا این پیشرفت، قدرت و توانایی انسان را برای تولید بیشتر و ابداعات جدید افزایش داده است.
- ۱۳- توزیع در لغت به چه معناست؟ و آن را تعریف کنید؟ توزیع در لغت به معنی پخش کردن است. توزیع فعالیتی است که بین تولید کننده و مصرف کننده رابطه برقرار می کند.

۱۴- تولید کنندگان بعد از تولید چه اقداماتی را انجام می دهند؟-۱ باید محصولات خود را به دست مشتریان برسانند. به همین دلیل سعی می کنند بازارهای مصرف را پیدا کنند ۲- به روش های مختلف کالاهای خود را تبلیغ می کنند ۳- (از افراد یا موسساتی برای پخش محصولات خود در بازارهای مصرف دور و نزدیک کمک می گیرند.

۱۵- در گذشته در اغلب شهرها ، بازارها را کجا می ساختند؟ در مکان های پر جنب و جوش و در کنار دروازه های شهر می ساختند.

۱۶- در زمان های گذشته بازارها چه نقشی در جامعه داشتند؟ بازارها علاوه بر اینکه محل دادوستد اقتصادی بودند در امور اجتماعی هم نقش مهمی داشتند. برای مثال در هنگام جشن ها و اعیاد ، بازار چراغانی می شد یا در هنگام عزاداری ها مراسم سوگواری در آنجا برپا می کردند.

۱۷- فروشنده ای که می خواهد کسب حلال داشته باشد باید چه کاری انجام دهد؟ باید از کم فروشی و گران فروشی پرهیز کند .

*- تولید محصول به منظور و صورت می گیرد . (رفع نیازها - خواسته های انسان)

*- انسان ها همواره به صورت و زندگی کرده اند . (گروهی - اجتماعی)

*- برای تولید هر محصولی ، نیروی انسانی باید و را داشته باشد . (دانش - مهارت)

*- از زمان ساخت اولین شهرها در ایران ، یکی از مکان های مهم شهر ، بوده است . (بازار)

*- در آمد حاصل از کم فروشی و گران فروشی است . (حرام)

درس ۸ (مصرف)

مجموعه سوال و جواب کتاب مطالعات اجتماعی هفتم - متوسطه اول - تهیه کننده : علیرضا اسماعیلی

۱- مصرف کننده چه کسی است ؟ مصرف کننده کسی است که کالاها و خدمات را به منظور رفع نیازهای خود می خرد .

۲- خریدار چگونه از کارت خرید اعتباری خود استفاده می کند؟ خریدار با استفاده از کارت خرید اعتباری خود به ازای مبلغ کالا از پولی که در بانک دارد برداشت و به حساب فروشنده می ریزد .

۳- سه مورد از حقوق مصرف کننده را نام ببرید ؟ ۱- قوانین و مقررات ۲- پرچسب مشخصات کالا ۳- استاندارد .

۴- به منظور حفظ حقوق مصرف کننده چه قوانینی وجود دارد؟ ۱- طبق قانون اگر کسی در مواد خوردنی و آشامیدنی و آرایشی و بهداشتی رنگها و مواد تقلبی به کار ببرد ، حتی اگر به مصرف کننده آسیبی نرسیده باشد سازنده ی آن به زندان محکوم می شود ۲- کسی نمی تواند بدون گرفتن مجوز ، کارگاه تولید مواد غذایی یا سایر کالاها تأسیس کند .

۵- روی بر چسب مشخصات کالا چه مواردی درج شده است؟ اطلاعاتی از قبیل شماره جواز تولید ، آدرس محل کارخانه یا محل تولید ، قیمت کالا ، مواد به کار رفته در آن و تاریخ مصرف ، نکات ایمنی و درج شده است .

۶- واژه استاندارد به چه معناست ؟ استاندارد کلمه ای است انگلیسی به معنی نمونه قابل قبول .

۷- این جمله را توضیح دهید ؟ تولید کننده ی هر کالایی باید یک سری ویژگی ها و معیارهایی را برای تولید یک کالا رعایت کند ؟ در یک ماده خوراکی استاندارد (بیسکویت ، رب گوجه ، کمپوت) باید مواد افزودنی یا رنگ های مجاز به حدی باشد که به بدن آسیبی نرساند .

در مواد بهداشتی (کرم ، شامپو ، مایع ظرفشویی و) مواد شیمیایی به کار رفته باید به اندازه ی لازم باشد تا به پوست و بدن آسیبی نرساند .

۸- آیا استاندارد مربوط به کالای خاصی است ؟ با مثال ؟ خیر - استاندارد مربوط به همه ی کالاها است ، برای مثال وسایل الکتریکی و وسایل گرماپیش مانند بخاری اگر استاندارد نباشد ایمنی استفاده کنندگان را به خطر می اندازد .

۹- وظیفه ی موسسه استاندارد و تحقیقات صنعتی ایران چیست ؟ این موسسه ابزار لازم برای آزمایش وسایل و کالاها را در اختیار دارد . پیشتر تولید کنندگان وسیله یا ماده ای را که تولید می کنند به این موسسه می فرستند تا کیفیت آن بررسی شود . اگر کیفیت کالایی توسط این موسسه تأیید بشود اجازه می دهد که علامت مخصوص استاندارد را روی آن کالا چاپ کنند .

۱۰- این علامت که روی برخی کالاها وجود دارد نشانه ی چیست ؟ علامت مخصوص استاندارد که نشانه ی کیفیت کالا است




۱۱- مصرف گرایی یعنی چه؟ مصرف گرایی یعنی اینکه بدون داشتن نیاز واقعی بخواهیم برای تفریح یا خود نمایی و چشم همچشمی با دیگران کالاهایی را بخریم.

۱۲- خداوند در قرآن در باره ریخت و پاش کنندگان چه می فرماید؟ همانا مبدترین (ریخت و پاش کنندگان) دوستان شیاطین اند.

۱۳- از نظر دین اسلام تولید و مصرف کالا برای چیست؟ برای رفع نیاز انسان است تا او بتواند به کارهای مهم تر بپردازد.

۱۴- مصرف گرایی چه آسیب های اخلاقی برای مردم ایجاد می کند؟ مُد گرایی، خود نمایی، چشم همچشمی، تجمل گرایی، اسراف.

۱۵- امروزه با تولید انبوه صنعتی، با زباله ها چه می کنند؟ زباله ها را می سوزانند یا در مناطقی از زمین دفع می کنند که در هر صورت برای محیط زیست زیان آور است.

۱۶- این علامت که بر روی برچسب بسته بندی برخی کالاها وجود دارد نشانه چیست؟  علامت بازیافت زباله است. یعنی این کالا پس از استفاده می تواند دوباره بازیافت شود و مواد جدیدی با آن تولید شود.

*- خرید و فروش با صورت می گیرد. (پول)

*- امروزه علاوه بر پول کاغذی از شیوه های دیگری نیز برای مبادله استفاده می شود، یکی از این شیوه ها است. (کارت خرید اعتباری)

*- هر زمان که شما چیزی می خرید هستید. (مصرف کننده)

*- تولید کنندگان و توزیع کنندگان نیز خود هستند. (مصرف کننده)

*- استاندارد کلمه ای است انگلیسی به معنی (نمونه قابل قبول)

*- در ایران موسسه ای به نام موسسه کیفیت کالاها را بررسی می کند. (استاندارد و تحقیقات صنعتی)

*- مسئولیت مصرف کننده، است. (مصرف درست)

*- مصرف گرایی به می انجامد. (اسراف)

*- اسراف و ریخت و پاش است. (گناهی نابخشودنی)

*- در جوامع امروز، مصرف گرایی به شدت به آسیب رسانده است. (محیط زیست)

درس ۹ (من کجا زندگی می کنم؟)

مجموعه سوال و جواب کتاب مطالعات اجتماعی هفتم - متوسطه اول - تهیه کننده: علیرضا اسماعیلی

۱- هر مکان دارای چند نوع ویژگی است نام ببرید؟ دو نوع: (۱- ویژگی های طبیعی ۲- ویژگی های انسانی)

۲- ویژگی های طبیعی یک مکان شامل چه مواردی است؟ موقعیت جغرافیایی - نوع آب و هوا - ناهمواری ها - رودها - پوشش گیاهی - زندگی جانوری و

۳- ویژگی های انسانی یک مکان شامل چه مواردی است؟ تعداد جمعیت - فعالیت های اقتصادی - سواد - زبان - آثار تاریخی و

۴- دانش جغرافیا چه کمکی به ما می کند؟ دانش جغرافیا به ما کمک می کند که ویژگی های طبیعی و انسانی مکان های مختلف را بشناسیم و رابطه ی بین این ویژگی ها را بفهمیم.

۵- جغرافی دانان معمولاً کار خود را چگونه آغاز می کنند؟ جغرافی دانان معمولاً کار خود شان را با پرسش هایی در باره ی یک مکان آغاز می کنند و سپس در باره ی این پرسش ها تحقیق می کنند تا پاسخ آنها را پیدا کنند.

۶- پرسش های جغرافیایی با چه کلماتی آغاز می شود؟ پرسش های جغرافیایی با کلماتی مانند کجا؟ چرا؟ چگونه؟ چه موقع؟ و چه کسری؟ آغاز می شود.

۷- چه وسایلی به شناخت محیط زندگی کمک می کنند؟ (جغرافی دانان از چه ابزار و وسایلی برای شناخت محیط استفاده می کنند؟ نقشه - کره جغرافیایی - عکس های جغرافیایی - کتاب ها و فرهنگ نامه های جغرافیایی - رایانه و اینترنت)

۸- چرا نقشه وسیله ی مهمی در جغرافیا است؟ زیرا از طریق آن اطلاعات زیادی به دست می آوریم. نقشه ها محل دقیق پدیده های طبیعی مانند کوه، رود، جنگل، و پدیده های انسانی مثل راه ها، پل ها، سدها و را نشان می دهند.

۹- چند مورد از انواع نقشه ها را نام ببرید؟ نقشه ی ناهمواری ها، نقشه ی تقسیمات کشوری (استان ها)، نقشه راه ها، نقشه ی گردشگری و اطلس ها.

۱۰- نقشه را تعریف کنید؟ نقشه، تصویری از سطح زمین است که به نسبت مورد نیاز کوچک شده است.

۱۱- مقیاس خطی چیست و چه کمکی به ما می کند؟ در زیر هر نقشه، شما خطی مشاهده می کنید که به آن مقیاس خطی می گویند و با استفاده از آن می توانید فاصله ی واقعی مکان ها را روی زمین محاسبه کنید.

۱۲- فاصله ی میدان فلسطین تا میدان انقلاب بر روی نقشه ۵ سانتی متر است، اگر ۱ سانتی متر این نقشه برابر با ۲۰۰ متر باشد

۱ cm	۲۰۰m
۵	

فاصله ی این دو مکان چقدر است؟

$$X = \frac{200 \times 5}{1} = \frac{1000}{1} = 1000 \text{ متر}$$

۱۳- انواع عکس های جغرافیایی را نام ببرید و هر یک را توضیح دهید؟

۱- عکس های معمولی: که با دوربین از مناظر طبیعی، شهرها خانه ها و فعالیت های انسانی گرفته می شود.

۲- عکس های هوایی: برای تهیه نقشه های جغرافیایی استفاده می شود. این عکس ها با دوربین هایی که در هواپیما نصب شده گرفته میشود

۳- تصاویر ماهواره ای: توسط ماهواره ها تهیه و به زمین فرستاده می شود. از این تصاویر نیز اطلاعات زیادی در باره مکانها به دست می آوری

۱۴- کره ی جغرافیایی چیست؟ کره ی جغرافیایی نمونه کوچکی از کره ی زمین است که می توان شکل واقعی بخش های مختلف سیاره ی زمین را روی آن مشاهده کرد.

۱۵- از کتاب ها و فرهنگ نامه های جغرافیایی چه اطلاعاتی می توان به دست آورد؟ با مطالعه ی آنها می توانیم با مکان های مختلف و شیوه های زندگی مردم در این مکان آشنا شویم.

۱۶- امروزه از طریق وارد شدن به پایگاه های اینترنتی اطلاعات را به چه صورت می توان به دست آورد؟ می توان اطلاعات را به صورت متن، تصویر، نقشه و حتی فیلم به دست آورد.

*- در زیر هر نقشه شما خطی مشاهده می کنید که به آن می گویند. (مقیاس خطی)

*- از عکس های برای تهیه نقشه های جغرافیایی استفاده می شود. (هوایی)

*- عکس های با دوربین هایی که در هواپیما نصب شده گرفته می شود. (هوایی)

مجموعه سوال و جواب کتاب مطالعات اجتماعی هفتم - متوسطه اول - تهیه کننده: علیرضا اسماعیلی	درس ۵ (ایران، خانه ی ما)
---	--------------------------

۱- کشور ما ایران چقدر وسعت دارد؟ کشور ما ۱۶۴۸۱۹۵ کیلومتر مربع وسعت دارد.

۲- در سال ۱۳۹۰ جمعیت کشور ما چقدر بود؟ در سال ۱۳۹۰ کشور ما ۷۵ میلیون نفر جمعیت و و پیش از ۱۳۰۰ شهر و ۵۰۰۰۰ روستا داشته است

۳- زندگی مردم کشور به چند صورت است؟ (۱- شهرنشین ۲- روستا نشین ۳- عشایر

۴- استان چیست؟ برای اداره ی بهتر کشور، آن را به بخش هایی تقسیم کرده اند که به آن استان می گویند.

۵- شهرداری چگونه موسسه ای است؟ شهرداری موسسه ای است که برای اداره ی بهتر شهر به وجود آمده و خدماتی به ساکنان شهر ارائه می کند

۶- مهم ترین خدمات شهرداری را بنویسید؟ (۱- احداث و تعمیر یا آسفالت خیابان ها، پل ها، تونل ها و پیاده روها برای رفت و آمد بهتر شهرنشینان ۲- ایجاد فضای سبز و کاشتن درخت و نهال در مکان های مختلف شهر و احداث بوستان و زمین بازی کودکان ۳- نظافت کوچه ها

و خیابان ها و جمع آوری و دفع زباله ها ۴- نظارت بر ساخت و سازها ۵- ایجاد فرهنگ سراها و خانه های سلامت برای اوقات فراغت مردم

۶- نظارت بر حمل و نقل عمومی (اتوبوس، تاکسی، مترو) برای رفت و آمد مردم.

۷- نظارت بر ساخت و سازها یعنی چه؟ یعنی اگر افراد بخواهند ساختمانی برای محل سکونت یا کسب و کار خود بسازند باید از شهرداری پروانه ساختمان بگیرند.

۸- شهرداری برای ارائه ی خدمات خود به مردم هزینه های لازم را چگونه تأمین می کند؟ شهرداری بخشی از درآمد خود را از

مردم دریافت می کند. برای مثال شهرنشینان باید هر سال مبلغی به عنوان عوارض نوسازی به شهرداری بپردازند.

۹- روستاها چگونه اداره می شوند؟ در روستاها، شورای اسلامی روستا وجود دارد. رئیس سفیدان و افراد با تجربه و مورد اعتماد روستا دور هم جمع می شوند و برای بهتر شدن وضع روستای خودشان، اقداماتی از قبیل ساختن یا تعمیر حمام، پل، و مدرسه، مسجد، قنات و امور دیگر تصمیم گیری می کنند.

۱۰- نواحی مرتفع و بلند قسمت شمالی ایران کدامند؟ ۱- کوه های آذربایجان در شمال غربی ایران ۲- رشته کوه البرز در شمال ایران ۳- کوه های خراسان در شمال شرقی ایران.

۱۱- قله های آتشفشانی کوه های آذربایجان کدامند؟ سهند و سبلان

۱۲- قله های مهم رشته کوه البرز کدامند؟ دماوند - توچال - علم کوه.

۱۳- دامنه های شمالی رشته کوه البرز را با دامنه های جنوبی مقایسه کنید؟ در دامنه های شمالی رشته کوه البرز که رو به دریا قرار دارد، پرف و باران فراوان می بارد. این دامنه ها پوشیده از جنگل های انبوه است. به عکس دامنه های جنوبی البرز بدون رطوبت مانده و فقط در فصل زمستان پرف و باران دریافت می کند و در نتیجه پوشش گیاهی کمتری دارند.

۱۴- رشته کوه زاگرس در کدام سمت قرار دارد؟ رشته کوه زاگرس در غرب ایران کشیده شده و جهت آن شمال غربی - جنوب شرقی (↘) است

۱۵- دامنه های شمالی غربی زاگرس را با دامنه های جنوبی مقایسه کنید؟ در دامنه های شمال غربی پرف و باران فراوانی می بارد اما هرچه به سمت جنوب زاگرس پیش می رویم از میزان پرف و باران کاسته می شود.

۱۶- قله های بلند زاگرس کدامند؟ زردکوه - دنا - الوند.

۱۷- قله های بلند در نواحی مرکزی ایران را نام ببرید؟ کرکس - شیرکوه - هزار - لاله زار.

۱۸- دو دشت وسیع ایران کدامند؟ دشت کویر - دشت لوت.

۱۹- چرا برخی از دشت های ایران حاصلخیزند؟ به دلیل داشتن خاک مساعد و آب و هوای مناسب.

۲۰- کوهپایه چیست؟ یعنی زمین هایی که از یکسو به کوه ها و از سوی دیگر به دشت ها مربوط می شود.

۲۱- ایران در کدام قسمت کره ی زمین واقع شده است؟ در جنوب غربی آسیا

*- استان به وسیله ی اداره می شود. (استانداری)

*- هر استان به چند تقسیم می شود. (شهرستان)

*- اگر افراد بخواهند ساختمانی برای سکونت یا کسب و کار بسازند باید از شهرداری بگیرند. (پروانه ساختمان)

*- همه جای ایران از نظر پستی و بلندی یکسان (نیست)

*- رشته کوه البرز مانند دیواری دریای را از قسمت های کشور جدا می کند. (خزر - داخلی)

*- نواحی پست و هموار ایران شامل و است. (دشت ها و جلگه ها)

*- جلگه ها زمین های حاصلخیز و مناسبی برای هستند. (کشاورزی)

درس ۱۱ (تنوع زیستگاه های ایران)

مجموعه سوال و جواب کتاب مطالعات اجتماعی هفتم - متوسطه اول - تهیه کننده: علیرضا اسماعیلی

۱- زیستگاه (زیست بوم) را تعریف کنید؟ به منطقه ی پزرگی که در آن مجموعه ای از گیاهان و جانوران خاص زندگی می کنند زیستگاه (زیست بوم) می گویند.

۲- در ایستگاه های هواشناسی چه چیزهایی را اندازه گیری می کنند؟ عناصر مختلف مثل دمای هوا، میزان بارندگی، میزان رطوبت، جهت وزش باد و سرعت وزش باد را اندازه گیری می کنند.

۳- کارشناسان، آب و هوای یک منطقه را چگونه تشخیص می دهند؟ با اندازه گیری میزان دما و بارش یک مکان، در طی ماه و سال می توان پی برد که آب و هوای آنجا چگونه است.

۴- دو نمونه از نمودارهای آب و هوایی را نام ببرید؟ ۱- نمودار خطی ۲- نمودار ستونی

- ۵- به طور کلی ایران را می توان به چند ناحیه آب و هوایی تقسیم کرد. نام ببرید ؟ (۱- ناحیه معتدل و مرطوب خزری ۲- ناحیه معتدل و نیمه خشک کوهستانی ۳- ناحیه گرم و خشک داخلی ۴- ناحیه گرم و شرجی سواحل جنوب)
- ۶- ناحیه ی معتدل و مرطوب خزری چه ویژگی هایی دارد ؟ (۱- در کنار دریای خزر پهن کوه های البرز و دریا واقع شده است ۲- در تمام ماه های سال بارندگی دارد ۳- مرطوب ترین ناحیه آب و هوایی ایران به شمار می رود ۴- میزان بارندگی از غرب به شرق این ناحیه کاهش می یابد ۵- تابستان ها و زمستان های معتدل دارد .)
- ۷- در ناحیه خزری برای کشت محصولات از چه چیز استفاده می کنند؟ برای کشت پیشتر محصولات از آب باران (دیم) استفاده می شود و فقط برخی از محصولات مانند پرنج به آبیاری نیاز دارد .
- ۸- ناحیه ی معتدل و نیمه خشک کوهستانی چه ویژگی هایی دارد ؟ (۱- کوهستان های مرتفع ایران و کوهپایه های اطراف آنها را در بر می گیرد ۲- در برخی ارتفاعات هنگام زمستان برف زیادی می بارد و یخبندان های شدید به وجود می آید ۳- زمستان های سرد و تابستان های معتدل دارد ۴- این ناحیه با اینکه تقریباً ۹ ماه از سال باران دارد، در تابستان ها خشک است ۵- به دلیل بارش کافی در طی سال، کشاورزان می توانند زراعت دیم داشته باشند ۶- در ارتفاعات این ناحیه چنگل ها و مراتعی سرسبز رویداده است .)
- ۹- ناحیه ی گرم و خشک داخلی شامل کدام نواحی است؟ این ناحیه که شامل نواحی مرکزی ایران است تابستان های گرم و خشک دارد .
- ۱۰- خشکی ناحیه ی گرم و خشک داخلی به چه دلیل است ؟ به دلیل آن است که فقط در چند ماه از سال، آن هم به مقدار کم باران می بارد . در بعضی از بخش های این ناحیه، بیابان هایی به وجود آمده است که ممکن است سال ها در آنجا باران نباریده باشد مانند بیابان لوت
- ۱۱- در ناحیه ی خشک داخلی ایران اختلاف دمای شب و روز چگونه است ؟ اختلاف دمای شب و روز زیاد است و تابستان ها هوا بسیار گرم می شود .
- ۱۲- پوشش گیاهی ناحیه گرم و خشک داخلی ایران چگونه است ؟ این ناحیه از نظر پوشش گیاهی فقیر است و تنها گیاهان خشکی پسند مانند درختان تاغ و گز و بوته های خاردار در آنجا قادر به رشد و نمو هستند .
- ۱۳- ناحیه ی گرم و شرجی سواحل جنوب از کجا تا کجا کشیده شده است و آب و هوای آن چگونه است ؟ این ناحیه در کناره های خلیج فارس و دریای عمان، از جلگه خوزستان تا پندر چابهار کشیده شده است . به طور کلی مناطق جنوبی ایران تابستان های بسیار گرم و زمستان های ملایم دارد .
- ۱۴- چرا ناحیه ی ساحلی جنوب ایران، جزء نواحی خشک است ؟ زیرا میزان بارندگی در این ناحیه بسیار کم است . اما چون به دلیل وجود دریا و تبخیر آب های آن نم هوا زیاد است، حالت شرجی به وجود می آید .
- *- یکی از مهم ترین عواملی که موجب گوناگونی یا تنوع زیستگاه ها در کشور ما شده است در کشور ماست. (تنوع آب و هوایی)
- *- مهم ترین عناصر آب و هوا و است . (دما و بارش)
- *- میزان دما و بارش را به صورت نشان می دهیم . (نمودار)
- *- میزان دمای هوای یک ناحیه را با نمودار و با رنگ نشان می دهند . (خطی - قمری)
- *- میزان بارش یک ناحیه را با نمودار و به رنگ نشان می دهند . (ستونی - آبی)

- ۱- چه عاملی موجب شده که ایران تنوع زیادی در گونه های گیاهی و جانوری داشته باشد ؟ شرایط جغرافیایی .
- ۲- مهم ترین عامل که موجب از بین رفتن یا در معرض خطر قرار گرفتن برخی از گونه های گیاهی و جانوری شده چیست؟ فعالیت های نادرست انسان
- ۳- ما در بهره برداری از طبیعت و رفع نیازهای خودمان چگونه باید عمل کنیم؟ باید طوری برنامه ریزی و فکر کنیم که کمترین آسیب به محیط زیست وارد شود .
- ۴- نابود شدن درختان جنگل چه نتایجی دارد ؟ وقتی درختان جنگلی در یک ناحیه ناپود می شوند، جانورانی نیز که غذایشان را در این چنگل ها به دست می آورند، از بین می روند و تعادل طبیعت به هم می خورد .

- ۵- چرا زیستگاه‌ها تخریب می‌شوند؟ ۱- فعالیت‌های نادرست انسان ۲- از بین بردن جنگل‌ها و مراتع بدون برنامه‌ریزی و تفکر ۳- شکار بیش از حد و صید بی‌رویه جانوران ۴- تولید زباله توسط انسان ۵- فعالیت‌های کارخانه‌ای و حمل و نقل و تولید مواد سمی
- ۶- شکار بیش از حد و صید بی‌رویه جانوران چه پیامدی به دنبال دارد؟ شکار بیش از حد و صید بی‌رویه باعث کاهش بعضی گونه‌های جانوری شده است. وقتی شکارچیان برای تغذیه یا استفاده (از پوست، شاخ‌ها و استخوان‌های حیواناتی مثل گورخر، آهو یا پرندگان را در یک دشت محاصره و به آنها حمله می‌کنند به تدریج نسل اینگونه رو به کاهش می‌گذارد یا در خطر انقراض قرار می‌گیرد.
- ۷- افزایش جمعیت چه نتایجی برای محیط زیست دارد؟ هرچه جمعیت بیشتر می‌شود، فعالیت‌های کارخانه‌ای و حمل و نقل و تولید مواد سمی هم بیشتر می‌شود. گازهای سمی که از اتومبیل‌ها یا کارخانه‌ها به هوا و آب وارد می‌شوند یا سم‌هایی که در آفت‌کش‌های کشاورزی وجود دارد، اثرات پدی بر زندگی گیاهان و جانوران دارند.
- ۸- مهم‌ترین دلایل حفاظت از زیستگاه‌ها را نام ببرید؟ ۱- سپاسگزاری از نعمت‌های خداوند ۲- لذت بردن از زیبایی‌ها و تفکر در آفرینش ۳- حق حیات ۴- وابستگی موجودات زنده به یکدیگر ۵- فواید گیاهان و جانوران
- ۹- یکی از راه‌های شکب‌گزاری از نعمت‌های الهی چیست؟ این است که رابطه‌ی درست و صحیح با طبیعت داشته باشیم.
- ۱۰- آیا انسان تنها موجودی است که حق حیات دارد؟ توضیح دهید؟ خیر- انسان تنها موجود زنده‌ی روی زمین نیست، بلکه سایر موجودات زنده نیز حق حیات دارند و مثل انسان، مخلوق خداوند هستند.
- ۱۱- انسان‌ها تا چه حدی می‌توانند از طبیعت استفاده کنند؟ انسان‌ها می‌توانند فقط در حدی که نیازهایشان را برآورده کنند، از طبیعت بهره‌برداری کنند و حق ندارند به دلیل زیاده‌روی در مصرف یا سودجویی، گونه‌ها را نابود کنند.
- ۱۲- وقتی برخی گونه‌های یک زیستگاه نابود می‌شود چه مشکلی ایجاد می‌شود؟ غذای برخی گونه‌های دیگر کم می‌شود و آن گونه نیز شروع به کاهش می‌کند، در نتیجه تعادل زندگی در آنجا به هم می‌خورد.
- ۱۳- گیاهان و جانوران چه فوایدی برای انسان دارند؟ بعضی از جانوران و گیاهان منابع غذایی برای انسان هستند. بعضی از گیاهان خاصیت دارویی دارند و برای درمان بیماری‌ها استفاده می‌شوند.
- ۱۴- مهم‌ترین وظیفه‌ی سازمان حفاظت از محیط زیست چیست؟ مراقبت از زیستگاه‌های طبیعی کشور و جلوگیری از تخریب و آلودگی آنها است.
- ۱۵- وظایف محیط بان‌ها چیست؟ محیط بان‌ها مسئول اجرای قوانین و مقررات محیط زیست در یک منطقه هستند- محیط بان‌ها از منطقه‌ی تحت نظارت خود، بازدید می‌کنند و کلیه رویدادها یا فعالیت‌هایی را که موجب تخریب محیط زیست می‌شوند را شناسایی می‌کنند.
- ۱۶- محیط بان‌ها چه مواردی را به سازمان حفاظت از محیط زیست گزارش می‌دهند؟ آنها ممکن است قطع درختان، پوته‌کشی، شکله غیرقانونی، روشن کردن آتش، آلودگی‌های محیط زیستی یا سیل و طغیان رودخانه را در یک مکان مشاهده کنند و به سازمان گزارش دهند.
- ۱۷- بعضی از کارهایی که شما می‌توانید برای حفاظت از محیط زیست انجام دهید را نام ببرید؟ (۴ مورد) ۱- هرگز گل‌ها را نچینید. گل‌های وحشی را در مسیر راه‌ها و چاده‌ها لگد مال نکنید ۲- در محل زندگی خودتان درخت و گل بکارید تا زیستگاه طبیعی کوچکی برای حیوانات درست کنید ۳- ته مانده‌ی سفره را با حفظ نظافت در گوشه‌ای از بالکن یا باغچه بپریم تا به تغذیه‌ی پرندگان کمک کرده باشیم ۴- تصمیم بگیریم حیوانات خشک شده یا وسایل تزئینی که از اعضای بدن حیوانات درست شده (مثل عاج فیل) نخریم.
- ۱۸- منطقه‌ی حفاظت شده به چه مناطقی گفته می‌شود؟ سازمان حفاظت محیط زیست، برخی از مناطق کشور را که در آنجا حفظ و تکثیر نسل جانوران یا گیاهان اهمیت خاصی دارد، به عنوان منطقه‌ی حفاظت شده اعلام می‌کند. این منطقه ممکن است جنگل یا مرتع یا دشت و کوهستان باشد.
- ۱۹- مناطق حفاظت شده‌ی کشور ما کدامند؟ منطقه‌ی جنگل‌های حرا در آب‌های خلیج فارس و دشت ارژن در فارس و اشترانکوه در لرستان.
- ۲۰- در منطقه‌ی حفاظت شده چه مقرراتی وجود دارد؟ شکار و صید یا قطع درختان و از بین بردن گیاهان در این منطقه ممنوع است.

*- تاکنون حدود (۹۰۰۰ - ۶۰۰۰)

گونه‌های گیاهی و حدود گونه‌های حشرات تخمین زده اند .

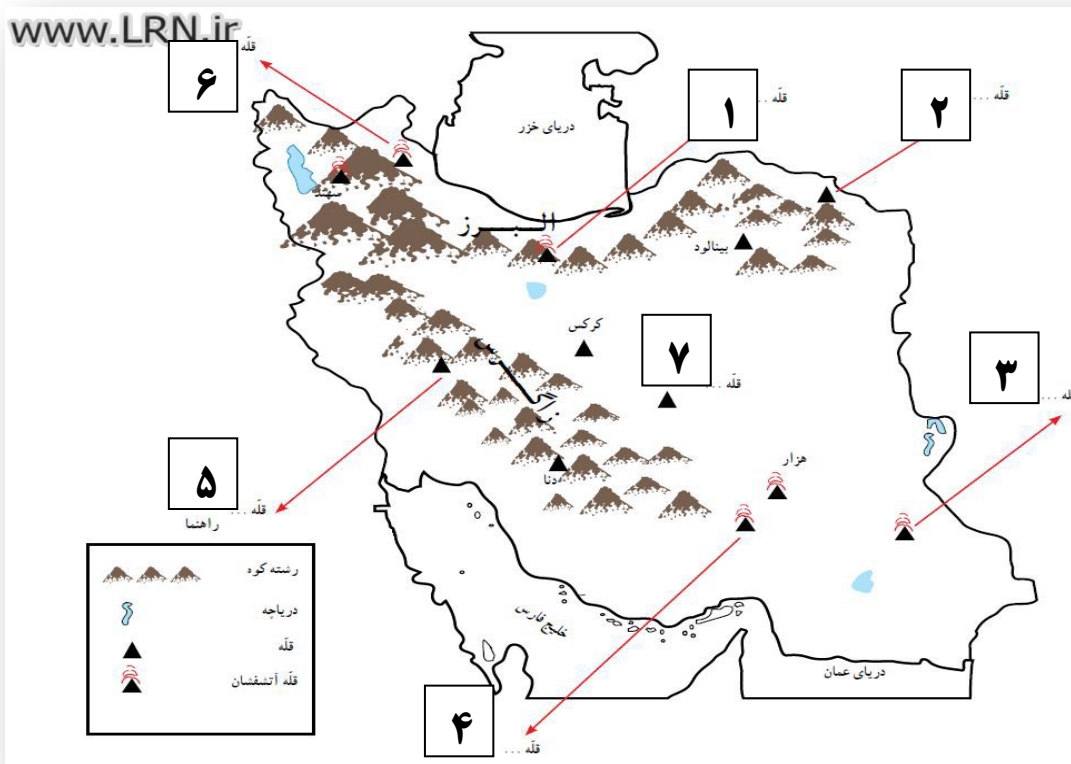
(زباله)

*- یکی از چیزهایی که حیات زیستگاه‌ها را تهدید می‌کند ، است .

(محیط پائی)

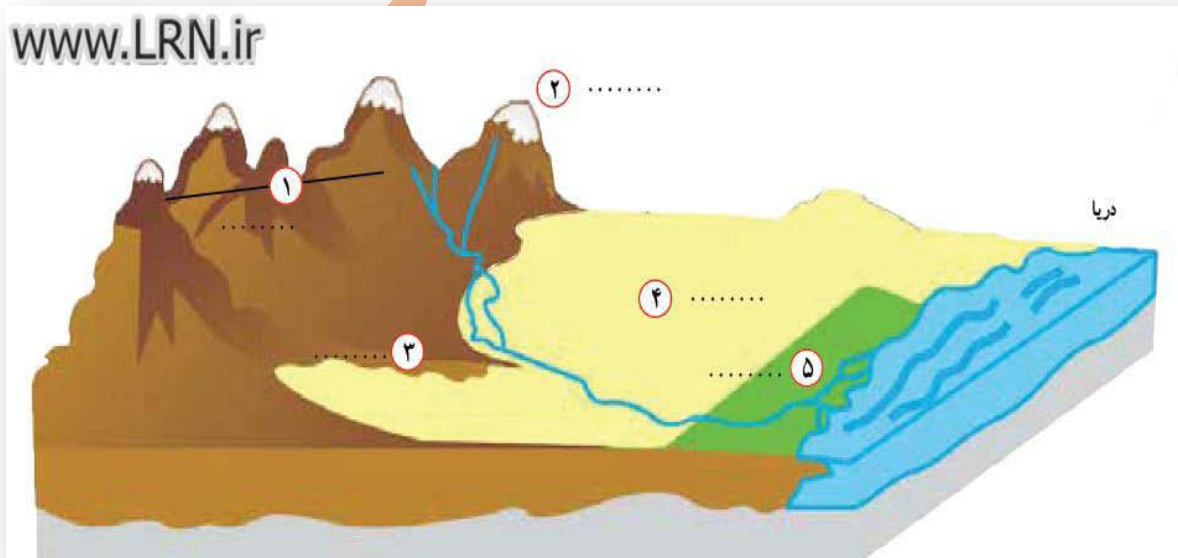
*- یکی از مشاغل مهم در سازمان حفاظت محیط زیست است .

در روی نقشه نام قله هایی که نوشته شده است را بنویسید.



۱- دماوند ۲- هزارمسجد ۳- تققان ۴- لاله زار ۵- زردکوه ۶- سپلان ۷- شیرکوه

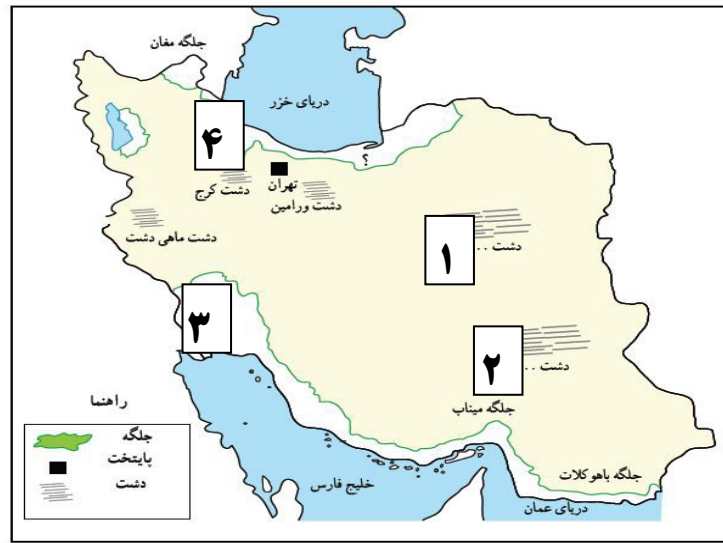
روی مدل ، کنار شماره ها کلمه جلگه ، دشت ، کوهپایه ، قله و رشته کوه را بنویسید.



۱- رشته کوه ۲- قله ۳- کوهپایه ۴- دشت ۵- جلگه

نام جلگه ها و دشت هایی را که روی نقشه نوشته نشده است بنویسید

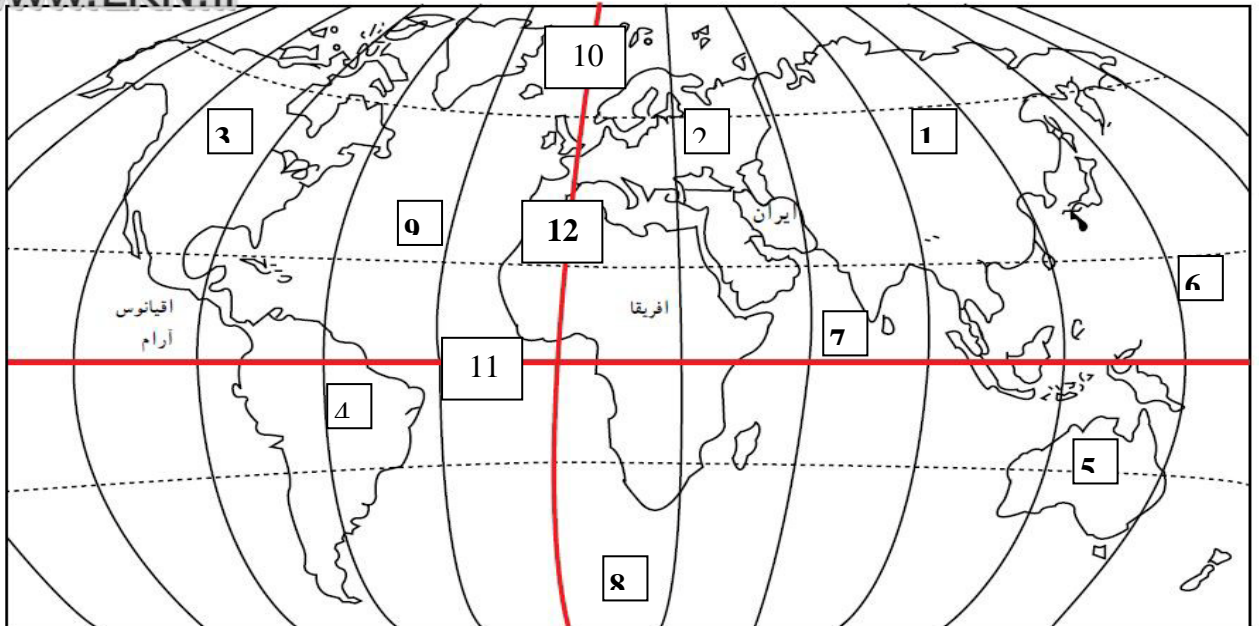
www.LRN.ir



۱- دشت کویر ۲- دشت لوت ۳- جلگه خوزستان ۴- جلگه کیلان

بر روی نقشه زیر نام قاره ها، اقیانوس ها، خط استوا و نام نصف النهار مبدأ را بر اساس شماره ها مشخص کنید

www.LRN.ir



۱- قاره آسیا ۲- قاره اروپا ۳- قاره آمریکای شمالی ۴- قاره آمریکای جنوبی ۵- قاره استرالیا

۶- اقیانوس آرام ۷- اقیانوس هند ۸- اقیانوس منجمد جنوبی ۹- اقیانوس اطلس ۱۰- اقیانوس منجمد شمالی

۱۱- نصف النهار مبدأ ۱۲- خط استوا

علیرضا اسماعیلی ۹۵-۹۴