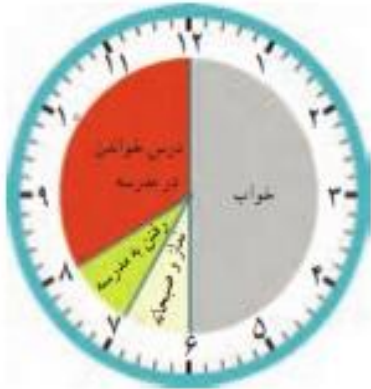


ساعت در بعد از ظهر

فعالیت



کارهایی که علی در یک شبانه روز انجام داده است، روی ساعت‌های زیر مشخص شده‌اند.



قبل از ظهر



بعد از ظهر

با توجه به این ساعت‌ها به سؤال‌های زیر پاسخ دهید.

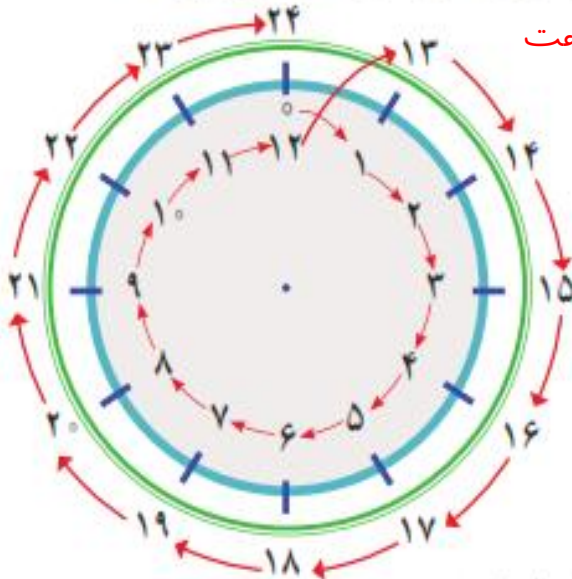
علی در مجموع چند ساعت خوابیده است؟ **۸ ساعت** $6 + 2 = 8$

علی در مدرسه چند ساعت درس خوانده است؟ **۵ ساعت** $1 + 4 = 5$

چند ساعت در راه مدرسه یا خانه بوده است؟ **۲ ساعت** $1 + 1 = 2$

در مجموع، او چند ساعت به نماز خواندن، خوردن، استراحت و تماشای تلویزیون پرداخته است؟ **۵ ساعت**
 $1 + 1 + 1 + 2 = 5$

یک شبانه‌روز چند ساعت است؟ **۲۴ ساعت**



با توجه به تصاویر بالا به سؤال‌های زیر پاسخ دهید.

علی چه ساعتی به خانه رسیده است؟ **۳** بعدازظهر یا **۱۵**

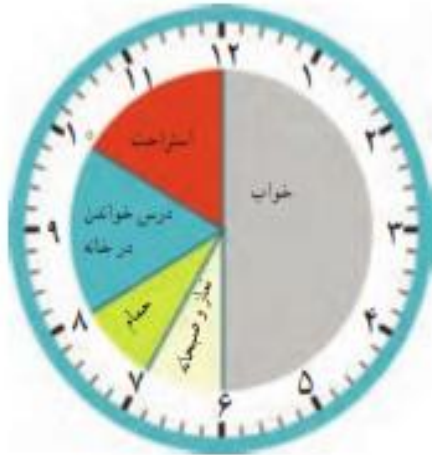
علی درس خواندن در خانه را چه ساعتی شروع کرده است؟ **۴** بعدازظهر یا **۱۶**

علی چه ساعتی به خواب رفته است؟ **۱۰** بعدازظهر یا **۲۲**

کار در کلاس



زهرای کارهای خود را در روز جمعه (یک شبانه روز) به صورت زیر نشان داده است. عددهای مناسب برای ساعت‌های بعدازظهر را بنویسید و شکل را کامل کنید.



قبل از ظهر



بعد از ظهر

حالا به سؤال‌های زیر پاسخ دهید.

زهرای در مجموع چند ساعت در خانه درس خوانده است؟ **۴ ساعت**

زهرای چه ساعتی به مهمانی رسیده است؟ **۴** بعدازظهر یا **۱۶**

زهرای چه ساعتی از مهمانی برگشته و به خانه رسیده است؟ **۹** بعدازظهر یا **۲۱**

شما هم چند سؤال مثل سؤال‌های بالا برای دوست خود طرح کنید و او به آن‌ها جواب دهد. سپس او سؤال کند و شما جواب دهید.

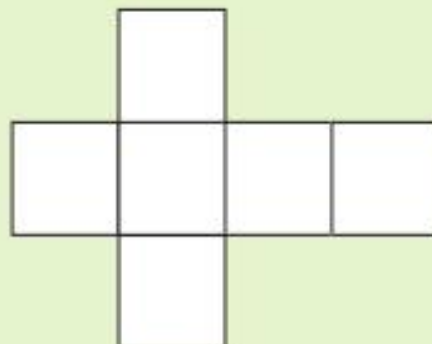
$$۶ + ۲ = ۸$$

زهرای در مجموع چند ساعت خوابیده است؟ **۸ ساعت**

زهرای در مجموع چند ساعت مشغول نماز خواندن و غذا خوردن بوده است؟ تقریباً **۳ ساعت** $۱ + ۱ + ۱ = ۳$

کاردستی بساز

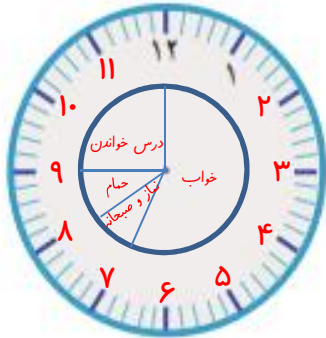
در اینجا شکل باز شده‌ی یک مکعب را می‌بینید. شبیه این شکل را روی کاغذ بکشید و دورش را با قیچی ببرید. کاغذ را از روی لبه‌ها تا کنید تا یک مکعب ساخته شود. مکعب خود را به کلاس ببرید و با آویزان کردن آن در کنار مکعب‌های دیگران، به آموزگارتان در تریب کلاس کمک کنید.



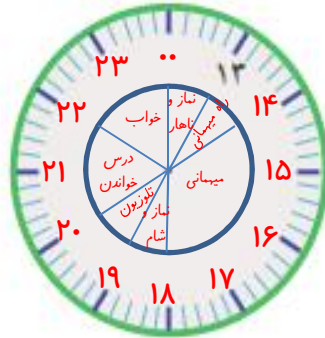
تمرین



۱- کارهایی را که در یک روز پنجشنبه انجام داده‌اید، روی ساعت‌های زیر مشخص کنید. ابتدا ساعت‌ها را کامل کنید.



قبل از ظهر



بعد از ظهر


۲- نوارهای رنگی مربوط به ساعت‌های قبل از ظهر و بعد از ظهر (کار در کلاس) را بریده‌ایم و روی یک خط به‌دنبال هم چسبانده‌ایم. با رنگ کردن، کارهای زهرا را در روز جمعه مشخص کنید.



- ۳- برنامه‌ی کودک تلویزیون ساعت ۱۶ بخش می‌شود. زمان شروع این برنامه چند ساعت بعد از ظهر است؟ **۱۰ شب**
 $22 - 12 = 10$
- ۴- اتوبوسی ساعت ۷ صبح از تهران به سوی تبریز حرکت کرد و بعد از ۱۰ ساعت به تبریز رسید. این اتوبوس چه زمانی به تبریز رسیده است؟ به دو صورت بیان کنید. ساعت **۱۷ یا ۵ بعد از ظهر**
 $7 + 10 = 17$


بشمار و بساز

هر شکل از چند مکعب کوچک درست شده است؟ با استفاده از مکعب‌های جینه آن‌ها را بسازید.



$$9 + 9 + 9 = 27$$

۹، ۱۸، ۲۷



$$2 + 2 + 2 + 1 = 7$$

۳، ۵، ۷

$$5 + 2 = 7$$



$$4 + 4 = 8$$

۴، ۸