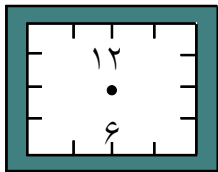
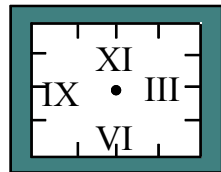


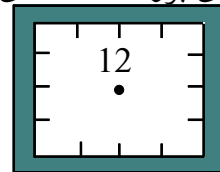
۱- ساعت‌های ۵ و ۱۵ دقیقه (۵ و ربع) و ۷ و ۱۵ دقیقه (۷ و ربع) و ساعت ۱۲ و ۱۵ دقیقه (۱۲ و ربع) را روی شکل نشان بده.



۲- ساعت ۴ است. یک ساعت و ربع دیگر ساعت چند است؟ روی شکل نشان بده. ساعت ۱۰ ربع را هم روی شکل نشان بده.




یک ربع مانده  
به ۳




یک ربع مانده به  
۱۱

۳- با کشیدن عقربه‌های بزرگ ساعت‌های زیر را نشان بده.


۴- زمانی را که هر ساعت نشان می‌دهد به دو صورت بنویس. (مانند نمونه)



یک و  
ربع  
-




.....  
.....



.....  
.....





ب



.....  
.....

الف

۵- زمانهای زیر را روی هر ساعت نشان بده.



ساعت نیم ساعت مانده به ۸ ساعت یک ربع مانده به ۶

ساعت ۴ و نیم ساعت یک ربع بعد از ۹

۶- به سوالات زیر پاسخ بده.

الف) ۱۰ دقیقه بعد از ساعت  $15^{\circ}$  : ۵ چه ساعتی است؟

ب) ۵ دقیقه بعد از ساعت  $20^{\circ}$  : ۱۰ چه ساعتی است؟

ج) ۱۵ دقیقه بعد از ساعت  $15^{\circ}$  : ۱ چه ساعتی است؟

د) ۲۰ دقیقه بعد از ساعت  $10^{\circ}$  : ۹ چه ساعتی است؟

۷- به سوالات زیر پاسخ بده.

۱- نیم ساعت بعد از ساعت  $30^{\circ}$  : ۴ چه ساعتی است؟

۲- یک ربع بعد از ساعت  $30^{\circ}$  : ۷ چه ساعتی است؟

۳- نیم ساعت بعد از ساعت  $15^{\circ}$  : ۹ شب چه ساعتی است؟

۴- یک ربع بعد از ساعت  $40^{\circ}$  : ۱۱ شب چه ساعتی است؟

۸- یک ربع ساعت برابر با چند دقیقه است؟