
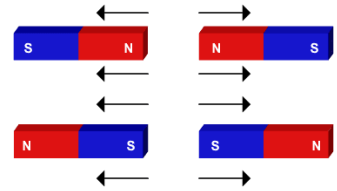


نام:

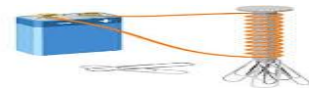
نام خانوادگی:



۱- درباره شکل توضیح دهید.



۲- در تصویر چه نوع آهن ربایی می بینید؟



۳- قطب آهن ربا را تعریف کنید؟

۴- آهن ربا چیست؟

۵- روش های ساخت آهن ربا را نام ببرید؟

۶- قطب نما چیست؟

۷- فواید باز یافت زباله های فلزی را بنویسید؟