

هزارگان	صدگان	دهگان	یکان

۱- با توجه به شکل در جای خالی عدد یا کلمه مناسب بنویس.
 به عدد:
 به حرف:

۲- علی می خواهد کتابی را که ۱۲۰ صفحه دارد بخواند. اگر او روزی ۲۰ صفحه از کتابش را بخواند، مطالعه ی کتاب چند روز طول می کشد؟

۳- الگوی عددی زیر را ادامه بده.

..... - - - ۱۲۰۰ - ۱۲۵۰ - ۱۳۰۰
 ۱ - ۳ - ۶ - ۱۰ - - -
 - - - ۷۳۰۰ - ۸۳۰۰ - ۹۳۰۰
 ۲۰۰ - ۲۵۰ - ۳۰۰ - - -

۴- جدول زیر را کامل کن.

زمان	۷:۲۳		۲:۱۵
بعد از ظهر		۲۳:۲۵	



ریال	۵۰۰۰		۳۰۷۰
تومان		۶۰۵	

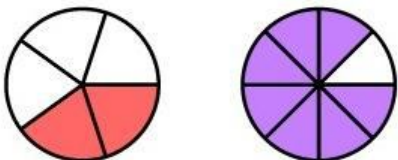
۵- عددهای داخل مستطیل به کدام عدد نزدیکتر است؟ علامت بزن.

۲۰۰۰
۲۳۵۸
۳۰۰۰
۲
 $\frac{1}{3}$ واحد بعد از عدد ۲
۳
۸۰۰۰
۸۹۵۰
۹۰۰۰

۶- در جای خالی، عدد مناسب بنویس.

الف) ۵۷۸ سانتی متر = متر و سانتی متر
 ب) ۴۸۰۰ متر = کیلومتر و متر
 ج) ۹۰۰۰ گرم = کیلوگرم
 د) ۳ کیلوگرم و ۲۴۰ گرم = گرم


۷- برای شکل ها کسر مناسب بنویس و برای کرها شکل مناسب بکش.



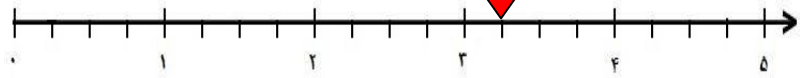
$\frac{3}{8}$

$\frac{1}{5}$

۸- جاهای خالی را با عدد مناسب و شکل‌ها را با رنگ کردن کامل کنید.



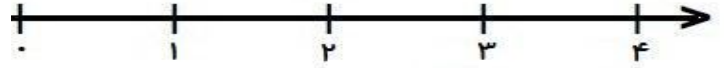
..... واحد و واحد . واحد



..... واحد و واحد



۲ واحد و $\frac{۴}{۶}$ واحد



$\frac{۲}{۳}$ واحد بعد از عدد ۳

۹- برای شکل زیر دو ضرب و دو تقسیم بنویس.



..... × =

..... × =

..... - =

..... - =

۱۰- در جاهای خالی عدد مناسب بنویس.

$(۵ + ۳) \times (۱ + ۵) = \dots \times \dots = \dots$

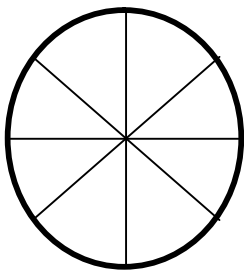
$(۶ \times ۴) - (۲ \times ۷) = \dots - \dots = \dots$

$(۲ \times ۳) + (۸ \times ۵) = \dots + \dots = \dots$

۱۱- در شکل‌های مقابل زاویه راست را رنگ کن.



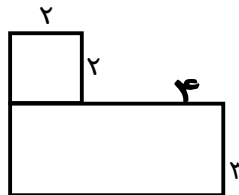
۱۲- تعداد دانش آموزان در یک آموزشگاه ۲۵ دختر و ۱۵ پسر است. در نمودار دایره‌ای نشان بده.



۱۳- محیط و مساحت شکل‌های زیر را بدست بیاور.

محیط =

مساحت =



۱۴- جمع و تفریق های زیر را به روش های تعیین شده بدست آور .

فرایندی		انتقالی	
$\begin{array}{r} 6342 \\ + 2307 \\ \hline \end{array}$	$\begin{array}{r} 6865 \\ - 2532 \\ \hline \end{array}$	$\begin{array}{r} 6238 \\ + 1891 \\ \hline \end{array}$	$\begin{array}{r} 7562 \\ - 3793 \\ \hline \end{array}$

۱۵- سحر به میوه فروشی رفته . او از میوه های موز ، سیب و پرتقال هر کدام یک کیلو خرید . او ۹۰۰۰ تومان به فروشنده داد . با توجه به قیمت میوه ها او چقدر پول داده است ؟ فروشنده باید چقدر به او برگرداند ؟
 موز : ۳۱۰۰ تومان - سیب : ۲۷۵۰ تومان - پرتقال : ۲۷۰۰ تومان



پیزوز و سزبلنی باشین