



سوالات

ردیف

۱- جاهای خالی را پر کنید .

- عدد ۲۷۰۰۰۰۰۰ از تا صد هزار تایی تشکیل شده است

- عدد ۹۹۷۰۰۰۲۶۰۰۹ با تقریب یک میلیارد می شود

- مجموعه زاویه های داخلی یک مثلث است

- هر دو نسبت مساوی را می گویند

- حاصل ضرب عدد ۳ در معکوس آن برابر است با

حاصل عبارت های زیر را بنویسید. و درجایی که نیاز است ساده کنید .

$$۶۳۰۴۰ \times ۵۰۰ =$$

$$(۹۴۰۰۰ \div ۴۰) + (۱۵۰۰ \div ۳۰) =$$

$$۹۲۰'۳۹$$

$$- ۲۴۵'۵۰$$

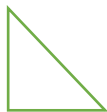
$$\frac{۴۴ \times ۱۸}{۲۲ \times ۶ \times ۱۵} =$$

به الگوی زیر دقت کنید و اگر شکل پنجم از ۱۵ خانه تشکیل شده باشد شکل ششم چند خانه دارد.



- شکل دهم از چند مربع تشکیل می شود

هر کدام از شکل های زیر چند خط تقارن دارد . رسم کنید



جاهای خالی را کامل کنید و نسبت های مساوی بنویسید.

$$\frac{7}{8} = \frac{\quad}{24}$$

$$\frac{35}{49} = \frac{\quad}{21} = \frac{25}{\quad}$$

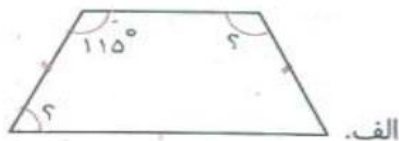
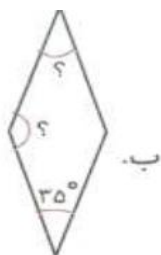
۳

مریم ۳۰۰۰ تومان بیشتر از ستاره پول دارد. اگر نسبت پول مریم به ستاره ۶ به ۵ باشد. پول هر کدام را حساب کنید؟
مجموع پول هر دو نفر چقدر است.

۲۶٪ دانش آموزان یک مدرسه عینک می زنند. اگر تعداد دانش آموزان ۳۵۰ نفر باشد حساب کنید
- چند نفر عینک می زنند؟
- چند نفر عینک نمی زنند؟

$\frac{3}{5}$ دانش آموزان یک مدرسه ۴۵۰ نفری به اردو رفته اند.
چند نفر از دانش آموزان به اردو رفته اند؟
چند نفر به اردو نرفته اند؟

اندازه علامت سوال را به دست آورید.



۴

در این قسمت چیزی ننویسید.

باز خورد معلم:

در این قسمت چیزی ننویسید.

با آرزوی موفقیت برای شما