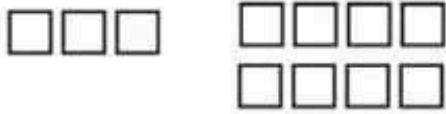



۱- برای شکل‌ها جمع یا تفریق بنویس.



.... + =



.... - =

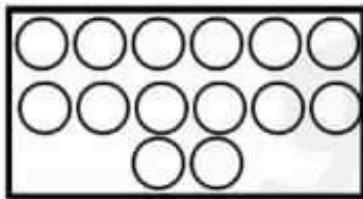
۲- علامت مناسب (>=<) قرار بده.

۱۲ □ ۷+۲


۱۰ □ ۳+۸

۷-۰ □ ۹-۲

۳- در هر قسمت با توجه به عدد کنار شکل‌ها، با کشیدن خط، دسته‌بندی کن و جملات را کامل کن.



... دسته‌ی ده‌تایی و ... یکی ۵۰



... دسته‌ی سه‌تایی و ... یکی ۳


۴- اعداد قبل و بعد هر عدد را بنویس.

۱-۲- - -۵- - -۹

۱۱- - - -۱۷- -۱۹

۵- هر عدد را با چوب خط نشان بده.

۱۳



۱۸



۶- جواب هر عبارت را با کشیدن چوب خط بدست بیاور.

$$۲+۵+۴=...$$

$$۴+۶+۱+۳=...$$

۷- با کمک محور عبارات را حل کن.

$$۹+۳=...$$



$$۱۳-۷=...$$



انتظارات	خخ	خ	قق	نت
جمع و تفریق با شکل را انجام می دهد.				
علامت مناسب بین عبارات قرار می دهد.				
دسته بندی را درست انجام می دهد.				
توالی اعداد را می داند.				
چوب خط های متوالی را می تواند بکشد.				
عبارات را روی محور حل می کند.				
بازخورد آموزگار:				