

به نام خدا

نام دبستان :
فصل ششم
تاریخ :

ارزشیابی مستمر ریاضی پایه ی دوم

نام و نام خانوادگی :
کلاس :
آموزگار: مریم عباسی

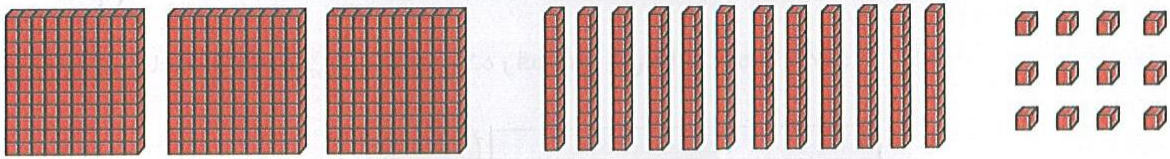
۱- در کدام یک از گزینه های زیر ، ارزش رقم ۷ از همه بیشتر است ؟

۷۳۲(پ)

۳۷۲(ب)

۳۲۷(الف)

۲- تا می توانی دسته ده تایی و صدتایی درست کن ، سپس عددی را که شکل نشان می دهد بنویس.



صدتایی	ده تایی	یکی
.....

با رقم:

با حروف:

۳- در جای خالی علامت « < = > » بگذار .

۱۱۹ ۱۹۱

۹۹ + ۱ ۱۰۰

۶۰۰ - ۳۰۰ ۳۰۰ + ۱۰۰

۸۵۷ ۷۸۵

۴- سارا ۵ سکه ی ۱۰۰ ریالی و ۴ سکه ی ۱۰ ریالی و ۳ سکه ی ۱ ریالی داشت. برادرش به او یک سکه ی ۲۵۰ ریالی و یک سکه ۵۰ ریالی داد. حالا سارا چند ریال پول دارد؟ (شکل بکش)

۵- حاصل جمع و تفریق های زیر را بنویس.


$۳۰۰ + ۲۰ + ۶۰۰ =$

$۵۳۰ - ۲۰۰ =$


$۱۰۰ + ۲۰۰ + ۳۰ + ۳۰۰ + ۷ =$

$۷۶۰ - ۶۰۰ =$


۶ - با رقم های ۴ و ۱ و ۹ هر چه می توانی عدد سه رقمی بساز و بنویس. (باتکرار)



حالا عددهای بالا را از کم تر به بیشتر مرتب کن و بنویس.



در بین عدد های بالا عدد هایی را بنویس که رقم های آن ها مثل هم باشد.




۷ - حاصل جمع و تفریق زیر را بنویس ۰ (به روش تکنیکی)

275	509	388	730
$+ 654$	$- 148$	$+ 452$	$- 410$
<hr/>	<hr/>	<hr/>	<hr/>

۸ - قد مادر حامد ۱۷۵ سانتی متر است . اگر حامد ۳۶ سانتی متر از مادرش کوتاه تر باشد، اندازه ی قد حامد چقدر است ؟

۹ - ابتدا قسمت های مساوی را از دو طرف حذف کن ، سپس مقایسه کن.

$100 + 20 + 200 + 30 + 300 + 7$ $100 + 100 + 2 + 5 + 300 + 30$



فرزندم با تلاش، کوشش و توکل به خدا موفق خواهی شد.

