


به نام خدا

تاریخ:


تم ۲۱

نام و نام خانوادگی:


در هر قسمت بادکنک مربوط به عدد مناسب را رنگ بزن.




چهل و پنج




هشتاد و دو




نوزده




شصت و نه




سی و هشت




سیست و سه




هفتاد و یک



پنجاه و شش



نود و چهار



هشتاد و نه

نوشتن عددها را ادامه بده.

۳۵ - ۳۶


۸۷ - ۸۸

۵۴ - ۵۵

۱۶ - ۱۷

نظر آموزگار:





به نام خدا

تاریخ:

تم ۲۱

نام و نام خانوادگی:

بارنگ کردن شکل ها، جواب را پیدا کن و بنویس.



$$۸ + ۵ + ۳ =$$



$$۶ + ۴ + ۵ =$$



$$۹ + ۲ + ۹ =$$

جواب ها را به صورت ذهنی پیدا کن و بنویس.

$$۳۰ + ۲۰ + ۱۰ = \bigcirc$$

$$۱۰ + ۳۰ + ۱۰ = \bigcirc$$

$$۱۰ + ۱۰ + ۱۰ = \bigcirc$$

$$۵۰ + ۱۰ + ۱۰ = \bigcirc$$

$$۴۰ + ۳۰ + ۱۰ = \bigcirc$$

$$۲۰ + ۲۰ + ۲۰ = \bigcirc$$


مسئله را با کشیدن چوب خط حل کن.

افسانه ۶ مداد رنگی داشت. مریم ۳ مداد و آزاده ۵ مداد دیگر به او داد.

افسانه چند مداد دارد؟ افسانه مداد دارد.

نظر آموزگار:






به نام خدا

تاریخ:

تم ۲۱

نام و نام خانوادگی:

مدادها را با توجه به راهنما رنگ بزن.



مداد شماره ۱ آبی

مداد شماره ۲ قرمز

مداد شماره ۳ سبز

مداد شماره ۴ نارنجی

مداد شماره ۵ قهوه ای

جمله ها را با کلمه ی مناسب (کوتاه تر - بلندتر - کوتاه ترین - بلندترین - هم اندازه) کامل کن.

مداد سبز از مداد آبی است. مداد قرمز با مداد قهوه ای است.

مداد نارنجی از مداد قرمز است.

مداد سبز مداد است. مداد نارنجی مداد است.

حالا مداد رنگی های خودت را به ترتیب از کوتاه به بلند و از سمت چپ مرتب کن و با توجه به آن ها به سوالات جواب بده.

مداد آبی من از مداد قرمز است.

مداد صورتی من از مداد زرد است.


مداد من با مداد رنگم هم اندازه است.

از بین مداد رنگی های من، مداد بلندترین مداد است.

از بین مداد رنگی های من، مداد کوتاه ترین مداد است.

نظر آموزگار:





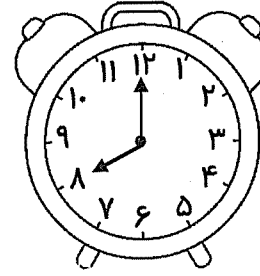
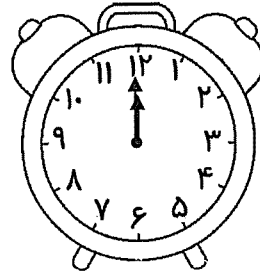
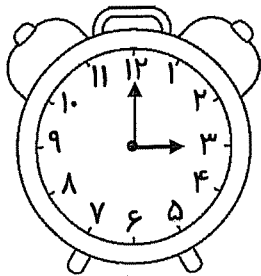
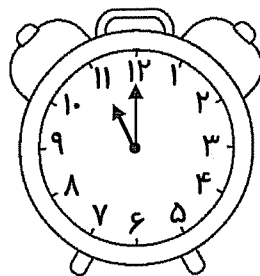
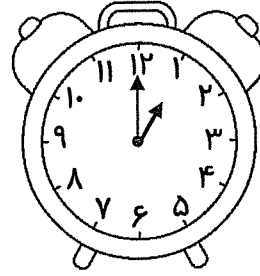
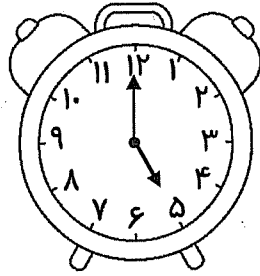
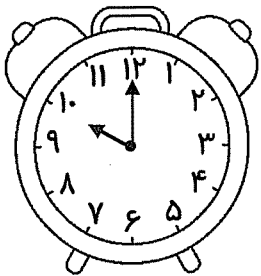
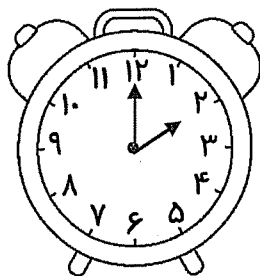
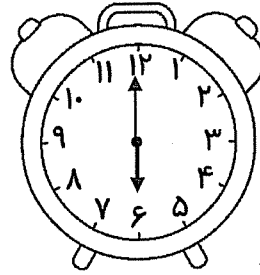

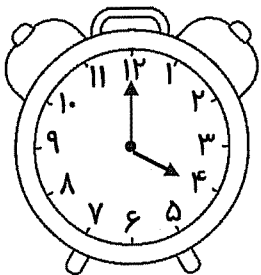
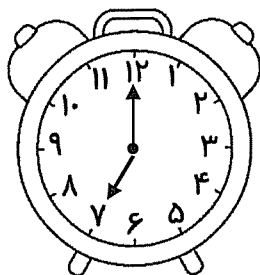
به نام خدا

تاریخ:

تم ۲۱

نام و نام خانوادگی:

زمانی که هر ساعت نشان می دهد را بنویس.



الگوی شمارش را ادامه بده.

.....

نظر آموزگار:

