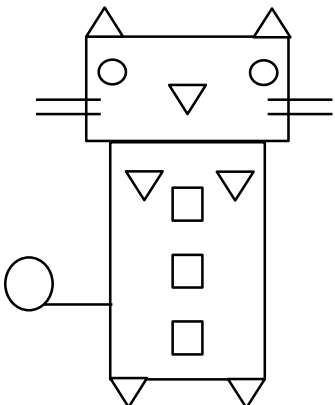


۱ به شکل با دقت نگاه کن و جدول را کامل کن، سپس شکل را به سلیقه ی خودت رنگ کن.



تعداد مستطیل ها : .....

تعداد دایره ها : .....


تعداد مربع ها + تعداد دایره ها : .....

تعداد مربع ها : .....

تعداد مثلث ها + تعداد مستطیل ها : .....

تعداد مثلث ها : .....

۲ برای شکل روبه روی یک مسئله بنویس. سپس آن را حل کن.



۲



۳ هر جمله را به ساعت مربوط به خود وصل کن.

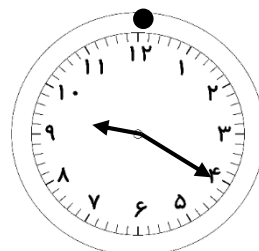
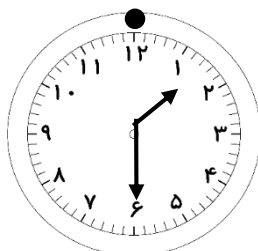
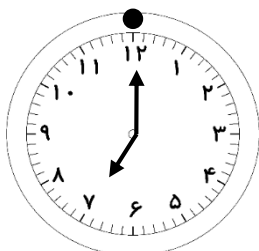
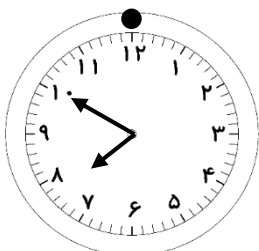
۳

بین ساعت ۱ و ۲ بعد از ظهر  
ناهار خوردم.

ساعت کمی از ۹ گذشته  
شروع به درس خواندن کردم.

کمی مانده به ساعت  
۸ صبحانه خوردم.

روز جمعه ساعت ۷  
از خواب بیدار شدم.



جاهای خالی را با کلمه ی سنگین تر یا سبک تر کامل کن.

۱) مینا ۲۸ کیلو و مینو ۳۲ کیلو وزن دارند.

مینا از مینو ..... است. مینو از مینا ..... است.

۲) سیب از هندوانه ..... است. ۳) خرس از خرگوش ..... است.

مسئله های زیر را با کشیدن چوب خط یا شکل حل کن.

۱) نیکی ۱۱ مهره ی رنگی داشت. ۷ تا مهره ی صورتی هم خرید. حالا نیکی چند مهره دارد؟

..... + ..... = ..... مهره دارد.

۲) نیکان ۱۲ سیب زرد و ۵ سیب قرمز از درخت باغ عمو حسن چید. تعداد سیب های زرد چند تا بیشتر از سیب های قرمز است؟

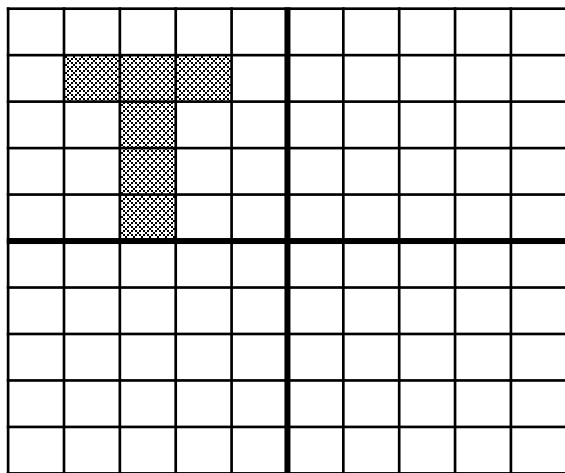
..... - ..... = ..... سیب زرد بیشتر است.

پاسخ جمع و تفریق ها را بدست بیاور و علامت < = > بگذار.


۵۰ + ۲۰ ○ ۷۰ - ۳۰      ۹۰ - ۲۰ ○ ۵۰ + ۲۰      ۱۰ + ۷۰ ○ ۹۰ - ۳۰

۳۰ + ۲۰ ○ ۴۰ + ۱۰      ۵۰ + ۱۰ ○ ۴۰ + ۳۰      ۶۰ - ۱۰ ○ ۸۰ - ۲۰

۷) چهار قسمت شکل را مثل هم رنگ کن. سپس تعداد خانه های رنگی در هر قسمت را جمع کن و پاسخ را بنویس.



..... + ..... + ..... + ..... = .....



با اولی ها

Baavaliha.blog.ir

@BaaAvaliha

مهید مهدی فانی

نظر آموزگار:

