

به نام خدا

نام و نام خانوادگی:

تاریخ:

تم ۱۹

در جدول و جای خالی عدد مناسب بنویس.

	یکی ده تایی

	یکی ده تایی

	یکی ده تایی

	یکی ده تایی

	یکی ده تایی

	یکی ده تایی

	یکی ده تایی

	یکی ده تایی


	یکی ده تایی

نوشتن عددها را ادامه بده.

<u> ۱۰ </u>	<u> ۲۰ </u>	_____	_____	_____	_____	_____	_____
---------------	---------------	-------	-------	-------	-------	-------	-------

نظر آموزگار:





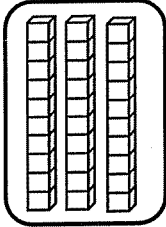
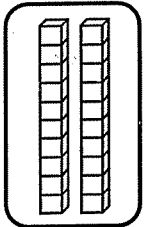
به نام خدا

نام و نام خانوادگی:

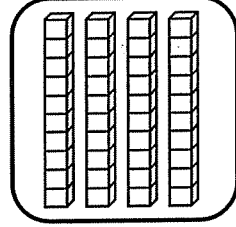
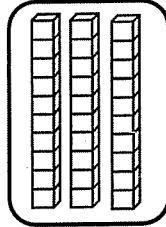
تاریخ:

تم ۱۹

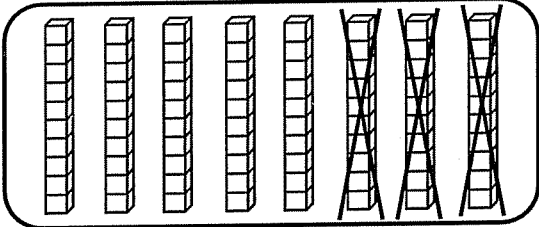
با توجه به شکل، عبارت جمع یا تفریق بنویس.



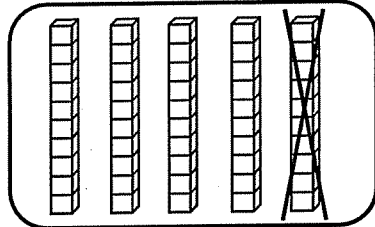
$$\square + \square = \square$$



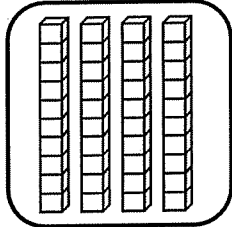
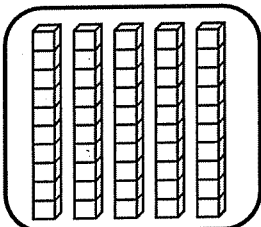
$$\square + \square = \square$$



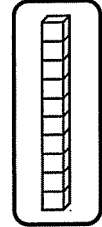
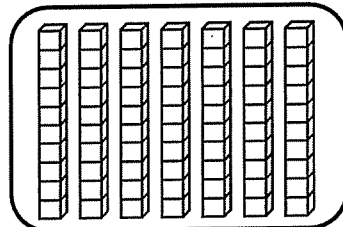
$$\square - \square = \square$$




$$\square - \square = \square$$



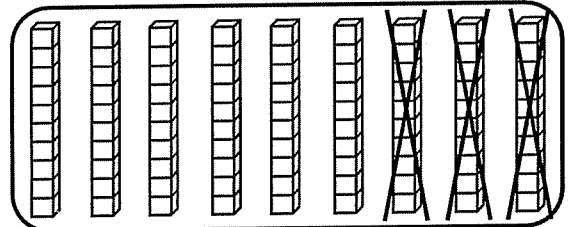
$$\square + \square = \square$$



$$\square + \square = \square$$




$$\square - \square = \square$$



$$\square - \square = \square$$

نظر آموزگار:





به نام خدا

تاریخ:


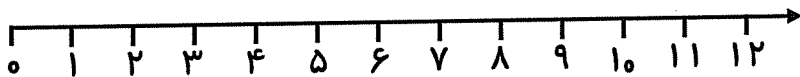
تم ۱۹

نام و نام خانوادگی:

برای هر مسئله شکل ساده بکش. با استفاده از محور جواب را پیدا کن

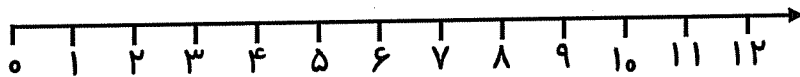
آزاده ۶ کتاب داستان داشت. ۳ کتاب دیگر هم خرید.

حالا چند کتاب دارد؟



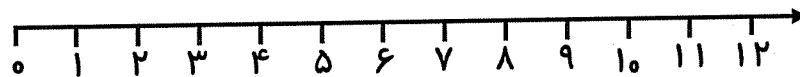
۱۰ میمون در جنگل بازی می کردند. ۴ تا از آن ها رفتند.

حالا چند میمون مانده است؟



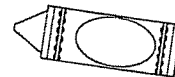
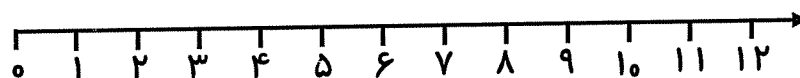
۵ سیب زیر درخت افتاده بود. ۴ سیب دیگر هم افتاد.

چند سیب از درخت افتاده است؟




فرزاد ۱۲ ماژیک داشت. ۳ تا از آن ها را گم کرد.

حالا فرزاد چند ماژیک دارد؟



نظر آموزگار:





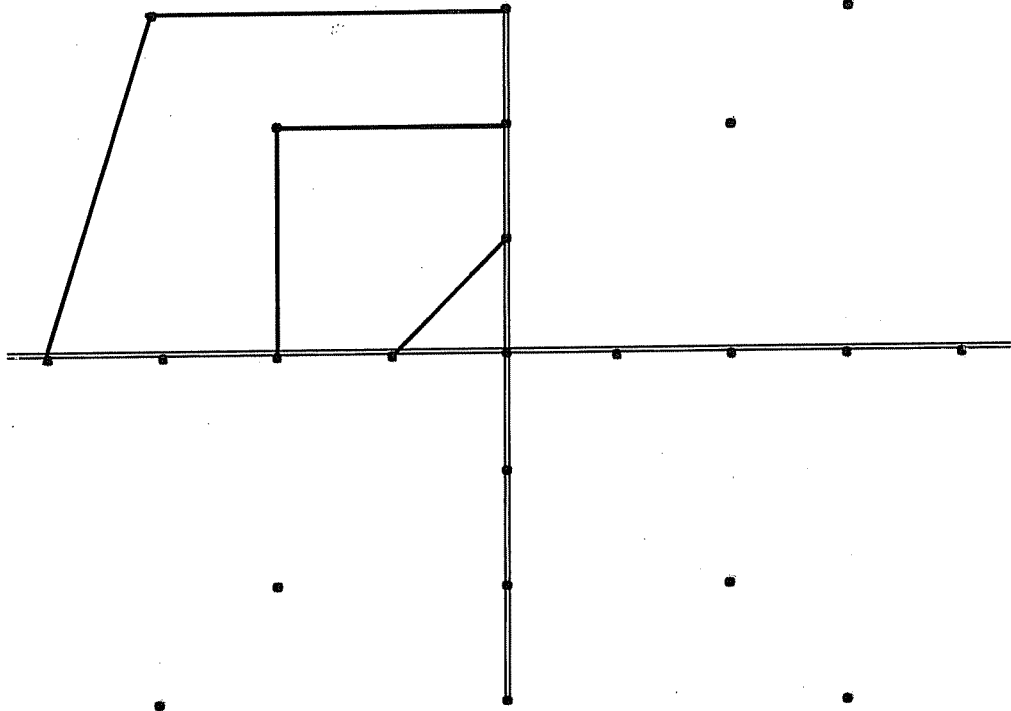
به نام خدا

نام و نام خانوادگی:

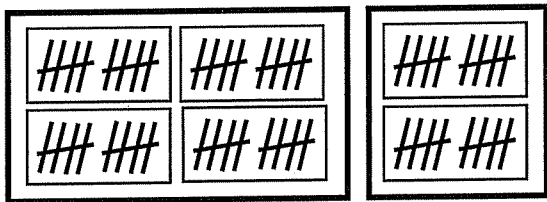
تاریخ:

تم ۱۹

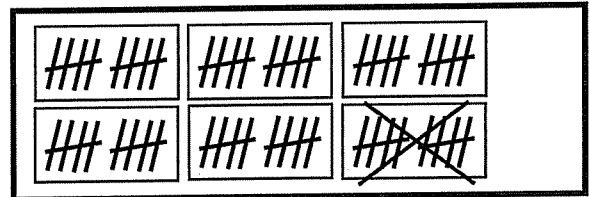
نقطه های سمت راست را مانند سمت چپ به هم وصل کن. سپس نقطه های پایین را مثل بالا وصل کن.



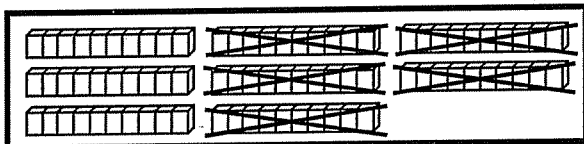
جمع یا تفریق کن. جواب ها را مقایسه و علامت مناسب را انتخاب کن.



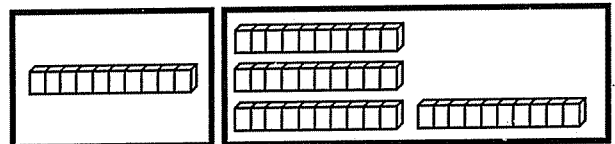
+ =



- =



- =



+ =

نظر آموزگار:

