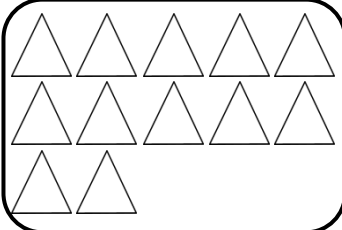

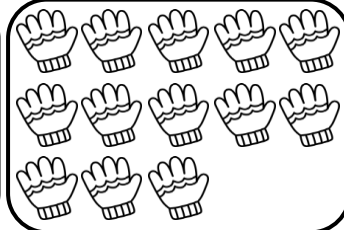



نام زیبای من: .....

تاریخ: .....

۱- ابتدا دسته بندی کن و بعد جاهای خالی را با عدد مناسب کامل کن.



دسته ی ۳ تایی و  
یکی


دسته ی ۹ تایی و  
یکی

دسته ی ۶ تایی و  
یکی

دسته ی ۵ تایی و  
یکی

۲- ابتدا مربع شگفت انگیز را کامل کن و سپس درجدول سمت چپ خانه ها را طوری رنگ کن که دو نیمه مثل هم باشند.


۹	۱	۸	۵	۶	۳	۲	۷	۴
۷		۶		۲		۳		۸
۴	۲	۳	۷	۱	۸	۹	۵	۶
۲	۶	۵	۱	۸	۴	۷	۹	۳
۸		۱		۳		۴		۲
۳	۴	۹	۶	۷	۲	۱	۸	۵
۱	۳	۲	۸	۹	۶	۵	۴	۷
۶		۴		۵		۸		۱
۵	۸	۷	۳	۴	۱	۶	۲	۹



۳- اعداد ۱۰ تا ۱۹ را به ترتیب بنویس.

۴- جمع و تفریق ها را روی شکل نشان بده. ( برای جمع ها از ۲ رنگ و برای تفریق ها از یک رنگ استفاده کن.)

$7 + 1 = \text{----}$	
$8 + 2 = \text{----}$	
$9 - 4 = \text{----}$	
$6 - 5 = \text{----}$	

۵- الگوهای زیر را ادامه بده.

۵   ۱۰   ۵  

سا   س   ش   ش  

۶- حاصل جمع ها و تفریق های زیر را به دست بیاور.

$9 - 5 = \bigcirc$	$5 - 0 = \bigcirc$	$9 + 0 = \bigcirc$	$2 + 7 = \bigcirc$
$10 - 3 = \bigcirc$	$3 - 3 = \bigcirc$	$8 + 2 = \bigcirc$	$4 + 4 = \bigcirc$
$6 - 1 = \bigcirc$	$4 - 2 = \bigcirc$	$5 + 1 = \bigcirc$	$3 + 5 = \bigcirc$

۷- با توجه به شکل جدول ها را کامل کن.

 <table border="1"> <tr> <td>ده تایی</td> <td>یکی</td> </tr> <tr> <td> </td> <td> </td> </tr> </table>	ده تایی	یکی			 <table border="1"> <tr> <td>ده تایی</td> <td>یکی</td> </tr> <tr> <td> </td> <td> </td> </tr> </table>	ده تایی	یکی			 <table border="1"> <tr> <td>ده تایی</td> <td>یکی</td> </tr> <tr> <td> </td> <td> </td> </tr> </table>	ده تایی	یکی			 <table border="1"> <tr> <td>ده تایی</td> <td>یکی</td> </tr> <tr> <td> </td> <td> </td> </tr> </table>	ده تایی	یکی		
ده تایی	یکی																		
ده تایی	یکی																		
ده تایی	یکی																		
ده تایی	یکی																		

بازخورد آموزگار



خود سنجی

