

کاربرگ شماره ۱ ریاضی. (مرور فصل ۱) پایه سوم

۱- الگوهای زیر را کامل کنید.

الف) ۱، ۳، ۷، ۱۵،،،

ب) ۷۵، ۶۰، ۴۵،،

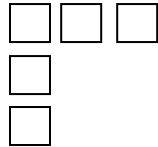
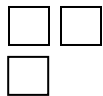
ج) ۳۰، ۲۴، ۱۸،،

د) ۱۴، ۲۱، ۲۸،،

ه) ۲۵، ۲۲، ۲۴، ۲۱، ۲۳، ۲۰،،

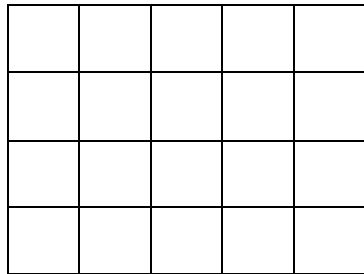
و) ۸، ۹، ۱۱، ۱۴،،

۲- الگوی زیر را کامل کنید



?

۳- تعداد مربع های زیر را به روش چندتا چندتا به دست بیاور



روش اول.....

روش دوم.....

روش سوم.....

روش چهارم.....

۴- قطار تهران- شیراز ساعت ۱۲ بعد از ظهر از تهران حرکت کرد و پس از ۹ ساعت به شیراز رسید. این قطار در چه ساعتی به شیراز رسیده است.

۵- یک برنامه تلویزیونی در ساعت ۱۱ صبح شروع شد و در ساعت ۳ بعد از ظهر به پایان رسید. مدت زمان پخش این برنامه چند ساعت بوده است؟

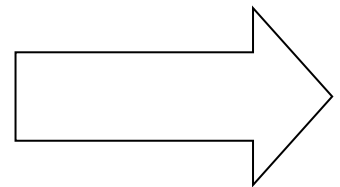

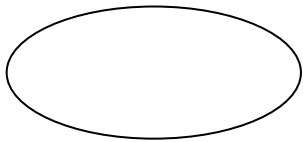
۶- مدرسه ای ۶ کلاس دارد. که در هر کلاس ۱۲ نیمکت وجود دارد. در این مدرسه چند نیمکت وجود دارد؟ رسم جدول

کلاس	
نیمکت	

۶- هر شبانه روز ساعت است که ساعت آن قبل از ظهر و ساعت آن بعد از ظهر است.
ساعت ۸ بعد از ظهر میشود ساعت ساعت ۲۲ همان ساعت بعد از ظهر است.
بعد از ساعت ۱۲ ظهر میشود ساعت که همان ساعت بعد از ظهر است.

۷- یک دانش آموز روز اول ۱۰ دقیقه مطالعه می کند. اگر او هر روز ۵ دقیقه بیشتر مطالعه کند پس از چند روز می تواند ۴۵ دقیقه مطالعه کند؟ رسم جدول

۸- خط تقارن شکل های زیر را رسم کنید.



۹- کتابی ۲۶۰ صفحه دارد. امیر حسام هر روز ۲۰ صفحه از آن را مطالعه می کند.
بعد از گذشت یک هفته چند صفحه مطالعه می کند؟
۲۰۰ صفحه را در چند روز مطالعه می کند؟
کل کتاب را در چند روز مطالعه میکند؟