

کاربرد تفریق

تفریق‌ها را روی شکل نشان بده و جواب را بنویس



۷ -

۴ =



۶ -

۳ =




۵ -

۳ =



۴ -

۳ =



۳ -

۳ =



کاربرد تفریق



۸. برای هر شکل تفریق بنویس و جواب را به دست یاور.


$$\begin{array}{c} \text{Blue cubes} \\ \text{Pink cubes} \end{array} - = \square \quad - = \square$$

$$\begin{array}{c} \text{Green cubes} \\ \text{Yellow cubes} \end{array} - = \square \quad - = \square$$

$$\begin{array}{c} \text{Yellow cubes} \\ \text{Blue cubes} \end{array} - = \square \quad - = \square$$

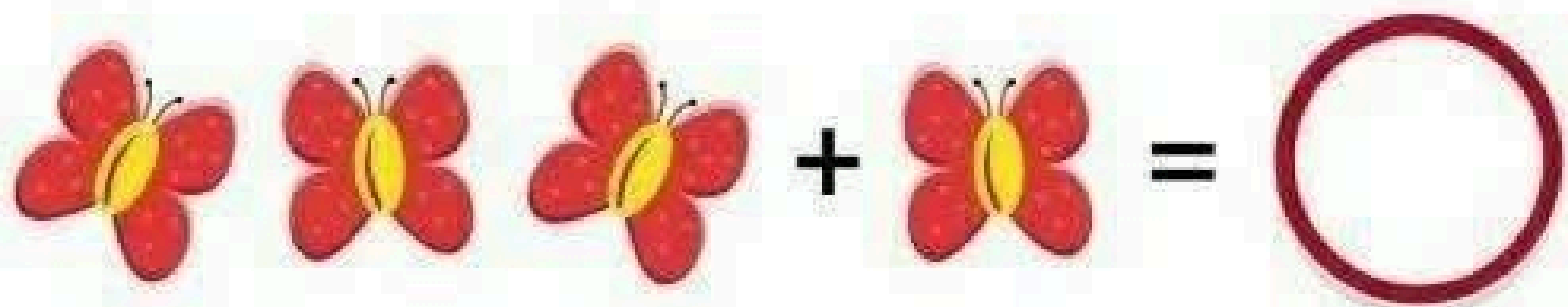


$$\begin{array}{c} \text{Pink cubes} \\ \text{Green cubes} \end{array} - = \square \quad - = \square$$

جواب تفریق ها را بنویس






	-		==	
	-		==	
	-		==	
	-		==	
	-		==	

جمع و تفریق های مربوط به شکل را بنویس







عزيزم براي هر تصوير يک داستان بگو و
تفريق مربوط به داستانت را بنويس .




-

=



-

=



به نام خدا

کار برگ تفریق

مازینم . تفریق ها را روی شکل نشان بده و جواب را بنویس .



$$۲ - ۲ =$$



$$۳ - ۱ =$$



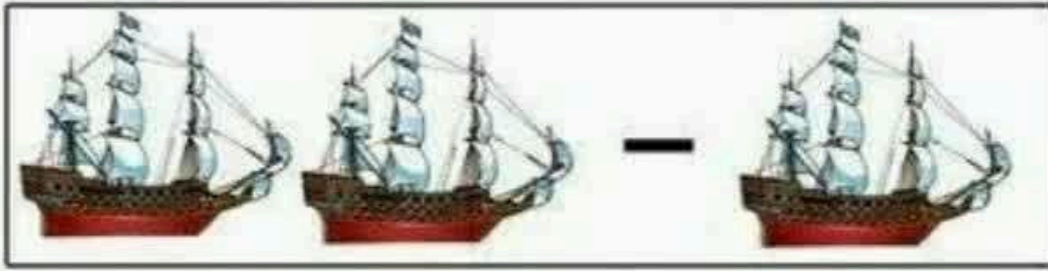
$$۶ - ۲ =$$



$$۴ - ۱ =$$

کاربرگ تفریق

برای شکل ها تفریق بنویس .




=



=




=



=



=



=

معلم مربوطه:

سرکار خانم میرشقیعی

به نام خداوند دوستدار کودکان

دبستان غیردولتی نفیس

آموزش و پرورش ناحیه ۲ کرج

جمع و تفریق

با نقطه ها

نقطه های هر کلمه را جداگانه شما رو در جای خالی جمع مناسب آن را بنویس.

(جمع عددی ۱۰)

..... + = میوه ی شیرین + شربت

..... + = تخت خواب + شیر شتر

..... + = پیش دکتتر + سپاس گذاری

برای هر کلمه با توجه به نقطه های خودش جمع بنویس.

مشهد + شیراز + چسب

..... + + =

چوپان + سوپ + نجار

..... + + =

تشکر + قناد + رفتند

..... + + =

به اندازه ی نقطه های کلمه ی دوم از کلمه ی اول کم کن و یک تفریق بنویس.

..... = پسر - پدرش

..... =

..... = کوچ - پر کشیدند

..... =

..... = خواهر - خوابید

..... =

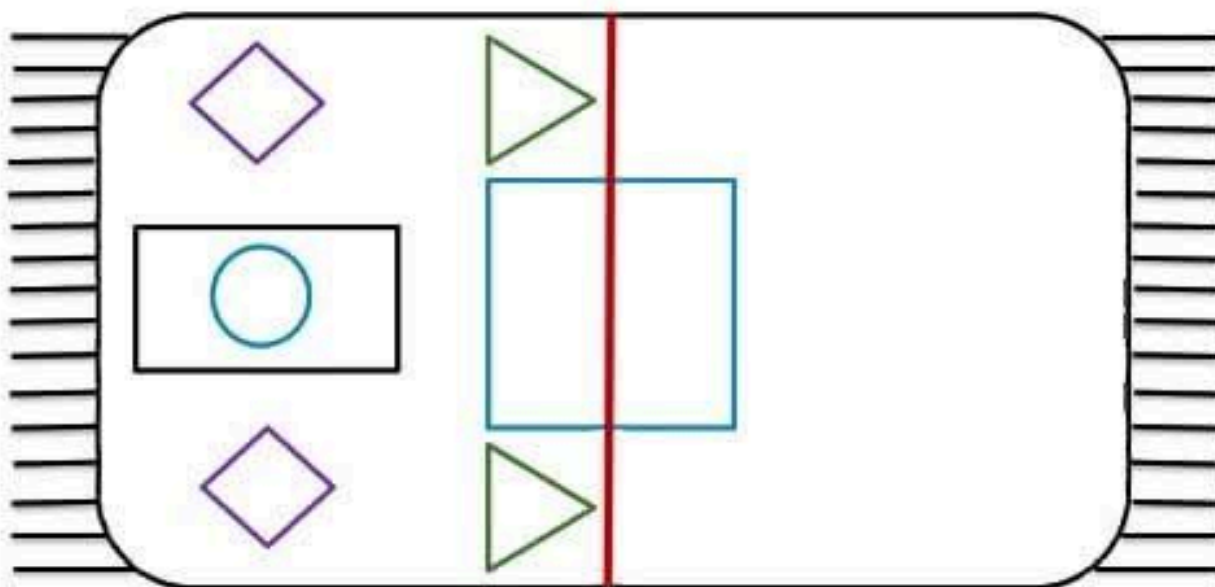
پسرم ، چند تا سیب بودند؟ چندتا روی زمین افتاده است ؟ چندتا روی درخت باقی مانده است ؟
برای آن یک تفریق بنویس .



..... - =



عزیزم با شابلون سمت راست فرش را کامل کن که دونیمه ی آن مثل هم باشد. سپس به طور زیبا رنگ بزن .



((عزیز دلم ، شاد و پیروز باشی))

حکیم

عزیزم برای چوب خط ها یک جمع بنویس.

کیفیت

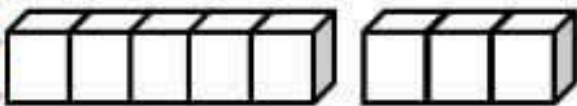


$$\dots + \dots = \dots$$



$$\dots + \dots = \dots$$

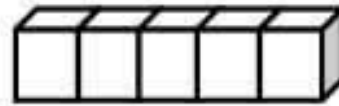
برای هر عدد از یک مدادرنگی استفاده کن و بارنگ کردن جواب جمع ها را پیدا کن.



$$2 + 1 + 5 = \dots$$



$$3 + 4 + 2 = \dots$$



$$5 + 0 + 5 = \dots$$

پسرم از علامت $<$ $=$ $>$ استفاده کن.

$$8 \star 7$$

$$5 \star 10$$

$$7 \star 4$$


$$6 - 4 \star 10 - 5$$

$$6 + 3 \star 9$$

$$6 \star 5 + 2$$

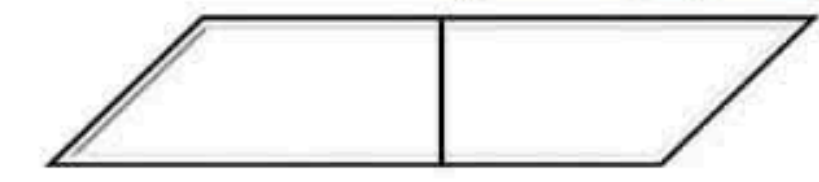
عزیزم با توجه به عدد نوشته شده کامل کن.

کلمه



دلبندم برای این جمع ها شکل بکش.

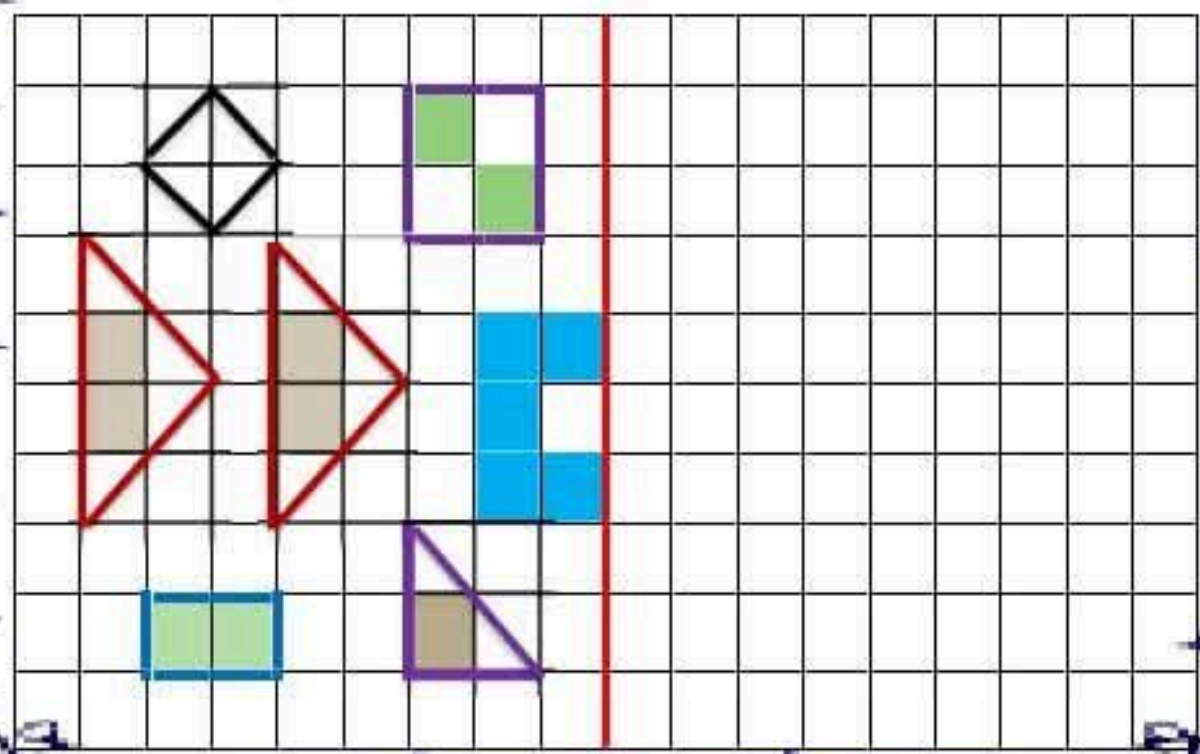
$$۲ + ۴ = \dots\dots$$



$$۵ + ۵ = \dots\dots$$



پسرم شکل را طوری کامل کن که دونیمه ی آن مثل هم باشد.



جمع های مربوط به عدد ۷ را بنویس

$۲ + \text{---} = ۷$	$۳ + \text{---} = ۷$	$۱ + \text{---} = ۷$	$۷ + \text{---} = ۷$
$۵ + \text{---} = ۷$	$۴ + \text{---} = ۷$	$۶ + \text{---} = ۷$	$۰ + \text{---} = ۷$

جمع های مربوط به عدد ۸ را بنویس

$۲ + \text{---} = ۸$	$۳ + \text{---} = ۸$	$۱ + \text{---} = ۸$	$۸ + \text{---} = ۸$	
$۶ + \text{---} = ۸$	$۵ + \text{---} = ۸$	$۷ + \text{---} = ۸$	$۰ + \text{---} = ۸$	$۴ + \text{---} = ۸$

جمع های مربوط به عدد ۹ را بنویس

$۲ + \text{---} = ۹$	$۳ + \text{---} = ۹$	$۵ + \text{---} = ۹$	$۹ + \text{---} = ۹$	$۱ + \text{---} = ۹$
$۷ + \text{---} = ۹$	$۶ + \text{---} = ۹$	$۴ + \text{---} = ۹$	$۰ + \text{---} = ۹$	$۸ + \text{---} = ۹$

جمع های مربوط به عدد ۱۰ را بنویس

$۵ + \text{---} = ۱۰$				
$۲ + \text{---} = ۱۰$	$۴ + \text{---} = ۱۰$	$۲ + \text{---} = ۱۰$	$۱ + \text{---} = ۱۰$	$۰ + \text{---} = ۱۰$
$۸ + \text{---} = ۱۰$	$۶ + \text{---} = ۱۰$	$۸ + \text{---} = ۱۰$	$۹ + \text{---} = ۱۰$	$۱۰ + \text{---} = ۱۰$

حاصل جمع و تفریق ها را پیدا کن

###///	□□□□□□□□	○○○○○○○○	
$۸ + ۶ =$	$۷ - ۵ =$	$۶ + ۳ =$	$۱۲ + ۴ + ۵ =$
$۳۰ + ۱۰ =$	$۵۰ + ۲۰ =$	$۵۵ + ۱۰ + ۵ =$	$۴۰ + ۲۰ + ۲۰ + ۵ =$
$۲۰ - ۱۰ =$	$۵۰ - ۲۰ =$	$۳۰ + ۱۰ - ۵ =$	$۶۰ + ۲۰ - ۲۰ =$
$۵۰ - ۵ =$	$۷۰ - ۵ =$	$۴۵ + ۱۰ - ۵ =$	$۹۰ + ۱۰ - ۵ - ۱۰ =$

آموزش مفاهیم ریاضی پایه اول با تمرین های متنوع جمع و تفریق

طراح: ناطقی

تاریخ: ۹۴/۲/۲۰ آموزشگاه فرهنگیان ناحیه ۶

نام و نام خانوادگی: _____

جمع های مربوط به عدد ۲ را بنویس

$۲ + \text{---} = ۲$	
$۰ + \text{---} = ۲$	$۱ + \text{---} = ۲$

جمع های مربوط به عدد ۳ را بنویس

$۲ + \text{---} = ۳$	$۰ + \text{---} = ۳$
$۱ + \text{---} = ۳$	$۳ + \text{---} = ۳$

جمع های مربوط به عدد ۴ را بنویس

$۳ + \text{---} = ۴$	$۴ + \text{---} = ۴$	
$۱ + \text{---} = ۴$	$۰ + \text{---} = ۴$	$۲ + \text{---} = ۴$

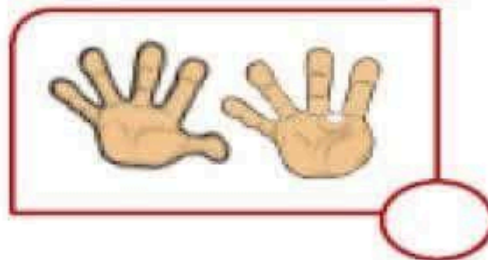

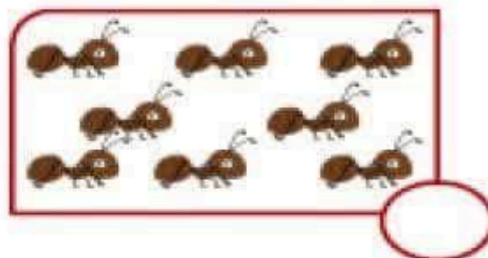
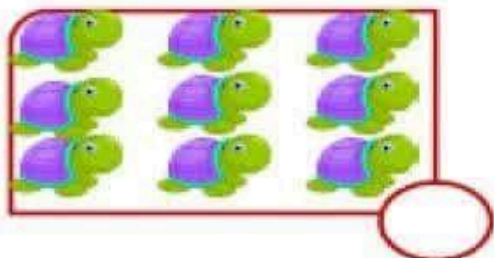
جمع های مربوط به عدد ۵ را بنویس

$۲ + \text{---} = ۵$	$۴ + \text{---} = ۵$	$۵ + \text{---} = ۵$
$۳ + \text{---} = ۵$	$۱ + \text{---} = ۵$	$۰ + \text{---} = ۵$


جمع های مربوط به عدد ۶ را بنویس

$۲ + \text{---} = ۶$	$۵ + \text{---} = ۶$	$۶ + \text{---} = ۶$	
$۴ + \text{---} = ۶$	$۱ + \text{---} = ۶$	$۰ + \text{---} = ۶$	$۳ + \text{---} = ۶$

عدد مربوط به هر دسته را بنویس.



از گیره های زیر هفت تا واز چینه ها هشت تا را رنگ کن ودر مقابل آن تعدادی را که رنگ کرده ای به عدد بنویس.



عددهای قبل وبعد هر عدد را بنویس.

	۸	
--	---	--

	۴	
--	---	--

	۷	
--	---	--

سنجه ها:

ردیف	انتظارات	کامل یاد گرفته	در حد قابل قبول یادگرفته	نیاز به آموزش مجدد دارد
۱	قادر به سرشماری مجموعه های کمتر از ۶ تا می باشد.			
۲	عدد مربوط به مجموعه های کمتر از ۶ تا را می شناسد.			
۳	عدد مربوط به مجموعه های بیشتر از ۵ تا را می شناسد.			
۴	عدد مربوط به چوب خط های ۶ تا ۱۰ را می نویسد.			
۵	عددهای قبل وبعد عدد داده شده را می نویسد.			

باز خورد معلم:

همسال سنجی:



خود سنجی:

نام و نام خانوادگی:

به نام خدا

تاریخ: ۱۳۹۹/۱۱/۲۵

پایه: اول

نمونه پرسش های: ریاضی

درس: ۱۴

دبستان: هوشمند هدف آموزگار: اکرم به دانه

۱۰- با توجه به حرکت فلش ها و علامت ها، جمع و تفریق را انجام بده و جواب را از انگشتان دست رنگ کن.

$$\boxed{\text{###}} \rightarrow (-1) \rightarrow (-3) \rightarrow (+6) = \text{Hand 1} \text{ Hand 2}$$

$$\boxed{\text{### //}} \rightarrow (-3) \rightarrow (+4) \rightarrow (-5) = \text{Hand 1} \text{ Hand 2}$$


۱۱- از هر دسته از شکل های زیر ۳ تا خط بزن و تفریق را کامل کن.



$$6 - \text{---} = \text{---}$$



$$9 - \text{---} = \text{---}$$



$$7 - \text{---} = \text{---}$$

۱۲- برای هر عدد از یک رنگ استفاده کن و با رنگ کردن جواب جمع را پیدا کن.



$$2 + 2 + 3 = \text{---}$$



$$4 + 0 + 2 = \text{---}$$



$$7 + 1 + 1 = \text{---}$$

نام و نام خانوادگی :

به نام خدا

تاریخ: ۱۳۹۹/۱۱/۲۵

پایه: اول




دبستان: هوشمندهدف

نمونه پرسش های: ریاضی

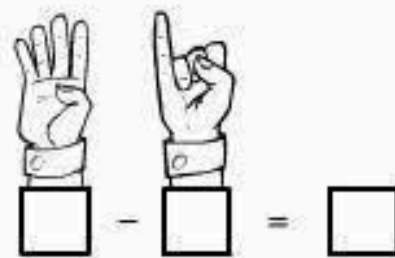
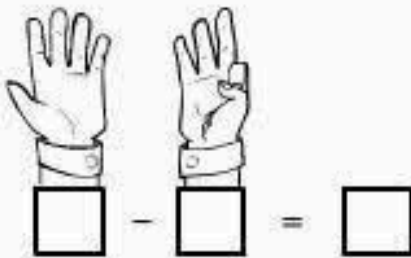
آموزگار: اکرم به دانه

درس: ۱۴


۷- به تعداد عدد نوشته شده در هر دسته از شکل ها خط بزن و باقیمانده را با چوب خط نشان بده.

	۲	➔	<input type="text"/>
	۵	➔	<input type="text"/>
	۴	➔	<input type="text"/>

۸- به تعداد انگشتانی که دست سمت راست نشان می دهد از انگشتان دست سمت چپ ببند. حالا چه عددی را نشان می دهد تفریق را بنویس.



۹- در جای خالی نام مناسب بنویس.



اسب کمی بلند تر از _____ است.

شیر کمی بلند تر از _____ است.

گوسفند کمی بلند تر از _____ است.

تاریخ: ۱۳۹۹/۱۱/۲۵

به نام خدا

نام و نام خانوادگی:

پایه: اول





نمونه پرسش های: ریاضی

درس: ۱۴

دبستان: هوشمندهدف

آموزگار: اکرم به دانه

۴- با توجه به عدد ها شکل بکش و حاصل جمع را بنویس.



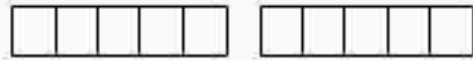
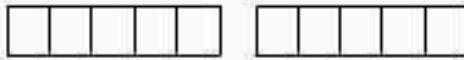
$۲ + ۵ = \text{---}$

$۴ + ۴ = \text{---}$

$۵ + ۴ = \text{---}$

$۲ + ۳ = \text{---}$


۵- سه رنگ مداد بردار و از شکل ها برای این عبارت ها رنگ بزن.



$۱ + ۲ + ۳ = \text{---}$

$۴ + ۱ + ۴ = \text{---}$

۶- با توجه به شکل روی تفریق نامناسب خط بزن.



$۶ - ۱$

$۱ - ۶$

$۷ - ۲$

$۸ - ۲$

نام و نام خانوادگی:

به نام خدا

تاریخ: ۱۳۹۹/۱۱/۲۵

پایه: اول

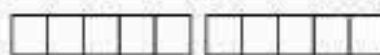

دبستان: هوشمندهدف

نمونه پرسش های: ریاضی

آموزگار: اکرم به دانه

درس: ۱۴

۱- برای هر عبارت پاسخ صحیح بنویس و شکل ها را رنگ کن.

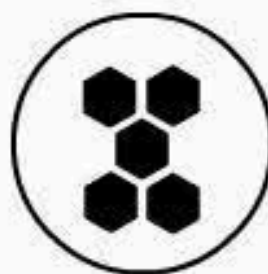




$$۴ + ۰ = \text{---}$$

$$۵ + ۵ = \text{---}$$

$$۷ + ۲ = \text{---}$$

۲- با توجه به عدد ها از شکل ها خط بزن و باقی مانده را بنویس.




$$۷ - ۲ = \text{---}$$

$$۹ - ۳ = \text{---}$$

$$۸ - ۶ = \text{---}$$

$$۵ - ۲ = \text{---}$$

۳- مانند نمونه در هر قسمت عدد بنویس و حاصل جمع را پیدا کن.



$$\text{---} + \text{---} + \text{---} = \text{---}$$

$$\text{---} + \text{---} + \text{---} = \text{---}$$