

درس دهم ، یازدهم و دوازدهم: آمادگی در برابر زلزله ، ایمنی در برابر زلزله و در زمان وقوع و بعد از زلزله چه باید کرد؟

۱- بشر با دانش کنونی خود قادر به پیش بینی زمان دقیق وقوع زلزله نیست. ص غ

۲- برنامه ریزی ، مشارکت ، همکاری و هماهنگی در پیش برد فعالیت های گروهی امری موثر و ضروری است.

ص غ

۳- برای پناه گیری حتماً از گوشه ی دیوار داخلی استفاده کنید. ص غ

۴- راه پله ها محل های مناسبی برای پناه گیری هستند. ص غ

۵- " ایمن سازی محیط مدرسه" جزء وظایف گروه ----- می باشد.

الف تدارکات و پشتیبانی ب- نجات و امداد ج- جست و جو د- آتش نشان

۶- "تهیه ی وسایل ضروری گروه های دیگر" ، وظیفه ی چه گروهی است؟

الف- آتش نشان ب- جست و جو ج- تدارکات و پشتیبانی د- نجات و امداد

۷- " بررسی ساختمان از نظر نشت گاز، قطع برق و شکستن لوله های آب" وظیفه ی گروه ----- است.

الف- تدارکات و پشتیبانی ب- جست و جو ج- نجات و امداد د- آتش نشان

۸- کدام یک از گروه های زیر با هدف کنترل و نظارت برای افزایش ایمنی تشکیل می شود؟

الف- تدارکات و پشتیبانی ب- جست و جو ج- نجات و امداد د- آتش نشان

۹- کدام یک از گروه های زیر با هدف کمک به مجروحان و مصدومان تشکیل می شود؟

الف- آتش نشان ب- جست و جو ج- تدارکات و پشتیبانی د- نجات و امداد

۱۰- کدام یک از گروه های زیر با هدف فراهم آوردن امکانات و تجهیزات مورد نیاز تشکیل می شود؟

الف- تدارکات و پشتیبانی ب- جست و جو ج- نجات و امداد د- آتش نشان

۱۱- زمانی که حادثه ای مانند زلزله رخ می دهد، شرایط عادی زندگی ما به ----- تبدیل می شود.

۱۲- برنامه ریزی، مشارکت ، همکاری و ----- در پیش برد فعالیت های گروهی امری ضروری و موثر است.

۱۳- انجام بسیاری از وظایف گروه های شورای ایمنی تنها از عهده ی امدادگران ----- بر می آید.

۱۴- ایمن سازی محیط مدرسه جزء وظایف گروه ----- می باشد.

۱۵- تمام پناه گیری ها با فرض ----- در برابر زلزله انجام می شود.

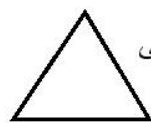
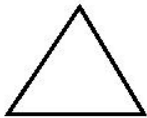
۱۶- یکی از عوامل موثر در کاهش خطرهای ناشی از زلزله را بنویسید.

۱۷- چه عواملی می تواند ایمنی جامعه را در برابر صدمات ناشی از وقوع زلزله افزایش دهد؟

۱۸- یک مورد از راه های ایمنی در برابر زلزله را شرح دهید؟

۱۹- عناصر مهم مثلث ایمنی در برابر زلزله را نام ببرید.

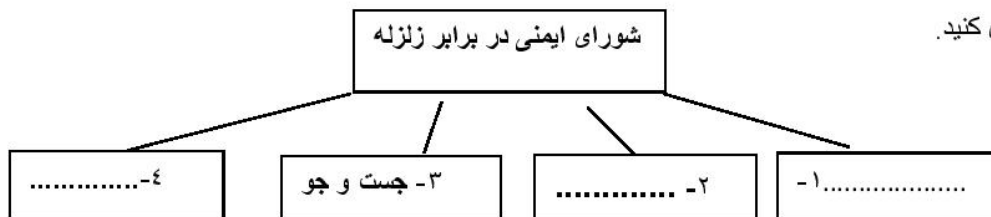
۲۰- سه عامل ایمنی جامعه در برابر صدمات ناشی از وقوع زلزله را در ضلع های مثلث بنویسید.



۲۱- عوامل مربوط به مثلث ایمنی در برابر زلزله را کامل کنید. آمادگی

۲۲- گروه های چهار گانه ی شورای ایمنی در برابر زلزله را نام ببرید؟

۲۳- نمودار را کامل کنید.



۲۴- گروه تدارکات و پشتیبانی با چه هدفی تشکیل می شود؟

۲۵- گروه نجات و امداد با چه هدفی تشکیل می شود؟

۲۶- گروه جست و جو با چه هدفی تشکیل می شود؟

۲۷- گروه آتش نشان با چه هدفی تشکیل می شود؟

۲۸- چگونه می توان محیط زندگی را در برابر زلزله ایمن سازی کرد؟ (۲ مورد)

۲۹- دو مورد از راه های ایمن سازی آزمایشگاه و کتابخانه را بنویسید.

۳۰- چهار نمونه از وسایل ضروری گروه آتش نشانی را نام ببرید.

۳۱- چگونه می توان فضای خانه را در برابر زلزله ایمن سازی کرد؟ (۲ مورد)

۳۲- در زمان وقوع زلزله چه باید کرد؟

۳۳- مکان های مناسب و نامناسب را با یکدیگر مقایسه کنید.

۳۴- دیوار داخلی به چه جایی گفته می شود؟

۳۵- پس از وقوع زلزله چه مواردی را باید رعایت کرد؟ (۲ مورد)

۳۶- به علت وجود پس لرزه ها، پس از اتمام تکان های زلزله برای نجات خود چه عملی انجام می دهید؟

۳۷- فرض کنید زلزله ای رخ داده است و شما در کتاب خانه هستید، چه محلی را برای پناه گیری انتخاب می کنید؟ (۲ مورد)

۳۸- فرض کنید زلزله ای رخ داده است و شما در آزمایشگاه هستید، مکان های مناسب و نامناسب جهت پناه گیری را بنویسید.

مکان مناسب:----- مکان نامناسب:-----

۳۹- در هنگام وقوع زلزله کدام یک از مکان های زیر مناسب و کدام نامناسب است؟

الف- زیر میز و نیمکت (-----)

ب- گوشه ی دیوار داخلی (-----)

ج- راه پله ها (-----)

د- کنار پنجره (-----)

۴۰- مکان های مناسب و نامناسب زیر را مشخص کنید.

آزمایشگاه: مکان مناسب (-----)

راهرو: مکان مناسب (-----)

کلاس درس: مکان نامناسب (-----)

آسانسور: مکان نامناسب (-----)

همکار گرامی خسته نباشید