



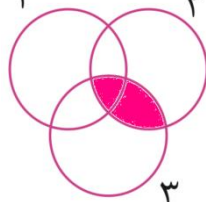
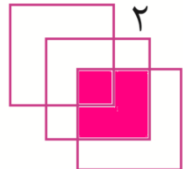

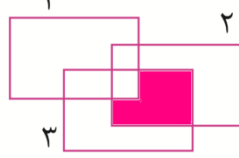
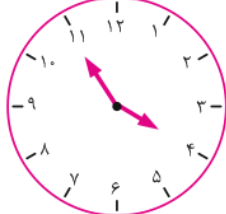
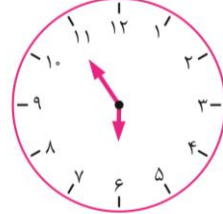




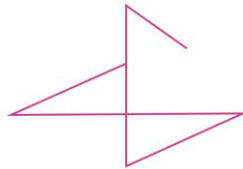
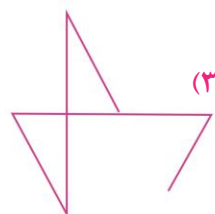

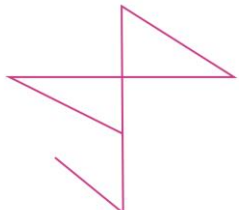
✓ در سؤال‌های ۱ تا ۵ شکل نامرتبط با دیگر اشکال را پیدا کنید.

۲ ۱۶	۳ ۸۱	$\frac{1}{4}$ $\frac{1}{۲۵۶}$	۵ ۳۷۵	-۱
۸ ۴	۲۷ ۹	$\frac{1}{۶۴}$ $\frac{1}{۱۶}$	۷۵ ۲۵	(۱)

	(۴)		(۳)		(۲)		(۱)
--	-----	--	-----	---	-----	--	-----

	(۴)		(۳)		(۲)		(۱)	-۳
---	-----	---	-----	--	-----	---	-----	----

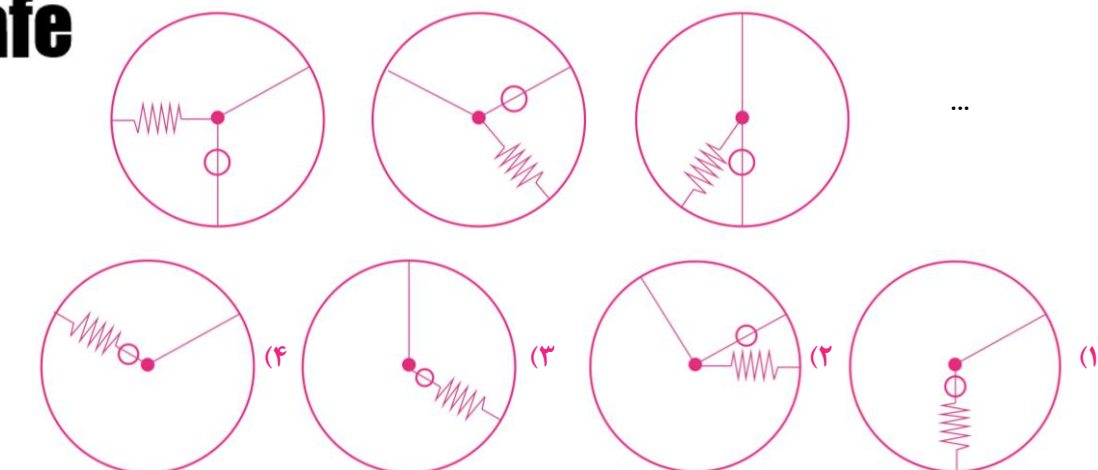
	(۴)		(۳)		(۲)		(۱)	-۴
---	-----	---	-----	--	-----	---	-----	----

	(۴)		(۳)		(۲)		(۱)	-۵
---	-----	---	-----	--	-----	---	-----	----

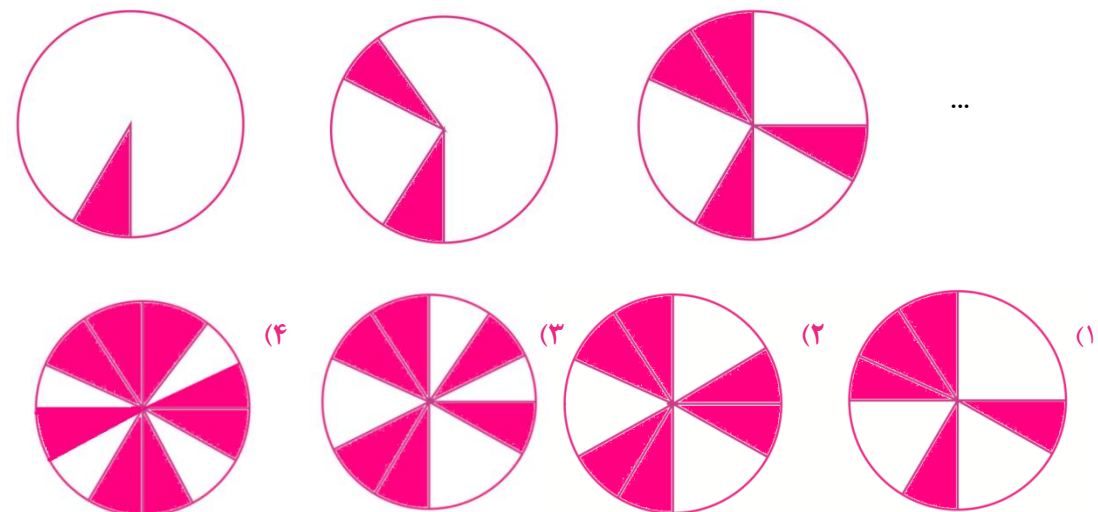
✓ در سؤال‌های ۶ تا ۱۲، با توجه به تصویر داده‌شده گزینه‌ی مناسب را برای پر کردن جای خالی انتخاب کنید.

@riazicafe

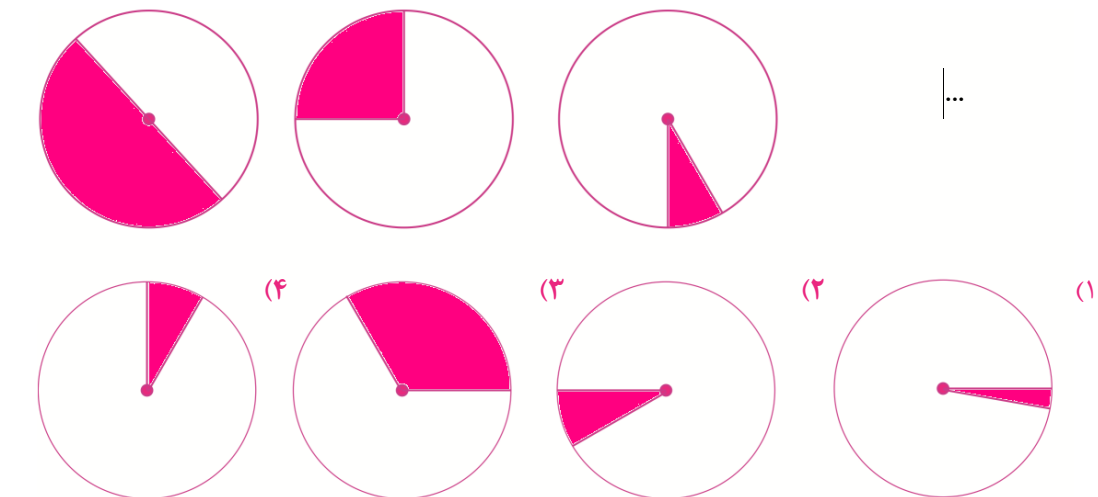
-۶

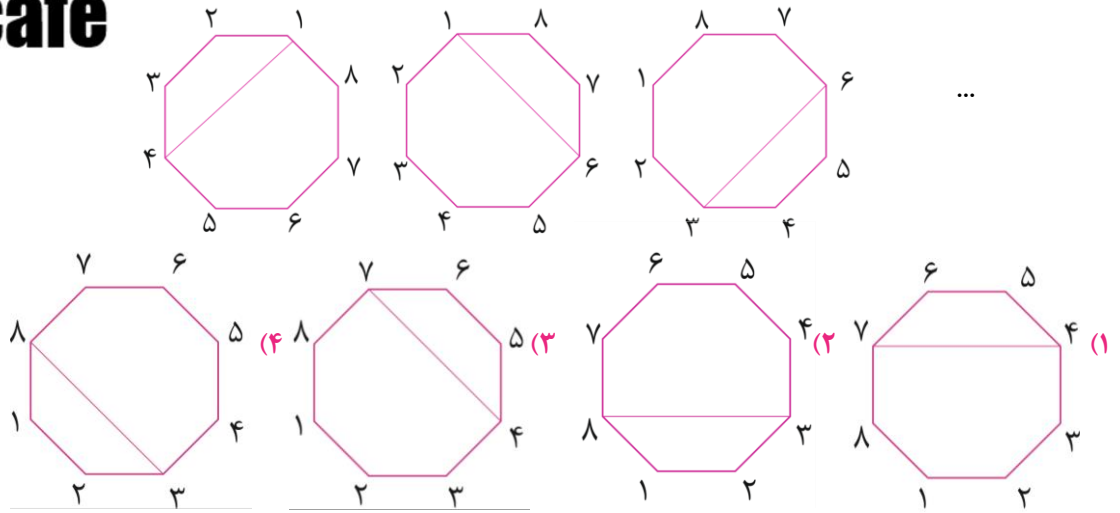


-۷



-۸



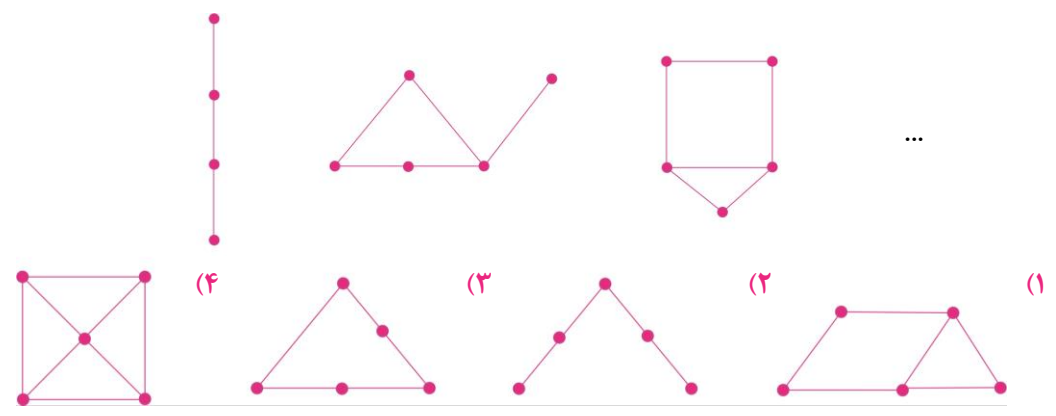


-9


۲۳۴۵۶ - ۴۹۶۵۶ - ۶۱۶۵۶ - ...

-10

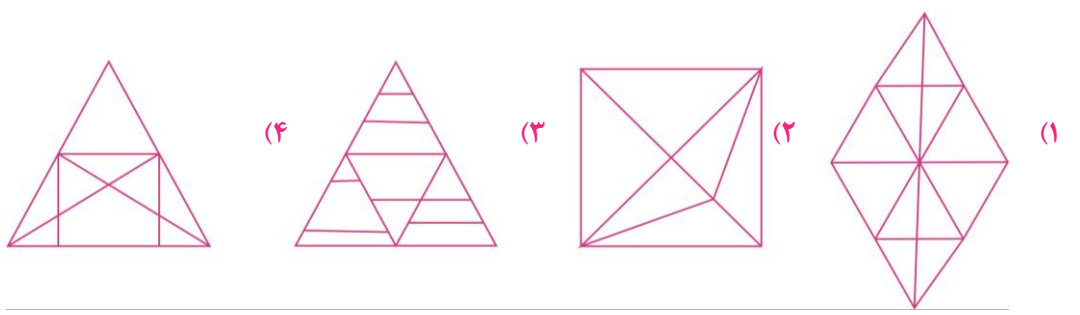
۳۶۶۵۳۶ (۴) ۳۶۶۳۶ (۳) ۶۶۵۶۵ (۲) ۶۱۶۵۶ (۱)



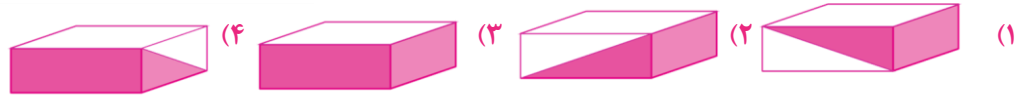

-11



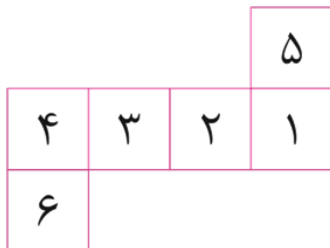
-12



۱۳- شکل روبه‌رو گسترده یک مکعب مستطیل را نشان می‌دهد. مکعب به کدام صورت زیر می‌تواند باشد؟



۱۴- شکل زیر گسترده یک تاس را نشان می‌دهد. اگر وجهی که روی آن شماره ۱ درج شده روی زمین باشد، آنگاه وجهی که روی آن شماره ۶ درج شده دقیقاً در مقابل آن قرار دارد.



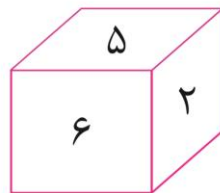
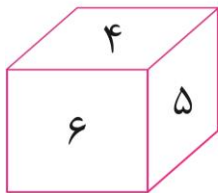
(۴) ۶-۲

(۳) ۱-۴

(۲) ۲-۵

(۱) ۳-۱

۱۵- یک تاس را دو بار پرتاب کرده‌ایم و حالت‌های زیر به‌دست آمده است؛ وجه مقابل وجه ۴ کدام است؟



(۲) ۵

(۱) ۳

(۴) ۲

(۳) ۶