

۶- با مخالف کلمات زیر جمله بساز.

می خورم: -----

روز: -----

## ریاضی

۱- هر حرف را به عدد بنویس.

سی و پنج ----- نود و دو -----

چهل ----- هشتاد و هفت -----

۲- هر یک را به حرف بنویس.

۶۰ ----- ، ۴۱ -----

۲۵ ----- ، ۵۳ -----



۳- حاصل جمع های زیر را انجام بده.

$$۱۰ + ۸ =$$

$$۱۰ + ۱۰ + ۵ + ۳ =$$

$$۶ + ۷ =$$

۴- با توجه به شکل عدد مناسب بنویسید.

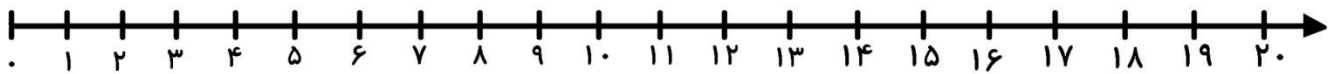


--	--

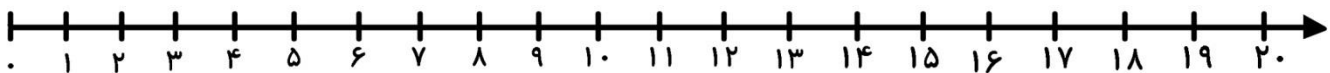


۵- با استفاده از محور حل کن.

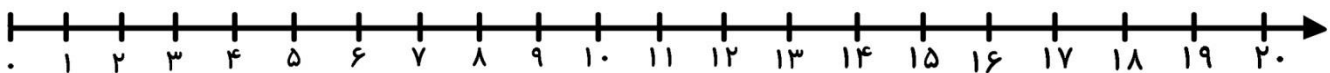
علی ۱۸ بادبادک دارد. ۷ تایی آن ها سبز هستند و بقیه قرمز هستند، چند بادبادک علی به رنگ قرمز هستند؟



۶- جمع و تفریق را روی محور نشان بده.



$$12 - 7 =$$



$$8 + 5 =$$

