


الگوهای زیر را ادامه بده.



ابتدا پاسخ عبارت ها را بنویس سپس علامت مناسب ($>$ $=$ $<$) بگذار.

$30 + 10 + 10 = \dots$ ○ $20 + 20 + 8 = \dots$

$60 - 30 = \dots$ ○ $15 + 5 + 10 = \dots$


$80 - 10 - 2 = \dots$ ○ $40 + 20 + 7 = \dots$

$17 + 3 - 10 = \dots$ ○ $15 - 5 = \dots$

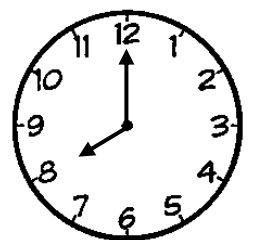
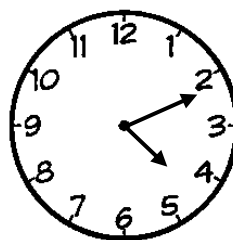
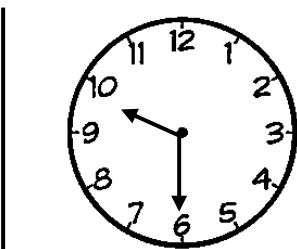

$70 + 5 + 5 = \dots$ ○ $40 + 40 = \dots$

$10 + 10 + 3 = \dots$ ○ $30 + 3 = \dots$

نیمه ی دیگر شکل را کامل کن.



با توجه به زمان نشان داده شده جای خالی را کامل کن.



ساعت به مانده است.

ساعت بین ... و است.

ساعت از گذشته است.

ساعت تمام است.

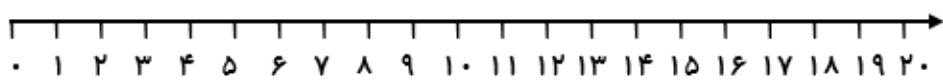
الگوهای عددی زیر را ادامه بده.

۴۵ - ۵۰ - ۵۵ - - - - - - -

۳۲ - ۳۱ - ۳۰ - - - - - - -


۵۸ - ۶۰ - ۶۲ - - - - - - -

آقای نجار دیروز ۸ صندلی و امروز ۴ صندلی ساخته است. اگر او فردا هم ۴ صندلی بسازد، در این سه روز روی هم چند صندلی می سازد؟



$$\dots + \dots + \dots = \dots$$

.... صندلی می سازد.



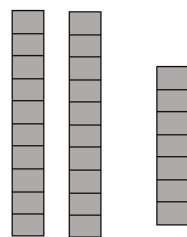
یکی | ده تایی



چوب خط :

با توجه به شکل ها جاهای خالی را کامل کن.

یکی | ده تایی



چوب خط :

پاسخ عبارت های زیر را بنویس.

$$7 + 3 = \dots \quad 25 + 5 = \dots \quad 9 + 9 = \dots \quad 8 + 6 = \dots \quad 33 + 3 = \dots$$

$$50 - 5 = \dots \quad 18 - 2 = \dots \quad 70 - 30 = \dots \quad 60 - 40 = \dots \quad 28 - 4 = \dots$$

$$50 + 20 - 10 = \dots \quad 70 + 5 + 2 = \dots \quad 80 - 40 - 5 = \dots \quad 30 + 30 - 20 = \dots$$

به عدد و حروف بنویس.

سیزده : نوزده : شصت و یک : نود و دو :

۱۴ : ۴۱ : ۲۹ : ۵۰ :

هفتاد و سه : سی و شش : هشتاد و چهار : بیست و هشت :

در این ویتترین قنّادی ۵ دسته ی ده تایی شیرینی خامه ای و ۳ دسته ی ده تایی شیرینی دانمارکی است. چند شیرینی در این ویتترین است؟..... اگر مشتری ۲ دسته ی ده تایی از شیرینی ها را بخرد، چند شیرینی باقی می ماند؟

.... شیرینی در ویتترین است. + = : مرحله ی اول

.... شیرینی باقی می ماند. - = : مرحله ی دوم